

✚ Tavukların üzerindeki işlemleri yapıp doğru yavruyu boyayalım.

15 - 7

6 8 10

38 + 4

40 41 42

26 - 9

17 18 19

67 + 5

71 72 73

41 - 5





36 37 38

59 + 8

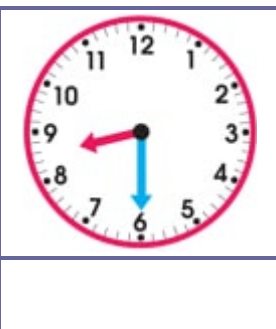
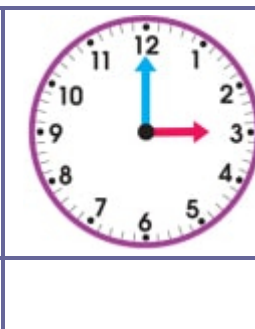
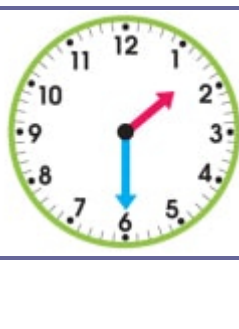
65 66 67

✚ Geometrik şekilleri istenen renklerle boyayıp, isimlerini altlarına yazınız.


Üçgen → Sarı	Kare → Mavi	Dikdörtgen → Yeşil	Çember → Pembe
--------------	-------------	--------------------	----------------



✚ Verilen saatlerin okunuşlarını altlarına yazınız.



✚ Resme bakarak sizden istenenleri yapınız.



- Koltukları açık yeşile boy.
- Halı ve sandalyeleri mora boy.
- Duvarları sarıya boy.
- Diğerlerini istediğin renge boy.

Resimde kaç tablo var? →

Burası evin hangi odası? →

Hangi hayvanı gördün? →

Masanın üstünde ne var? →

✚ Aşağıdaki cümle etkinliklerini yapınız.

DÜŞÜN VE YAZ	
Mavi renkli bir şey yaz.	
Ülkemizin adını yaz.	
En sevdiğin meyveyi yaz.	
Tehlikeli bir hayvan yaz.	
Bir tamir eşyası yaz.	
Kötü kokan bir şey yaz.	

CÜMLEYİ TAMAMLA	
Mavi renkli bisiklet	
Kahvaltıdan sonra	
Annem gömleğimi	
Büyüklerimize saygılı	
Her gün dişlerimi	
Tanımadığım insanlarla	

✚ Yazılışı doğru olan kelimeleri yeşile, yanlış olanları kırmızıya boyayınız.

pirens

eczane

çifçi

elektirik

yalnız

dakka

prens

dinazor

şöför

ezzane

dakika

şoför

elektrik

dinozor

yanlız

çiftçi

✚ Aşağıdaki iki işlemli problemleri çözünüz.

Dedemin tarlasında 15
findık ağacı, findık
ağaçlarından 6 eksik
ceviz ağacı var. Tarlada
toplam kaç ağaç var?

Çözüm

Bayramda, babam 7,
annem 9 şeker verdi.
Şekerlerimin 8 tanesini
kaybettim. Geriye kaç
şekerim kaldı?

Çözüm

23 sayısına 9 ekleyiniz.
Ardından bulduğunuz
sonuçtan kendi yaşıınızı
çıkarınız. Sonuç kaç
oldu?

Çözüm

✚ Paraların toplam miktarlarını altlarına yazınız.



✚ İşlemleri inceleyip toplama (+) veya çıkarma (-) işareti koyunuz.

9		3	=	6
---	--	---	---	---

15		7	=	8
----	--	---	---	---

8		2	=	10
---	--	---	---	----

6		5	=	1
---	--	---	---	---

29		5	=	34
----	--	---	---	----

72		9	=	81
----	--	---	---	----

✚ Her tırtılın içindeki en büyük sayıyı maviye, en küçük sayıyı sarıya boya.

