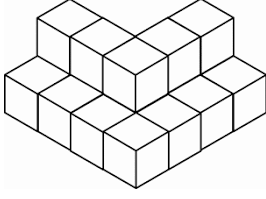


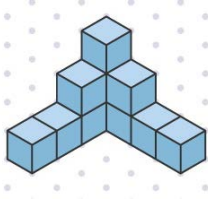
1)




Yukarıda birim küplerden oluşan yapıda kaç tane birim küp vardır?

- A) 17 B) 16
C) 15 D) 14

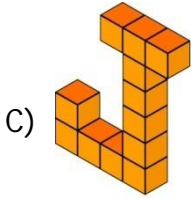
2)



Kareli kağıt üzerine çizilmiş birim küp sayısına hangi seçenekteki birim küp sayısı eşittir?

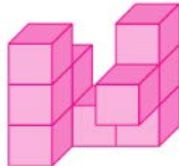


B)



D)

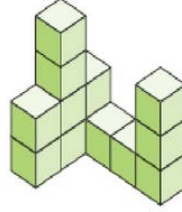
3) Yandaki yapı kaç eş küpten oluşmuştur?



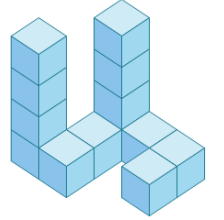
- A) 9 B) 10 C) 11 D) 12

4) Aşağıdaki birim küplerden hangisinin birim küp sayısı diğerlerinden farklıdır?


A)



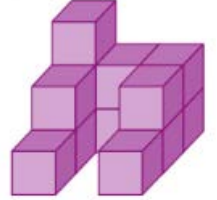
B)



C)



D)

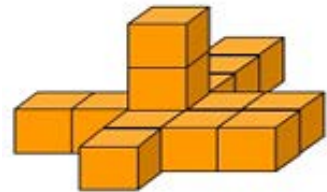


5) Yandaki şekil kaç birim küpten oluşur?



- A) 24 B) 25
C) 26 D) 27

6)



Yukarıdaki yapı kaç birim küpten oluşmaktadır?

- A) 14 B) 15 C) 16 D) 17

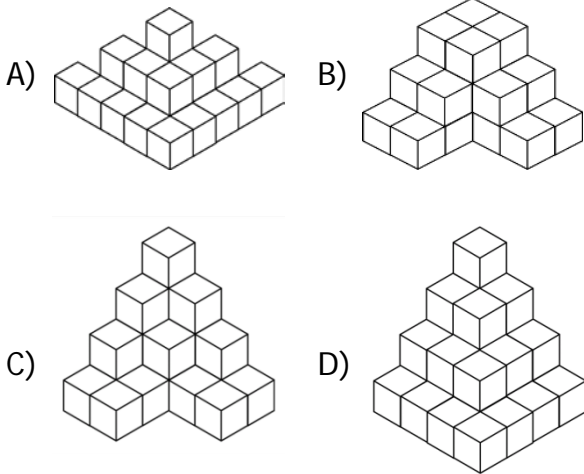
7)



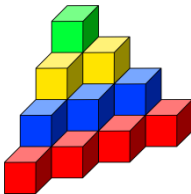
Yukarıdaki izometrik kağıda çizilen yapıya kaç eş küp daha çizersek 20 birim küp olur?

- A) 5 B) 6 C) 7 D) 8

8) Aşağıda verilen yapılardan hangisi 30 birim küpten oluşmuştur?



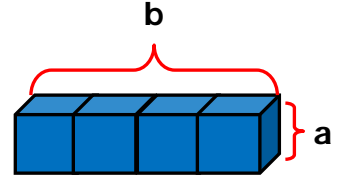
9)



Yukarıdaki yapı, her katında farklı renkte birim küpler kullanılarak oluşturulmuştur. Buna göre en alttaki kırmızı renkli birim küplerin sayısı kaç tanedir?

- A) 13 B) 12 C) 11 D) 10

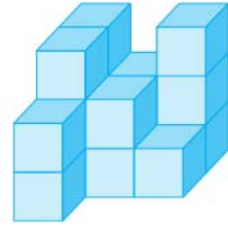
10)



Yukarıdaki şekil kenar uzunluğu 6 cm olan 4 eş küpten oluşmaktadır. Buna göre $a + b = ?$

- A) 24 B) 30 C) 36 D) 42

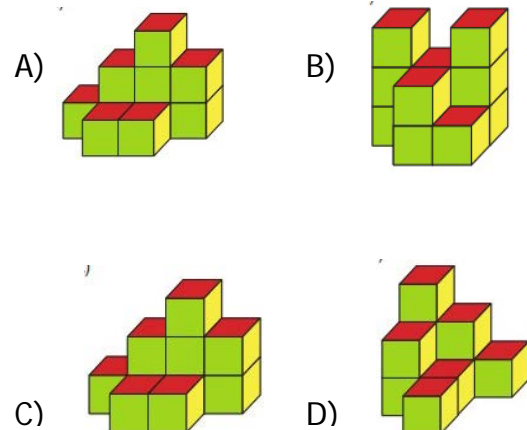
11)



Yukarıdaki yapı kaç birim küpten oluşmuştur?

- A) 14 B) 15 C) 16 D) 17

12) Aşağıdaki birim küplerden hangisinin birim küp sayısı diğerlerinden farklıdır ?



CEVAP ANAHTARI

| | |
|-------|-------|
| 1) A | 11) C |
| 2) B | 12) B |
| 3) B | 13) |
| 4) C | 14) |
| 5) D | 15) |
| 6) A | 16) |
| 7) C | 17) |
| 8) D | 18) |
| 9) D | 19) |
| 10) B | 20) |