






9) Babamın boyu, annemden 6, benden 29 cm uzundur. Benim boyum 141 cm olduğuna göre babam ile annemin boylarının uzunlukları toplamı kaç cm'dir?




13) Elif'in kaleminin boyu 21 cm'dir. Elif, kalemini kalemıraş ile her açtığında kaleminin boyu 5 mm kısalıyor. Elif, kalemini 10 kez açtığında kalemin boyu kaç cm olur?



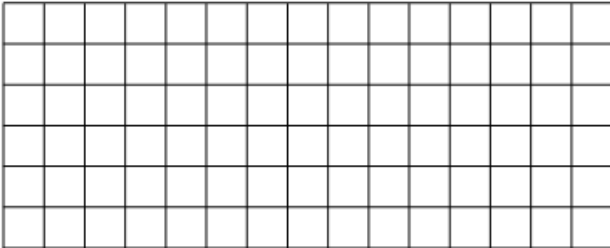
10) Emine, her biri 2 cm 5 mm olan 20 kalemıraş yan yana diziyor. Kalemıraşların uzunluğu kaç cm'dir?




14) Bir karışı 16 cm uzunluğunda olan Banu, tahtanın enini 9 karış olarak ölçmüştür. Buna göre tahtanın eni 1 m'den kaç cm uzundur?



11) Ahmet'in bir adımı 50 cm'dir. Ahmet, evden okula 124 adım atarak ulaşmaktadır. Buna göre ev ile okulun arası kaç metredir?




15) 3 m uzunluğundaki ipi 9 eş parçaya ayırınca, elimde 3 cm ip kaldı. Kestiğim ipin her bir parçasının uzunluğu kaç mm'dir?



12) Bir terzi, elindeki kumaşın  $\frac{4}{6}$  'ünü

kullanınca geriye 24 metre kumaşı kaldı.

Terzi kaç metre kumaş kullanmıştır?



16) Dedem, çevresi 5 km olan çiftliğin eski dikenli tellerini yenisi ile değiştiriyor. Dedem 3 km 164 m'lik kısmı değiştirdiğine göre geriye kaç metre değiştirilecek dikenli tel kalır?

