

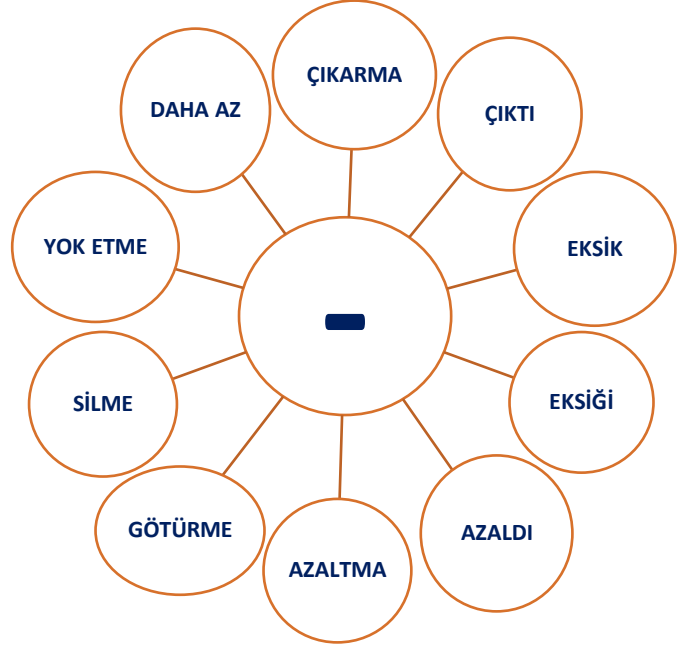
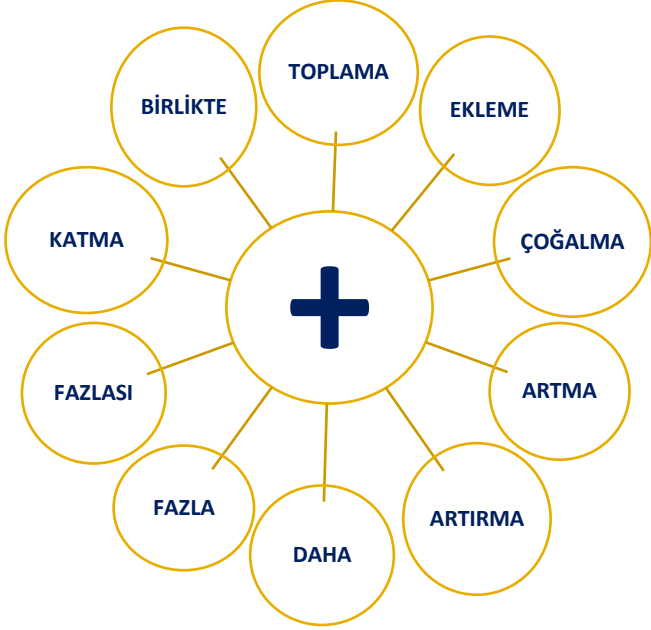
Adı :
Soyadı :
Sınıfı :

MATEMATİK-1

Toplama ve Çıkarma Problemleri-1



Aşağıdaki şemaları inceleyiniz.



Örneği inceleyerek soruları cevaplayınız.

Ben 9 yaşındayım. Kardeşim benden 5 yaş küçüktür. Kardeşim kaç yaşındadır?

	9	-	5	=	4	

Ağaçta 6 kuş vardı. Ağaca 7 kuş daha kondu. Ağaçta toplam kaç kuş oldu?


Kerem 12 misketinin 6 tanesini Ezel'e verdi. Kerem'in kaç misketi kalmıştır?

Otobüste 9 yolcu vardı. Durakta 7 yolcu daha bindi. Otobüsteki yolcu sayısı kaç olmuştur?

Adı :
Soyadı :
Sınıfı :

MATEMATİK-1

Toplama ve Çıkarma Problemleri-2



Örneği inceleyerek soruları cevaplayınız.

Zeynep dün 8 sayfa kitap okudu. Bugün
dünden 2 sayfa daha fazla kitap okudu.
Zeynep bugün kaç sayfa kitap okumuştur?

	8	+	2	=	10	

Zeynep dün 8 sayfa kitap okudu. Bugün
dünden 2 sayfa daha az kitap okudu.
Zeynep bugün kaç sayfa kitap okumuştur?

Tuncay'ın 7 sarı, 5 kırmızı balonu var.
Tuncay'ın toplam kaç balonu vardır?

Otobüste 10 yolcu vardı. Durakta 5 yolcu
daha bindi. Otobüsteki yolcu sayısı kaç
olmuştur?

14 şekerim vardı. 6 tanesini kardeşime
verdim. Kaç şekerim kalmıştır?

7 liram vardı. Babam 9 lira verdi. Top-
lam kaç liram oldu?

Hergün 10 sayfa kitap okuyan Elif, iki
günde kaç sayfa kitap okumuştur?

Adı :
Soyadı :
Sınıfı :

MATEMATİK-1

Toplama ve Çıkarma Problemleri-3



Örneği inceleyerek soruları cevaplayınız.

Ahmet kümesten dün 6, bugün 5 yumurta aldı. Yumurtalardan 4 tanesini yedi. Ahmet'in kaç yumurtası kalmıştır?

Yumurta	6	+	5	=	11
Yenen				-	4
Kalan					7

Melek ağaçtan 7 kırmızı, 6 sarı elma topladı. Elmalarda 3 tanesini ağabeyine verdi. Geriye kaç elması kalmıştır?

Melisa'ya annesi 8, babası 10 lira verdi. Melisa 5 liraya boyama kitabı aldı. Geriye kaç lirası kalmıştır?

Ezel'in 12 misketi vardı. 4 tanesini Nihat'a verdi. Daha sonra 3 tanesini de kaybetti. Ezel'in kaç misketi kalmıştır?

Otobüse birinci durakta 5, ikinci durakta 8 yolcu bindi. Üçüncü durakta ise 3 yolcu indi. Otobüste kaç yolcu kalmıştır?

Elisa'ya annesi 7, babası 8 lira verdi. Elisa 6 lirasını harcadı. Geriye kaç lirası kalmıştır?

Kümeşte 9 tavuk, 4 civciv vardı. Kümeşteki hayvanlardan 6 tanesi dışarıya çıktı. Kümeşte kaç hayvan kalmıştır?

Adı :
Soyadı :
Sınıfı :

MATEMATİK-1

Toplama ve Çıkarma Problemleri-4



Örneği inceleyerek soruları cevaplayınız.

İlayda pazardan 9 elma, 8 armut aldı. Meyvelerden 5 tanesi çürüdü. İlayda'nın geriye kaç meyvesi kalmıştır?

Meyve	9	+	8	=	17
Çürüyen					5
Kalan					12

Ben 9 yaşındayım. Kardeşim benden 4 yaş küçüktür. İkimizin yaşları toplamı kaçtır?

Annem 9 lira verdi. Babam ise annemden 3 lira daha az para verdi. Toplam kaç liram oldu?

Ceylin'in 8 tokası var. 3 tokasını Gülcan'a verdi. Ceylin ile Gülcan'ın toplam kaç tokası vardır?

Kayra'nın 15 lirası vardı. 6 lirası ile kitap, 5 lirası ile defter aldı. Kayra'nın kaç lirası kalmıştır?

Ağaçta 7 kuş vardı. Sonra 5 kuş daha kondu. Daha sonra 4 kuş uçtu. Ağaçta kaç kuş kalmıştır?

Otobüste 10 yolcu vardı. Birinci durakta 5 kişi bindi. İkinci durakta 6 kişi indi. Otobüste kaç yolcu kalmıştır?

Adı :
Soyadı :
Sınıfı :

MATEMATİK-1

Toplama ve Çıkarma Problemleri-5



Örneği inceleyerek soruları cevaplayınız.

Ayşe 9 yaşındadır. Hayal ise Ayşe'den 4 yaş küçüktür. Ayşe ile Hayal'in yaşları toplamı kaçtır?

Ayşe					9
Hayal	9	-	4	=	5
Toplam					14

Arda'nın 7 mavi, 8 kırmızı arabası vardı. Arda, arabalarından 6 tanesini Celil'e verdi. Arda'nın kaç arabası kalmıştır?

Annem 5 liralık patates, 4 liralık soğan aldı. Satıcıya 10 lira verdi. Satıcının kaç lira para üstü vermesi gerekmektedir?

Ablası Eymen'den 3 yaş büyüktür. Eymen 7 yaşında olduğuna göre ikisinin yaşları toplamı kaçtır?

İbrahim'e annesi 8, babası 6 şeker verdi. İbrahim şekerlerden 5 tanesini kardeşine verdi. İbrahim'in kaç şekeri kalmıştır?

Ağaçta 9 kuş vardı. Sonra 7 kuş daha kondu. Daha sonra 5 kuş uçtu. Ağaçta kaç kuş kalmıştır?

Otobüste 12 yolcu vardı. Birinci durakta 5 kişi bindi. İkinci durakta 7 kişi indi. Otobüste kaç yolcu kalmıştır?
