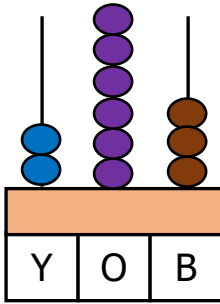


## Konu: Doğal Sayılar

- 1) Okunuşu "Altı yüz yirmi dokuz" olan doğal sayı aşağıdakilerden hangisidir?

A) 619      B) 629      C) 609

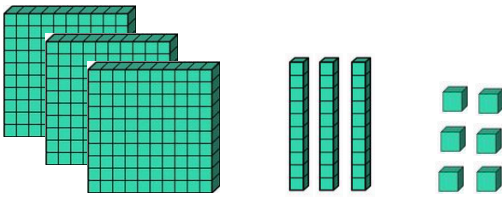
2)



264 sayısı abaküsteeki modellenirken hangi basamağındaki top eksik çizilmiştir?

A) Birler ba.      B) Onlar ba.      C) Yüzler ba.

3)



Yukarıda modellenen sayının okunuşu aşağıdakilerden hangisidir?

A) 336      B) 366      C) 236

- 4) Onlar basamağı 7, birler basamağı 2, yüzler basamağı 4 olan sayı hangisidir?

A) 274      B) 724      C) 472

- 5) Aşağıdaki sayılardan hangisinin okunuşu yanlış verilmiştir?

A) 401: Dört yüz on bir  
B) 313: Üç yüz on üç  
C) 510: Beş yüz on

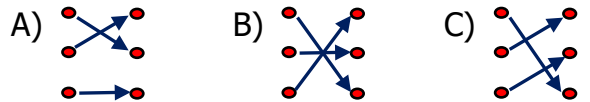
- 6) Aşağıdakilerden hangisi üç basamaklı en büyük doğal sayıdır?

A) 998      B) 999      C) 900

7)

647	•	•	Yüz sekiz
108	•	•	Dört yüz yirmi beş
425	•	•	Altı yüz kırk yedi

Yukarıda verilen doğal sayılar ve okunuşları doğru eşleştirildiğinde oklar nasıl görünür?



- 8) Yandaki sayının okunuşu "Yedi yüz seksen üç" olduğuna göre noktalı yere hangi rakam yazılmalıdır?


7 ... 3

A) 6      B) 7      C) 8

- 9) Aşağıdaki tabloda verilen rakamlarla yazılan en büyük ve en küçük üç basamaklı sayılardan hangisi doğrudur?

	Rakamlar	Üç Basa – maklı En Büyük Sayı	Üç Basa – maklı En Küçük Sayı
A)	3, 6, 2	632	263
B)	5, 0, 7	750	507
C)	1, 5, 4	451	145

10)



Üç basamaklı bir doğal sayı yukarıdaki şekilde modellenmiştir.

Kareler yüzlükleri, üçgenler onlukları gösterdiğine göre bu doğal sayı aşağıdakilerden hangisidir?

- A) 603      B) 630      C) 613

- 11) Hangi öğrencinin söylediği sayı yandaki tahtada yoktur?



- A) İkiz yüz on dört
- B) Sekiz yüz üç
- C) Beş yüz doksan altı

- 12) Aşağıdaki sayılardan hangisi, üç basamaklı doğal sayı değildir?

- A) Yedi yüz on  
B) Doksan dokuz  
C) Yüz bir

- 13) Aşağıdaki sayılardan hangisinin okunuşu yanlış verilmiştir?

- A) 190 → Yüz doksan
- B) 634 → Altı yüz otuz dört
- C) 317 → Üç yüz yedi

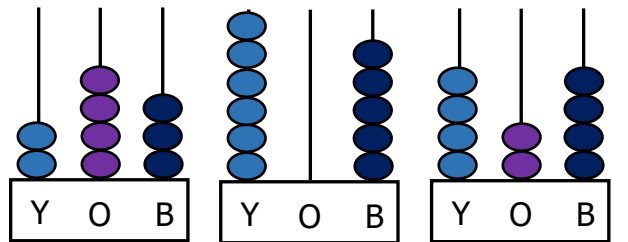
14)



Yukarıdaki sayıları birer kez kullanarak aşağıdaki sayılardan hangisi yazılamaz?

- A) Sekiz yüz otuz altı  
B) Üç yüz seksen dört  
C) Altı yüz seksen üç

15)



Yukarıda abaküste modellenen sayılardan hangisi aşağıda verilmemiştir?

- A) 425      B) 605      C) 243

## CEVAP ANAHTARI

- |       |       |
|-------|-------|
| 1) B  | 11) C |
| 2) A  | 12) B |
| 3) A  | 13) C |
| 4) C  | 14) B |
| 5) A  | 15) A |
| 6) B  | 16)   |
| 7) C  | 17)   |
| 8) C  | 18)   |
| 9) B  | 19)   |
| 10) B | 20)   |