





- 1)  O kitabı okuduğum halde yine okumak isterim.
-  Şimdi de ressamın diğer resimlerini inceleyelim.
-  Okumak, farklı dünyalara doğru yelken açmaktır.
-  Demek ki bize anlatmadığı çok şey var.

Çocuklardan hangisinin söylediği cümle bir yazının giriş cümlesi olabilir?

- A) Ayşe B) Erkan
C) Okan D) Oya

- 2) Masal kitapları çocukların zekasını geliştirir ve onlara kitapları sevdirebilir. Bu da uzun vadede kitap okumayı seven çocuklar ve bireyler demektir. Bunların yanında çocukların masal kitapları ile tanıştığı kitaplar oldukça renkli ve resimli olduğundan çocuğunuzun ilgisini çekmemesi imkansızdır. Bu sayede merakları artan çocuklar kitapları okumayı da severler.


Yukarıdaki paragrafın ana fikri aşağıdakilerden hangisidir?

- A) Masalları kitaplardan okumalıyız.
B) Masallar çocuklara kitap okuma sevgisi kazandırır.
C) Kitap okumak çok önemlidir.
D) Yeni bilgiler öğrenmek için kitap okumalıyız.



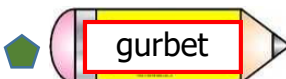
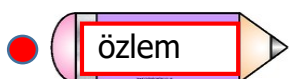
- 3) kabiliyet – suç - tedbir - ceza
kabahat - önlem - yetenek

Yukarıdaki kelimelerden eş anlamlılar eşleştirildiğinde hangi kelime tek kalır?

- A) suç B) tedbir
C) ceza D) yetenek

- 4) Oya'nın söylediği kelime aşağıdaki cümlelerde bulunan  kelimelerden birinin yerine kullanılırsa cümlemin anlamı bozulmuyor. Bu cümle aşağıdakilerden hangisidir?

- A) Vatanını seven kişi görevini iyi yapar.
B) Başarı için çok çalışmalıyız.
C) Hedefi olan insanlar güçlüklerle boyun eğmez.
D) İnsanlar yardımlaşarak zorlukların üstesinden gelir.

- 5)  
 

Taner üzerinde sözcük yazılı kalemlemlerden aynı anlama gelenleri satın alacak. Buna göre Taner hangi kalemlemleri alır?

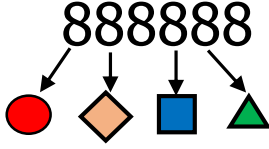
- A)   B)  
C)   D)  

- 6) ◇ Elli bin yirmi
 ◇ Elli bin iki
 ◇ Beş yüz bin iki

Aşağıdaki sayılardan hangisinin okunuşu yukarıda verilmemiştir ?

- A) 50020 B) 500020
 C) 50002 D) 500002

7)



Yukarıdaki sayıdaki rakamların hangilerinin basamak değeri toplamı 80800'dür?

- A) B)
 C) D)

8) I – $70536 = 70000 + 500 + 30 + 6$

II- $683091 = 600000 + 80000 + 3000 + 90 + 1$

III- $490567 = 400000 + 90000 + 5000 + 60 + 7$

IV- $28905 = 20000 + 8000 + 900 + 5$

Yukarıdaki sayılardan hangisinin çözümlemesi **yanlış** yapılmıştır?

- A) III B) I
 C) IV D) II

9)

793982



Oya'nın söylediği sayıdaki 9 rakamlarının basamak değerlerinin farkı kaçtır?

- A) 8910 B) 89010
 C) 89200 D) 89100

10)

378245

Yukarıdaki sayıda on binler ve yüzler basamağındaki sayılar karşılıklı yer değiştirilirse oluşan yeni sayı aşağıdakilerden hangisidir?

- A) 348275 B) 372845
 C) 328745 D) 374285

11) Şuanda kullanılan yeni kimlik kartlarından ce nüfus cüzdanlarının rengiyle ilgili aşağıdakilerden hangisi doğrudur?

- | | <u>Kız</u> | <u>Erkek</u> |
|----|------------|--------------|
| A) | pembe | yeşil |
| B) | kırmızı | mavi |
| C) | pembe | mavi |
| D) | kırmızı | yeşil |

- 12) Eski kimlik kartımda fotoğrafım yoktu. Yaşımdan dolayı artık zorunlu hale geldiği için kimlik kartımı geçen ay değiştirdik.



Barış'ın anlattıklarına göre Barış kaç yaşın olabilir?

- A) 12 B) 15 C) 10 D) 13

- 13) Ev adresi Ceren
Baba adı Fatih
Doğum tarihi Umut
Telefon numarası Elif

Yukarıdaki öğrencilerden hangileri kimlik kartı üzerinde bulunan bilgilerden bir tanesini söylemiştir ?

- A) Fatih - Umut
B) Ceren - Fatih
C) Umut - Elif
D) Fatih - Elif

- 14) Aşağıdaki ifadelerden hangisi yeni kimlik artları için doğru değildir?
- A) Bazı bilgilerin kayıtlı olduğu çip vardır.
B) Her bölüm Türkçe ve İngilizce olarak hazırlanmıştır.
C) Üzerinde T.C. kimlik numarası yazılıdır.
D) Kadınlar ve erkekler için farklı renklerde hazırlanır.

- 15) Eski nüfus cüzdanlarında olmadığı halde yeni kimlik kartlarına bazı bölümler eklenmiştir.

Aşağıdakilerden hangisi yukarıda bahsedilen bölümlerden biridir ?

- A) T.C. Kimlik No
B) İmza
C) Seri No
D) Baba Adı

- 16) \triangle İç çekirdek

- ☒ Manto
☐ Yer kabuğu
☒ Dış çekirdek

Yukarıdakilerden hangisi Dünya'nın en dış katmanıdır?

- A) ☒ B) ☒ C) ☐ D) ☐

- 17) ☐ Yer kabuğunun kalınlığı Dünya üzerinde her yerde aynıdır.
☐ Yer kabuğu Dünya'nın gözlenebilen katmanıdır.
☐ Yer kabuğu kırılğan bir yapıya sahiptir.

Yukarıdaki ifadelerden doğru olanlara "D" , yanlış olanlara "Y" yazarsak hangi sonuç ortaya çıkar?

- A)

Y
D
D

 B)


Y
D
Y

 C)

Y
Y
D

 D)

D
D
Y

18)  Odun parçaları

 Kayalar

 Taşlar

 Toprak

Yukarıdakilerden hangileri kayadır?

A)  

B)  

C)  

D)  

19) Aşağıdakilerden hangisi maddi değeri diğerlerinden fazladır?


A) tahta


B) taş

C) toprak

D) maden

20)  Kayaçlar değişik amaçlarla kullanılır.

 Tüm kayaçlar aynı özelliklere sahiptir.



 Farklı özelliklere göre kayaçlar değişik adlar alır.


 Mineraller sıvı maddelerdir.

Yukarıdaki ifadelerden hangileri **yanlıştır**?

A)  

B)  

C)  

D)  

CEVAP ANAHTARI

TÜRKÇE	MATEMATİK	SOSYAL BİL.	FEN BİLİM.
1) D	6) B	11) C	16) C
2) B	7) D	12) B	17) A
3) C	8) A	13) A	18) A
4) A	9) D	14) D	19) D
5) C	10) C	15) B	20) B