





- 1)  Paragraf  Dörtlük
Okan Rana
 Dize  Kıta
Kerem Pelin

Şiirdeki her satıra denir.

Yukarıdaki cümledeki noktalı yere gelecek kelimeyi hangi çocuk doğru cevaplamıştır?

- A) Okan B) Kerem
C) Ran D) Pelin

- 2) Aşağıdaki cümlelerin hangisinde zıt anlam-
lı kelimeler bir arada kullanılmıştır?

- A) Sinem sıcak çay içemez.
B) Taner tüm soruları doğru yapmış.
C) Tabaktaki çürük çilekleri atıp , sağlam
çilekleri yedik.
D) Annem pencereleri açık unutmuş.

- 3) Seyyar satıcı: Domates , biber, patlıcan
diyerek bağıyordu.

Yukarıdaki cümlede hangi kelimelerden
önce ve sonra tırnak işareti kullanılmalıdır?

- A) Seyyar - Domates
B) Domates - diyerek
C) Domates - bağıyordu
D) Domates - patlıcan

- 4) Sınıfımıza yeni gelen çocuğun masmavi
gözleri var.

Yukarıdaki cümleye pekiştirme anlamı veren
kelime aşağıdakilerden hangisidir?

- A) masmavi B) yeni
B) çocuğun D) gözleri

- 5)  Eyvah , kalemiğimi bulamıyorum ()

Sude'nin söylediği cümlelerin sonuna hangi
noktalama işareti konmalıdır?

- A) Nokta
B) Soru işareti
C) Ünlem işareti
D) Tırnak işareti

- 6) ■ 607003

▲ 600703

◆ 60703

● 67003

Altmış bin yedi yüz
üç



Demet'in söylediği sayı hangi şekille gösteril-
miştir?

- A) ▲ B) ■
C) ● D) ◆

7)



2750 - - - - ?

Can 2750'den başlayarak ileri doğru yüzer ritmik sayma yaptığında beşinci sırada hangi sayıyı söyler?

- A) 3050 B) 3150
C) 3250 D) 3350

8)

En büyük altı basamaklı doğal sayı 999990'dır.

D

Y

76304 sayısında 6'nın basamak değeri 6000'dir.

68542 sayısında basamak değeri en büyük olan rakam 8'dir.

D

Y

D

Y

1. çıkış 2. Çıkış 3. çıkış 4. çıkış


Yukarıda verilen ifadeler doğru ise "D", yanlış ise "Y" yolu takip edilirse hangi çıkıştan çıkılır?

- A) 4. çıkış B) 2. çıkış
C) 1. çıkış D) 3. çıkış

9) 2370 sayısından başlayıp ileri doğru biner saydığımızda altıncı sırada söyleyeceğimiz sayı beş basamaklı en küçük sayıdan kaç eksiktir?

- A) 3630 B) 2530
C) 2630 D) 2430

10)



Yukarıdaki ritmik saymada verilmeyen sayıların toplamı kaçtır?

- A) 1846 B) 1946
C) 1746 D) 1936

11) △ 2013 yılında ortaokula başlamış.

▣ 2008 yılında anaokuluna gitmiş.

○ 2017 yılında ortaokulu bitirmiş.

◇ 2009 yılında ilkokula başlamış.

Yukarıda Ozan'ın ablasının yaşadıkları olaylar tarihleriyle verilmiştir. Olaylar oluş tarihinden günümüze doğru sıralanırsa son sırada hangisi olur?

- A) △ B) ▣ C) ◇ D) ○

12)



I



II



III



IV

Sıla ile ilgili yukarıdaki resimler kronolojisi aşağıdakilerden hangisinde doğru verilmiştir?

- A) III-II-I-IV B) III-I-II-IV
C) II-III-I-IV D) II-I-III-IV

13)



2012 yılında ilkokulu bitirdim. Aynı yıl ortaokula başladım. 2 yıl sonra kardeşim Buse doğdu. 2016 yılında ortaokulu bitirip liseye başladım. 2020 yılında sınava girip üniversiteye başladım.

Yukarıda anlatılanlara göre aşağıdakilerden hangisi **yanlıştır**?

- A) 2012 yılında ortaokula başlamış.
- B) 2016 yılında ortaokulu bitirmiş.
- C) 2013 yılında kardeşi doğmuş.
- D) Ortaokulu 4 yılda bitirmiş.

14) Mayıs 2005

Aralık 2006

Eylül 2010

Eylül 2011

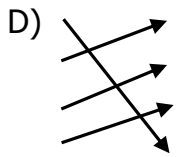
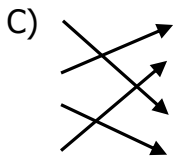
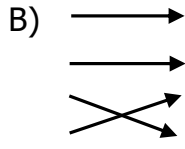
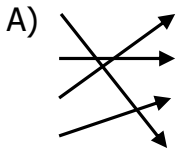
• Anaokuluna başladım.

• Konuşmaya başladım.

• İlkokula başladım.

• Adana'da doğdum.

Yukarıdaki tarihlerle olayların eşleştirilmiş şekli aşağıdakilerden hangisidir?



15) I - Eylül 2017'de 4. sınıfı Ankara'da okumaya başladım.

II- Mayıs 2017'de tiyatro gösterisi yaptık.

III-Nisan 2016'da bayram töreninde şiir okudum.

IV-Haziran 2018'de ilkokulu bitirdim.

Yukarıda olayların kronolojik olarak sıralamasında hata yapılmıştır. Buna göre hangileri yer değiştirirse hata düzelir ?

- A) III ile IV
- B) I ile III
- C) I ile II
- D) II ile IV

16) △ Kayalar , taşlar ve toprak yer kabuğunu oluşturan öğelerdendir.

▣ Yer kabuğu Dünya'nın gözlenemeyen katmanıdır.

○ Canlıların çoğu bu katman üzerinde yaşar.

◇ Yüksek dağların bulunduğu yerlerde yer kabuğu incedir.

Yer kabuğunun özellikleri düşünüldüğünde yukarıdakilerden hangisi **yanlıştır**?

- A) △ ▣
- B) ◇ ○
- C) ○ ▣
- D) ▣ ◇

17)



Toprak – kömür – altın – kum
bakır – çakıl – su – altın – gümüş
mermer – ağaç – pamuk - demir

Betül madenlere örnek vermiş. Verdiği örneklerden kaç tanesi **yanlıştır**?

- A) 6
- B) 4
- C) 7
- D) 3

18)



Sinem

Bitki ve hayvanların taşlaşmış kalıntılarıdır.



Pelin

Çok kısa sürede oluşmuşlardır.



Kayra

Fosillerin çoğu suda veya suya yakın yerlerde yaşayan canlılara aittir.



Kerem

Fosiller Dünya'mızın geçmişiyle ilgili bilgi verir.

Öğretmen öğrencilerden fosillerle ilgili bilgi vermelerini istemiş. Buna göre kimin verdiği bilgi **yanlıştır** ?

- A) Kerem B) Sinem
C) Kayra D) Pelin

19)

Ekonomik değeri olan taş ve minerallere denir.

Yukarıdaki noktalı yere aşağıdakilerden hangisi gelmelidir?

- A) fosil B) maden
C) toprak D) çakıl

20) Aşağıdakilerden hangisi doğrudur?

- A) Fosiller kumun içinde oluşur.
B) Fosiller toprağın içerisinde oluşur.
C) Fosiller kayaların içerisinde oluşur.
D) Fosiller suyun içinde oluşur.

CEVAP ANAHTARI

TÜRKÇE	MATEMATİK	SOSYAL BİL.	FEN BİLİM.
1) B	6) D	11) D	16) D
2) C	7) B	12) A	17) A
3) D	8) A	13) C	18) D
4) A	9) C	14) A	19) B
5) C	10) B	15) B	20) C