

1) Aşağıdaki kelimelerden hangisinin eş anlamlısının eş seslilik özelliği de vardır?

- A) yaşlı
- B) yanıt
- C) siyah
- D) giysi

2) Beyaz **kaz** Umut'u kovaladı.

Fidan dikmek için toprağı derin **kaz**.

Jale "kaz" kelimesini iki farklı anlamda cümlede kullanmış. Buna göre aşağıdaki kelimelerden hangisi iki farklı anlamda cümlede **kullanılmaz** ?

- A) yol
- B) dolu
- C) çay
- D) sıcak

3)  $\Delta$  Tokamı bahçede buldum.

- Sen de mi şiir okuyacaksın?
- Taner'de bizimle yüzmeye gelsin.
- Amcamın saçları da dökülmüş.

Yukarıdaki cümlelerin hangisinde yazım yanlış vardır?

- A)   $\Delta$
- B)   $\diamond$
- C)   $\square$
- D)   $\square$

4) Aşağıdaki cümlelerin hangisinde "de" farklı bir görevde kullanılmıştır?

- A) Bakkal**da** ekmek kalmamış.
- B) Dün dere**de** balık tuttuk.
- C) Yemeğimi mas**ada** yedim.
- D) Ablamla çiçekleri **de** suladık .

- 5)  Heceleri göstermek için kullanılır.  
 Satıra sığmayan kelimeler bölünürken kullanılır.  
 Sıralı kelimeler arasında kullanılır.

Kısa çizgi ile ilgili yukarıdaki ifadelerden doğru olanlara "D" , yanlış olanlara "Y" yazarsak hangi sonuç ortaya çıkar?

- A) 

Y
D
Y

 B) 





D
D
Y

 C) 

D
Y
D

 D) 

D
D
D

- 6)   $2500 + 700 = 3200$  Miray  
  $4078 + 500 = 4578$  Efe  
  $600 + 2150 = 2650$  Umut  
  $1005 + 800 = 1805$  Ece

Yukarıdaki zihinden toplama işlemlerinde hangi çocuk işlemi yanlış yapmıştır?

- A) Ece
- B) Efe
- C) Miray
- D) Umut

7)

$$\begin{array}{r} 4000 + \blacktriangle + 30 \\ + \blacklozenge + 300 + 50 \\ \hline 7000 + 800 + 80 = 7880 \end{array}$$

Yukarıda yapılan zihinden toplama işlemine göre  $\blacktriangle + \blacklozenge$  işleminin sonucu kaçtır?

- A) 3500                      B) 800  
C) 3300                      D) 8000

8)



Dedem 68 , babam 39 , annem 36 yaşındadır.

Yukarıda verilenlere göre 5 yıl sonra üçünün yaşları toplamı kaçtır?

- A) 148                      B) 153  
C) 158                      D) 160

9)

Babam yeni alınan televizyonun 1. taksidini 675 TL ödemiş. Sonraki her ay bir önceki aydan 75 TL fazla ödeyecektir.

Yukarıda verilenlere göre baba 3 ay sonunda toplam kaç lira ödemiş olur?

- A) 2175                      B) 2250  
C) 2100                      D) 2200

10)

Sinemadaki filmi pazartesi günü 1635 kişi, salı günü 2097 kişi izlemiş. Çarşamba günü ise salı gününden 248 kişi fazla izlemiş.

Yukarıda verilenlere göre 3 gün sonunda filmi toplam kaç kişi izlemiştir ?

- A) 6077                      B) 6067  
C) 5977                      D) 6177

11)  $\blacksquare$  İnançlar

$\blacktriangle$  Doğal güzellikler

$\blacklozenge$  Bayramlar

$\bullet$  Gelenek ve görenekler

Yukarıdakilerden hangisi milli kültürün öğelerinden **değildir** ?

- A)  $\bullet$                       B)  $\blacksquare$   
C)  $\blacktriangle$                       D)  $\blacklozenge$

12) I - Basketbol



III - Futbol



II - Cirit




IV - Tekvando



Yukarıdaki sporlardan hangisi milli kültürümüze ait bir spordur?

- A) IV                      B) II  
C) I                      D) III

- 13)  Dün milli kültürümüze ait bir eğlenceye katıldım.

Yukarıda İrem'in bahsettiği eğlence aşağıdakilerden hangisidir?

- A) Yılbaşı  
B) Paskalya bayramı  
C) Cadılar bayramı  
D) Kına gecesi

- 14) △ Manti

- Hamburger  
 Spagetti  
 Künefe

Yukarıdakilerden hangileri milli kültürümüze ait yemeklerden **değildir**?

- A)   B)    
C)   D)

- 15)  Milli kültür öğeleri sadece gelenek ve göreneklerdir.  
 Her milletin kültürü kendine özgüdür.  
 Halk oyunları milli kültür öğelerinden biridir.

Kısa çizgi ile ilgili yukarıdaki ifadelerden doğru olanlara "D", yanlış olanlara "Y" yazarsak hangi sonuç ortaya çıkar?

- A) 

Y
Y
D

 B) 

Y
D
D

 C) 

D
Y
D

 D) 





D
D
D

- 16) 

Vücut ısısının ayarlanmasından, kandaki maddelerin taşınmasına kadar bir çok olayda görev alır. Yaşamsal faaliyetlerin gerçekleşmesinde düzenleyici olarak görev alır.

Yukarıdaki ifade aşağıdakilerden hangisine aittir ?

- A) Tuz B) Su  
C) Yağ D) Karbonhidrat

- 17)  Sadece sebzelerde su vardır. Rana  
 Sadece meyvelerde su vardır. Erkan  
 Tüm besinlerde su vardır. Vedat  
 Sadece protein içeren besinlerde su vardır. Asya

Yukarıdaki çocuklardan hangisinin ifadesi doğrudur?

- A) Asya B) Erkan  
C) Vedat D) Rana

- 18) 

Canlılar yaşamsal faaliyetlerini devam ettirebilmek için ihtiyaç duyduğu enerjiyi ..... adı verilen maddelerden karşılar.

Yukarıdaki ifadede noktalı yere yazılabilecek en doğru kelime aşağıdakilerden hangisidir?

- A) su B) hava  
C) besin D) tuz

19) ■ Elma

▲ Ekmek

◆ Bal

● Fasulye

Aşağıdaki besinlerden hangisi elde edildiği kaynağa göre sınıflandırılırsa diğerlerinden farklı bir grupta yer alır?

A) ●

B) ■

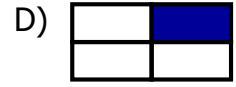
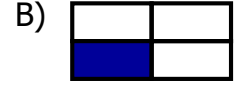
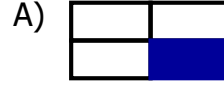
C) ▲

D) ◆

20) Bazı besinler yapıcı ve onarıcıdır.

Karbonhidrat	Su
Yağ	Protein

Yukarıda bahsedilen besinin yazılı olduğu kutuyu boyarsak aşağıdaki şekillerden hangisi ortaya çıkar?



|

## CEVAP ANAHTARI

TÜRKÇE	MATEMATİK	SOSYAL BİL.	FEN BİLİM.
1) C	6) D	11) C	16) B
2) D	7) A	12) B	17) C
3) A	8) C	13) D	18) C
4) D	9) B	14) A	19) D
5) B	10) A	15) B	20) A