

- 1) ■ Anıl eve geç kalırsa **yandı**.
 ▲ Elim çaydanlığa değince **yandı**.
 ◆ Yere düşünce canım çok **yandı**.
 ● Öğretmene yalan söyleyenler **yandı**.

"yandı" kelimesi hangi cümlelerde aynı anlamda kullanılmıştır?

- A) ■ ◆ B) ■ ●
 C) ● ▲ D) ■ ▲

- 2) O günü görmek için sade bekleyeceğiz, Göreceğiz bir sabah yeşil tomurcukları. Hazırlanıyor gibi, gökyüzü, ufuk, deniz, Bir sabah dökülecek baharların baharı.

Yukarıdaki dördlüğün ana duygusu aşağıdakilerden hangisidir?

- A) Doğa sevgisi
 B) Ağaçların önemi
 C) Bahara duyulan özlem
 D) Sabahların güzelliği

- 3) elektrik - yalnız – süpriz
 traktör - aferim - kirpik

Yukarıda yanlış yazılan kelimelerin ilk harfleriyle aşağıdaki kelimelerden hangisi yazılır?

- A) yas B) set
 C) kas D) kat

- 4) I - saygılı
 II- saklı
 III- canlı
 IV- çatalı

Yukarıdaki kelimelerden hangileri ek alarak anlamı değişmiş kelimelerdendir?

- A) I - II B) III - IV
 C) I - III D) I – II – III

- 5) Kapının önünde bekleyen genç doktora sordu.

Yukarıdaki cümlede hangi kelimedden sonra virgül konulursa cümlenin anlamı değişir?

- A) önünde B) bekleyen
 C) kapının D) genç

- 6) Aşağıdaki cümlelerin hangisinde "ki"nin yazımında yanlışlık yapılmıştır?

- A) Parktaki küçük köpek çok sevimliydi.
 B) Baban gelsinki yemeğimizi yiyelim.
 C) İlaçlarını kullan ki iyileşesin.
 D) Bize yardım et ki işimiz çabuk bitsin.

- 7) Aşağıdaki kelimelerden hangisi satır sonunda bölünemez?

- A) odun B) defter
 C) ıspanak D) elma

8) Hastaneye ambulansla giden dedem sapasağlam çıktı.

Aşağıdaki kelimelerden hangisi yukarıdaki cümleye pekiştirme anlamı katmıştır?

- A) ambulansla B) sapasağlam
C) dedem D) hastaneye

9) bahçesinde – anlat – dün
I II III
gördüklerini - okulun
IV V

Yukarıda karışık olarak verilen kelimelerle anlamlı ve kurallı bir cümle oluşturulduğunda sıralama nasıl olmalıdır?

- A) III-I-IV-V-II B) III-I-V-IV-II
C) III-IV-I-II-V D) III-V-I-IV-II

10) Geçen hafta oynanan Türkiye () Hollanda maçında 2() golü Burak mı attı ()

Yukarıdaki yay ayrıçla belirtilen yerlere sırayla hangi noktalama işaretleri gelmelidir?

- A) (-) (.) (.)
B) (,) (.) (?)
C) (-) (.) (?)
D) (,) (,) (?)

- 11) Furkan ile babasının yaşları toplamı 58, yaşları farkı ise 34'tür.

Yukarıdaki ifadeye göre Furkan'ın babası kaç yaşındadır?

- A) 48 B) 46
C) 50 D) 52

- 12) $2961 - 1645 =$

Yukarıdaki çıkarma işlemi en yakın yüzlüğe yuvarlanarak tahmin edildiğinde tahmini sonuç ile gerçek sonuç arasındaki fark kaç olur?

- A) 84 B) 184
C) 64 D) 16

- 13) $1600 \div \square = 16$
 $800 \div \odot = 40$

Yukarıdaki işlemlere göre $\square + \odot$ işleminin sonucu kaçtır?

- A) 300 B) 200
C) 30 D) 120

- 14) $\blacksquare < (276 + 435) \times 30$

Yukarıdaki karşılaştırmada \blacksquare yerine gelebilecek en büyük sayı aşağıdakilerden hangisidir?

- A) 21330 B) 100
C) 60 D) 21329

- 15) Bölenin 15 olduğu bir bölme işleminde kalan en fazla kaç olabilir?

- A) 15 B) 14
C) 13 D) 16

- 16) $3224 \overline{) 8}$

Yukarıdaki işleme göre $\blacktriangle + 41$ işleminin sonucu kaçtır?

- A) 403 B) 43
C) 444 D) 84

17)



36'yı 100 ile çarpırım , çarpımı 2'ye bölerim.

Yukarıda kısa yoldan yapıış şekli söylenen işlem aşağıdakilerden hangisidir?

- A) 36×25 B) 36×5
C) 36×50 D) 36×10

18)

15 düzine kalemin 125 tanesi satılmış.

Kalemlerin tanesi 3 liraya satıldığına göre kalan kalemlerin satışından kaç lira elde edilir?

- A) 165 B) 155
C) 175 D) 185

19)

6 yıl önce annem 28 , babam 32 yaşındaydı.

Yukarıda ifadeye göre anne ve babanın 4 yıl sonraki yaşları toplamı kaç olur?

- A) 72 B) 76
C) 80 D) 82

20)

Yavuz, 200 sayfalık hikaye kitabından ilk gün 30 sayfa okumuş. Sonraki günler ise bir önceki günden 4 sayfa eksik okumuş.

Yukarıdaki ifadeye göre 3 gün sonunda kitaptan okunacak kaç sayfa kalmıştır?

- A) 120 B) 122
C) 132 D) 124

- 21) I – Kazım Karabekir
II – Şahin Bey
III – İsmet İnönü

Yukarıda verilen Milli Mücadele kahramanlarının savaştığı cepheler hangisinde doğru verilmiştir?

	Batı	Güney	Doğu
A)	III	I	II
B)	I	II	III
C)	II	III	I
D)	III	II	I

22)

İngiltere	Fransa
Almanya	Yunanistan

1. Dünya Savaşı sonunda bazı düşman devletler ülkemizi işgal etmiş.

Buna göre yukarıdaki tabloda ülkemizi işgal etmeyen devlet boyanırsa aşağıdakilerden hangisi ortaya çıkar?

A)	<table border="1"><tr><td>■</td><td>■</td></tr><tr><td>■</td><td>■</td></tr></table>	■	■	■	■	B)	<table border="1"><tr><td>■</td><td>■</td></tr><tr><td>■</td><td>■</td></tr></table>	■	■	■	■
■	■										
■	■										
■	■										
■	■										
C)	<table border="1"><tr><td>■</td><td>■</td></tr><tr><td>■</td><td>■</td></tr></table>	■	■	■	■	D)	<table border="1"><tr><td>■</td><td>■</td></tr><tr><td>■</td><td>■</td></tr></table>	■	■	■	■
■	■										
■	■										
■	■										
■	■										

- 23) Ercan'ın düşüncesine bazı arkadaşları katılmamıştır.

Yukarıdaki ifadeye göre Ercan'ın davranışı aşağıdakilerden hangisi olmalıdır ?

- A) Katılmayan arkadaşlarına küsmeli.
B) Katılan arkadaşlarıyla oyun oynamalı.
C) Katılmayanlara saygı göstermeli.
D) Katılmayanların düşüncelerini önemsememeli.

- 24) ■ İyi yüzmek
▲ Giyinmek
◆ Çiçek yetiştirmek

Yukarıda ifadeler ilgi , ihtiyaç ve yetenek olma durumuna göre hangisinde doğru verilmiştir?

	İlgi	İhtiyaç	Yetenek
A)	▲	◆	■
B)	◆	▲	■
C)	◆	■	▲
D)	▲	■	◆

- 25)
- 



Aşağıdaki hava olaylarından hangisinin yukarıda sembolü **yoktur**?

- A) Rüzgarlı
B) Yağmurlu
C) Çok bulutlu
D) Kar yağışlı

- 26)

T
A

 Yol

K
O


 Toprak

R
Y

 Şelaleler
Fabrikalar Köprüler

Yukarıdaki doğal unsurların başlarındaki harflerle hangi kelime yazılabilir?

- A) KOR
B) TOK
C) KAR
D) TAR

- 27)  Bir yeri basit ve anlaşılır bir şekilde tarif etmek için kuşbakışı , kabataslak çizimini yaptım.

Utku

Yukarıdaki ifadeye göre Utku'nun yaptığı çizimin adı nedir ?

- A) Plan B) Harita
C) Kroki D) Grafik


- 28) I – Mezarlıklar
II – Karınca yuvaları
III – Çubuk yöntemi
IV – Saat yöntemi

Yön bulurken hangilerinde güneşten faylanılır?

- A) III-IV B) II-III
C) I-III D) II-IV

- 29) Aşağıdakilerden hangisi çocuk oyunları ile ilgili doğru bir bilgi **değildir**?

- A) Geçmişte çocuk oyunları daha çok evin dışında oynanmaktaydı.
B) Geçmişte oynanan çocuk oyunlarının çoğu grup halinde oynanan oyunlardır.
C) Teknolojinin gelişmesi çocuk oyunlarını olumsuz etkilemiştir.
D) Geçmişte oynanan çocuk oyunları günümüze kadar gelmemiştir.

- 30)  Dün Hacivat ve Karagözü izledik.

Cemal



Annem misafirlere baklava yaptı.

Yaren



Yılbaşı için hazırlıklar yapıyoruz.

Şeyma



Akşamki basketbol maçı çok heyecanlıydı.

Orhan

Yukarıdaki çocuklardan hangileri milli kültürümüzün unsurlarından söz etmiştir ?

- A) Cemal - Şeyma
B) Cemal - Yaren
C) Yaren - Şeyma
D) Cemal - Orhan

- 31) Boyumun uzaması için bol bol içerikli besinlerden tüketmem gerekiyormuş?

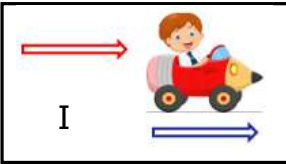
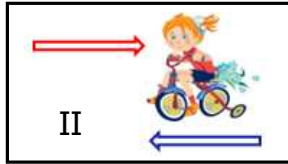
Yukarıdaki ifadede noktalı yere aşağıdakilerden hangisi gelmelidir?

- A) karbonhidrat B) yağ
C) mineral D) protein

- 32)  Paket lastiği  Ayna
 Ceviz  Yay

Yukarıdakilerden hangileri kuvvet uygulandıktan sonra kuvvetin etkisi ortadan kalkınca eski haline döner?

- A)   B)  
C)   D)  

- 33)  I  II

Yukarıdaki resimlerde uygulanan kuvvetin sonucunda hangi hareketler gözlemlenir?

- | | I | II |
|----|-----------|-----------|
| A) | Hızlanma | Yavaşlama |
| B) | Hızlanma | Hızlanma |
| C) | Yavaşlama | Hızlanma |
| D) | Yavaşlama | Yavaşlama |

- 34)  Kayaç  Maden  Mineral

- I – Kayaçları oluşturan maddelere ne denir?
II – Binlerce yıl öncesinden kalmış taşlaşmış canlı kalıntılara ne denir?
III – Ekonomik değeri olan kayaçlara ne denir?
IV – Minerallerin bir araya gelerek oluşturdukları kütlelere ne denir?

Sorulardan hangisinin cevabı yukarıda yoktur?

- A) IV B) I
C) II D) III

- 35) Dünya dönme hareketini yapmasaydı aşağıdakilerden hangisi görülürdü ?

- A) Dünya'nın her yeri gece olurdu.
B) Dünya'nın bir yüzü gündüz , bir yüzü gece olurdu.
C) Dünya'nın her yeri gündüz olurdu.
D) Mevsimler oluşmazdı.

- 36) Kuvvet duran bir cismi hareket ettirir.
 Kuvvet cisimlerin şeklini değiştiremez.
 Kuvvet hareketli cismin yönünü değiştirir.

Yukarıdaki ifadelerden doğru olanlara "D" , yanlış olanlara "Y" yazarsak hangi sonuç ortaya çıkar?

- A)

D
Y
Y

 B)

D
Y
D

 C)

Y
Y
D

 D)

D
D
D

- 37) Protein
 Karbonhidrat
 Yağ

Vücudumuz enerji ihtiyacını yukarıdaki hangi besin içeriklerinden karşılar?

- A) B)
C) D)

- 38) Aşağıdakilerden hangisi alkolün çevreye verdiği zararlardandır?

- A) Karaciğere büyük zarar verir.
B) Denge ve bilinç kaybına neden olur.
C) İç organların görevini rahat yapmasını engeller.
D) Trafik kazalarına neden olur.

- 39) Aşağıdakilerden hangisi obezitenin nedenlerinden **değildir**?

- A) Düzensiz beslenmek.
B) Vücudun ihtiyacından fazla besin tüketmek.
C) Aşırı şekilde şekerli ve yağlı besinler tüketmek.
D) Sportif aktiviteler yapmak.

40)



Yukarıdaki resimde kaç numaralı noktada sabah saatleri yaşanmaktadır ?

- A) II B) IV
C) III D) I

CEVAP ANAHTARI

TÜRKÇE	MATEMATİK	SOSYAL BİL.	FEN BİLİM.
1) B	11) B	21) D	31) D
2) C	12) A	22) A	32) A
3) A	13) D	23) C	33) A
4) C	14) D	24) B	34) C
5) D	15) B	25) B	35) B
6) B	16) C	26) C	36) B
7) A	17) C	27) C	37) C
8) B	18) A	28) A	38) D
9) D	19) C	29) D	39) D
10) C	20) B	30) B	40) C