



## 5 N 1 K SORULARI

✿ Aşağıdaki cümlelerde altı çizili kelimenin cevap olacağı soruyu boyayınız.

✿ Ablam hasta olduğu için okula gidemedi.

Nasıl gidemedi ?

Niçin gidemedi ?

Kim gidemedi ?



✿ Melih okula yürüyerek gider.

Nasıl gider ?

Kim gider ?

Nereye gider ?



✿ Demet yatmadan önce bir bardak süt içer.

Ne içer ?

Kim içer ?

Ne zaman içer ?

✿ Azmi kütüphaneden ödünç kitap almış.

Kim almış ?

Ne almış ?

Nereden almış ?



✿ Sinem okuldaki törende şiir okudu .

Nerede okudu ?

Ne okudu ?

Kim okudu ?

✿ Fatih derede balık tutmuş.

Nerede tutmuş ?

Kim tutmuş ?

Ne tutmuş ?



✿ Betül yüzme bilmediği için denize girmedi.

Kim girmedi ?

Niçin girmedi ?

Nereye girmedi ?

✿ Gökhan geç kalınca sessizce sınıfa girmiş.

Nasıl girmiş ?

Kim girmiş ?

Nereye girmiş ?



✿ Pelin hafta sonu yüzme kursuna yazılmış.

Kim yazılmış ?

Ne zaman yazılmış ?

Nereye yazılmış ?

✿ Ozan , Jale'yi parkta sallanırken görmüş.

Kim görmüş ?

Nasıl görmüş ?

Nerede görmüş ?





## EŞEK İLE KURT

Bir varmış bir yokmuş, evvel zaman içinde dağların ardında ormanın içinde bir eşek yaşarmış. Çok susadığında tertemiz ve serin bir dereye gider su içermiş. Bu eşek yine bir gün çok susamış ve dere kenarına giderek su içmeye başlamış. Birden arkasından bir gürültü duymuş ve başının derde gireceğini anlamış. Gelen gürültü kurttan geliyormuş. Kurt eşeği avlamak için atağa geçmeyi planlıyormuş. Eşek ise kaçacak yeri olmadığını fark edince aç kurdu önlemek için bir plan hazırlamış.

Birden topallayarak sancı sesleri çıkarmaya başlamış. Aç kurt eşeğin yanına giderek sormuş. Neyin var eşek kardeş, daha sana saldırmadım bile nedir bu çığlıklarının sebebi, demiş. Eşek ise anlatmaya başlamış. "Ayağıma çok büyük ve sivri bir diken girdi ve bu diken canımı çok acıtıyor, sen de beni yersen muhtemelen mideni delebilir," demiş. Bunun üstüne kurt düşünmüş. Madem bu eşeği yiyeceğim bari dikenini çıkarıp öyle yiyeyim, demiş.

Bunun ardından kurt, eşeğin arkasına geçerek dikenini aramaya başlamış. Bu sırada da eşeği nasıl yiyeceğini hayal ediyormuş. Eşeğin arkasına geçince ayağını kaldırmasını söyleyip iyice incelemek istemiş. Karnı da çok açmış pek mantıklı düşünemiyormuş.

Eşek ayağını kaldırır kaldırmaz ayaklarıyla kurdun dişlerine çok sert bir şekilde çifte atmış. Kurt geriye doğru fırlarken dişlerinin her biri yamulmuş. Kurt söze başlamış. "Ben bu çiftteyi gerçekten hak ettim çünkü doktorluk benim neyime, ben bir kasabım," demiş. Karnı aç bir şekilde eşeğin yanından ayrılmış. Yaptığı hatanın farkına varıp bir daha bilmediğim işlere kalkışmayacağını söylemiş.



Aşağıdaki soruları metne uygun bir şekilde cevaplayınız.

1. Eşek nerede yaşarmış?

.....

2. Eşek niçin dere kenarına gitmiş?

.....

3. Kurt ne planlıyormuş ?

.....

4. Eşek kurttan kurtulmak için nasıl bir plan yapmış?

.....

5. Eşek ayağını kaldırır kaldırmaz ne yapmış?

.....

6. Kurt niçin mantıklı düşünemiyormuş?

.....

## KIYAFET SEÇERKEN

1. Etkinlik: Aşağıdaki kıyafet ve ayakkabıları uygun olduğu mevsime göre boyayınız .  
İlkbahar: Yeşil Yaz : Kırmızı Sonbahar: Sarı Kış : Mavi



- 2.Etkinlik: Aşağıdaki resimlerin altına uygun mevsimleri yazınız .



.....



.....



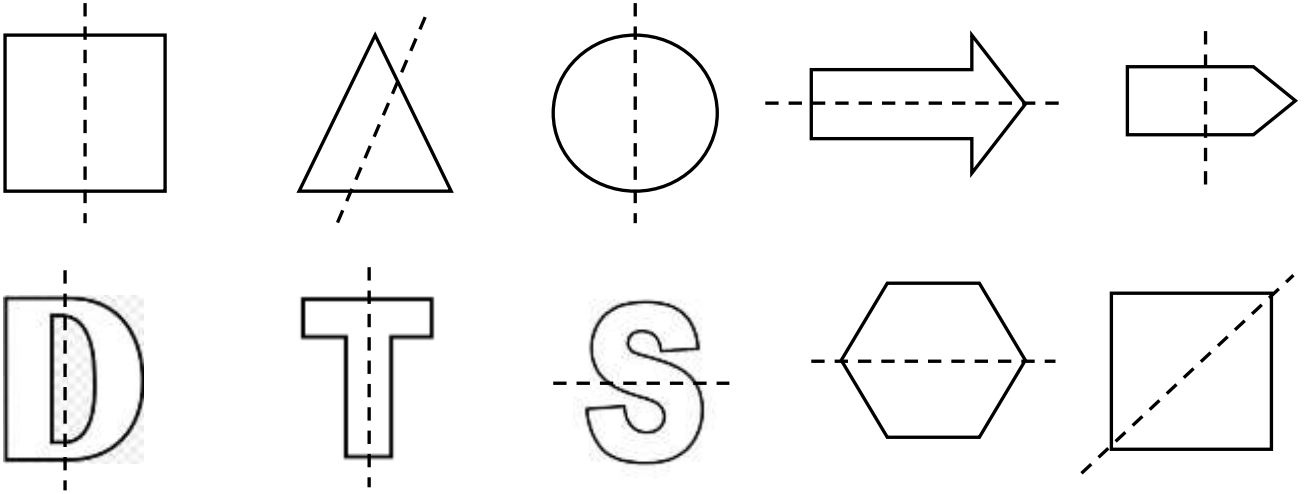
.....



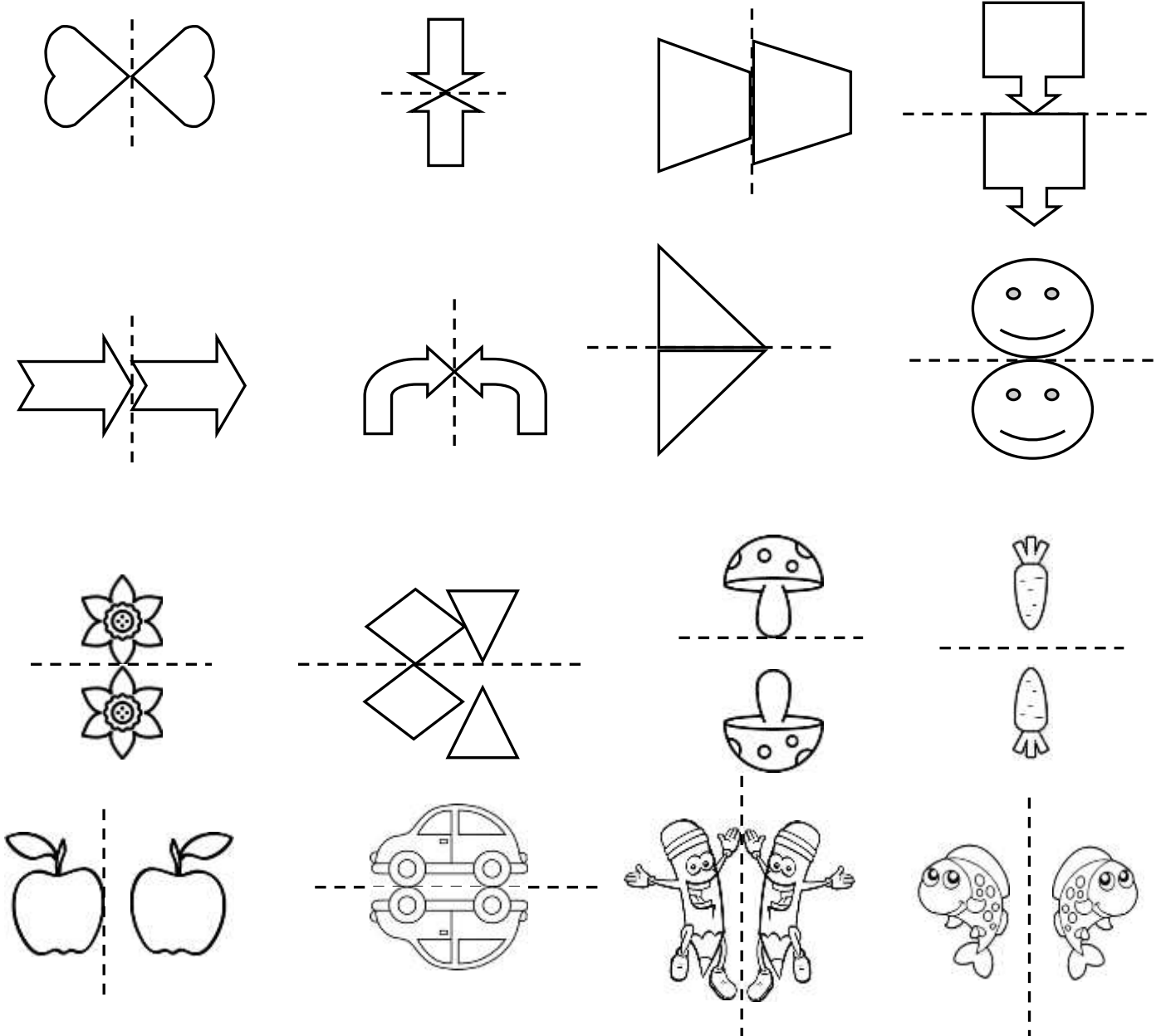
.....

## SİMETRİK ŞEKİLLER

1. Etkinlik: Aşağıdaki harf ve şekillerden belirtilen şekilde katlandığında iki eş parçaya ayrılabilenleri boyayalım .

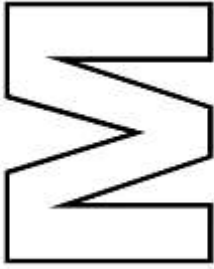

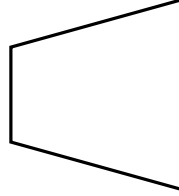

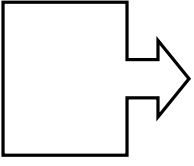


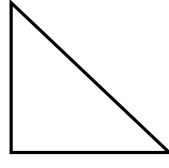
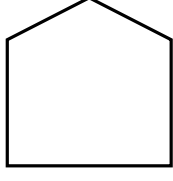


2. Etkinlik: Aşağıdaki şekillerden ve resimlerden simetrik olanları boyayalım .




## SİMETRİK ŞEKİLLER

1. Etkinlik: Aşağıdaki şekillerin simetri çizgilerini çizerek iki eş parçaya ayıralım .



2. Etkinlik: Aşağıdaki eş parçalar eşleyelim ve aynı renge boyayalım.

1



2



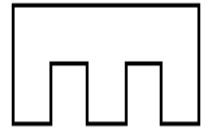
3



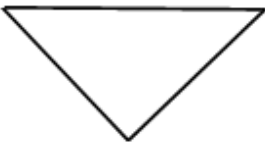
4



5



...



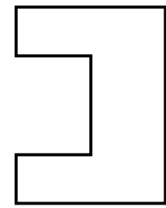
6



...



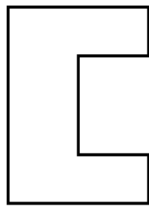
7



...



...



...



...

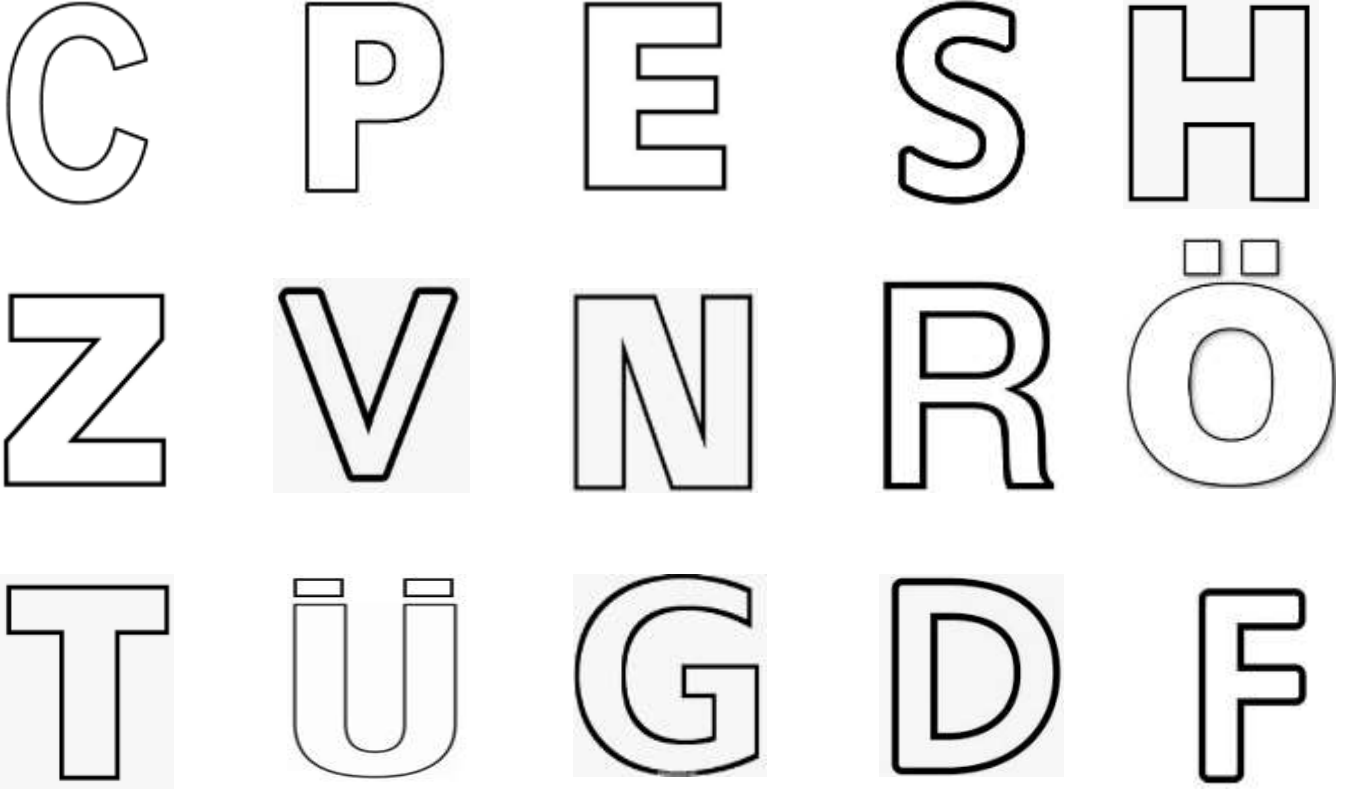


...

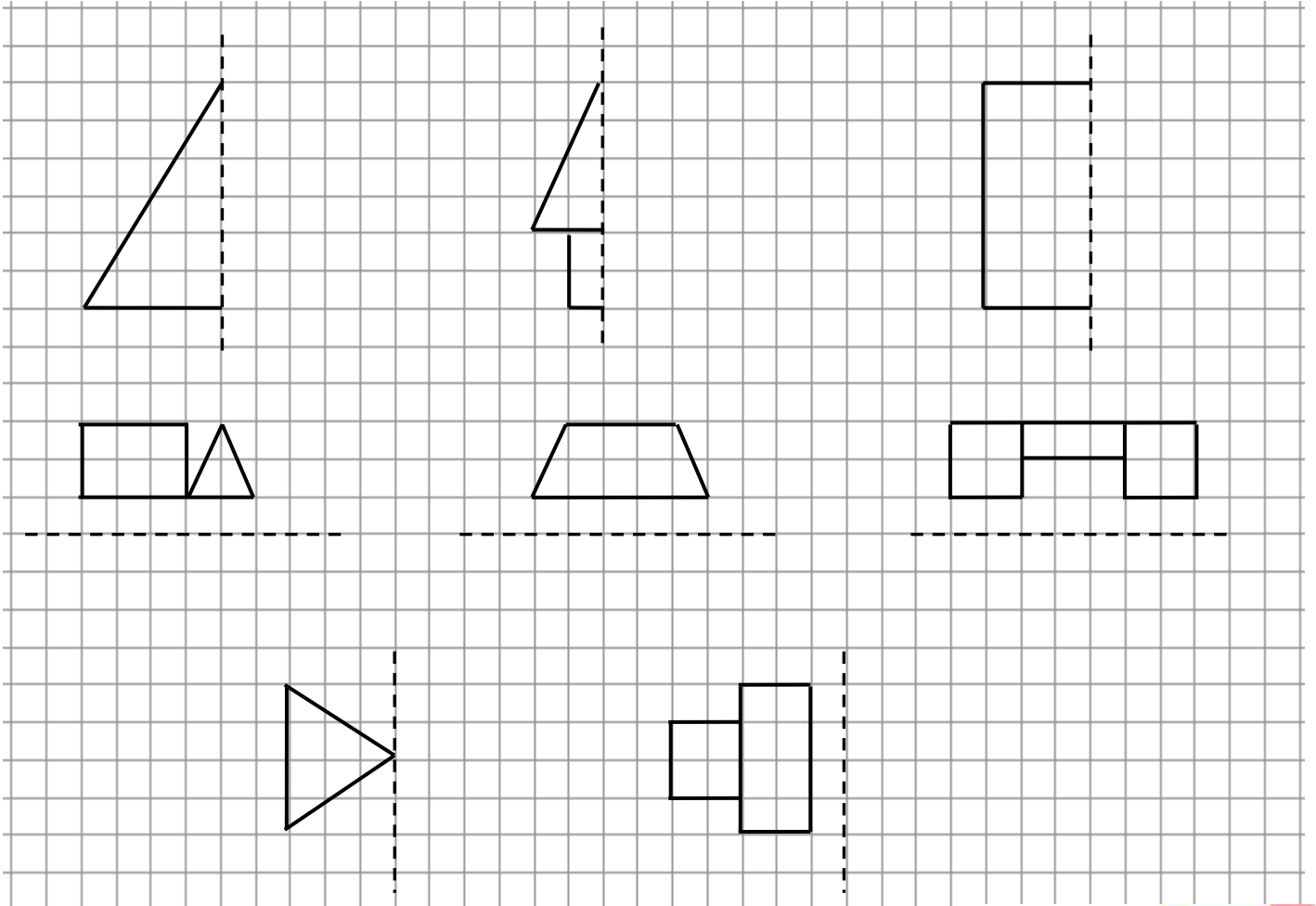


## SİMETRİK ŞEKİLLER

1. Etkinlik: Aşağıdaki harflerden 2 eş parçaya ayrılabilir olanları boyayalım.



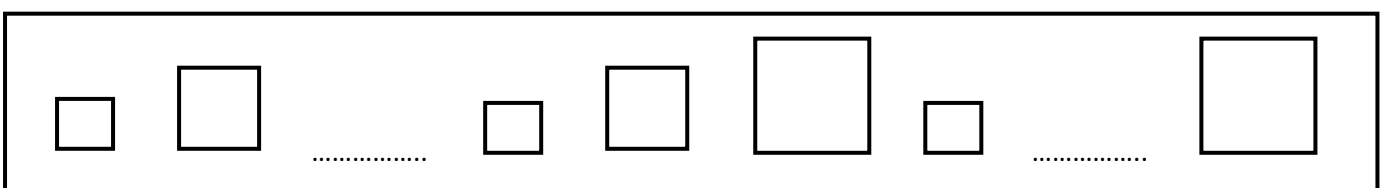
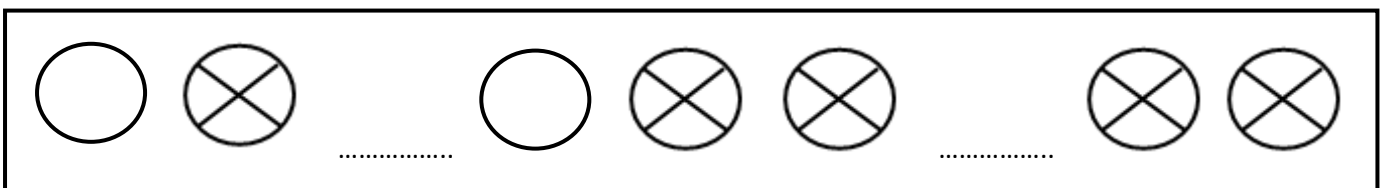
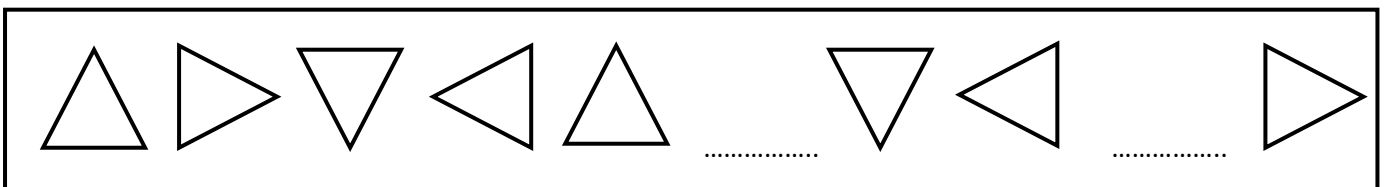
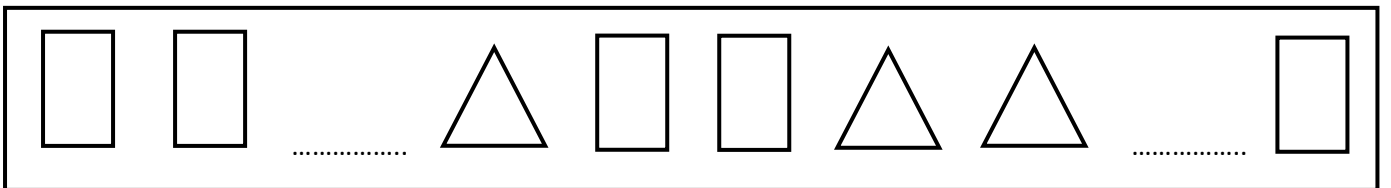
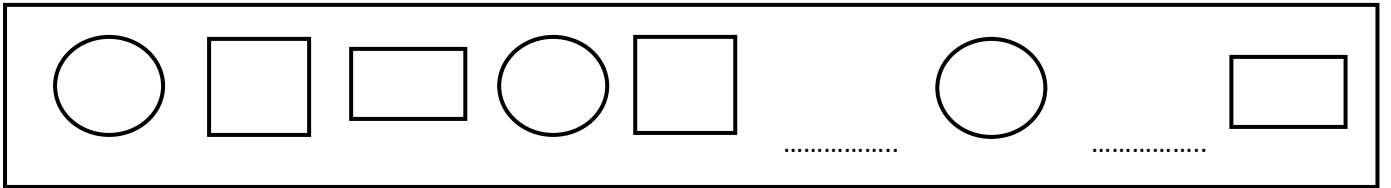
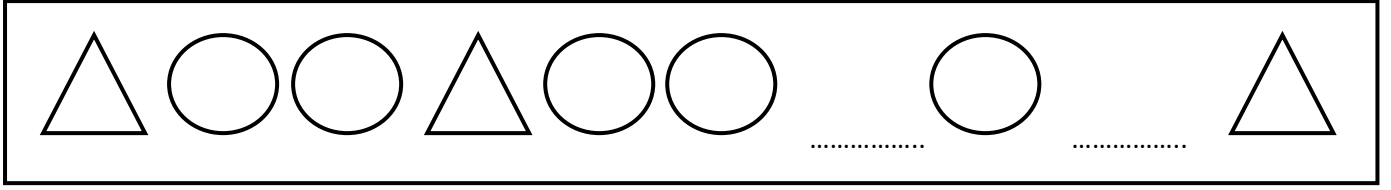


2. Etkinlik: Aşağıdaki şekillerin katlama doğrularına göre diğer yarılarını çiziniz.



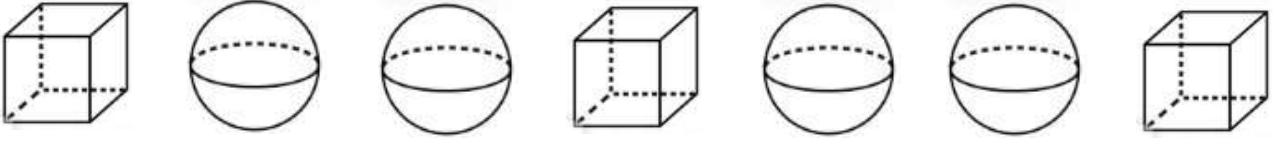
# GEOMETRİK ÖRÜNTÜLER

1. Etkinlik: Aşağıdaki örüntülerde boş bırakılan yerlere uygun şekli çizelim.

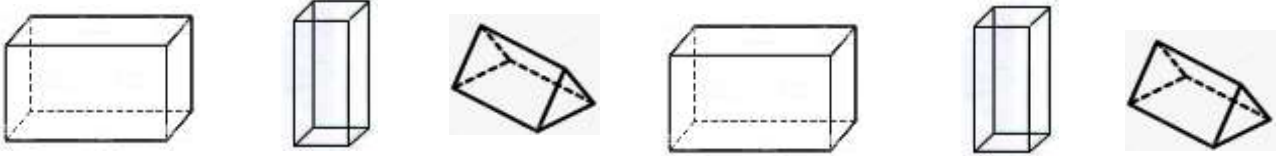


## GEOMETRİK ÖRÜNTÜLER

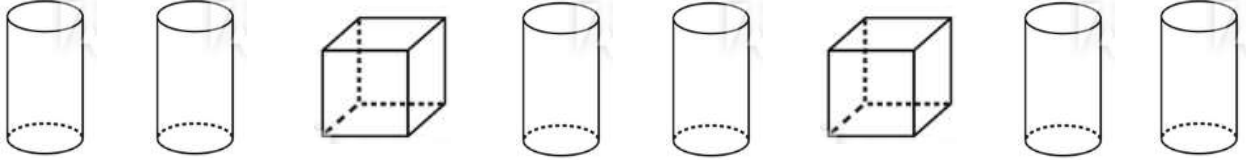
1. Etkinlik: Aşağıdaki örüntülerin kuralını yazalım . Geometrik cisimleri kurala uygun olarak boyayalım.



Kural : .....



Kural : .....



Kural : .....

2. Etkinlik: Aşağıdaki örüntülerin kuralını yazalım .




Kural : .....



Kural : .....



Kural : .....


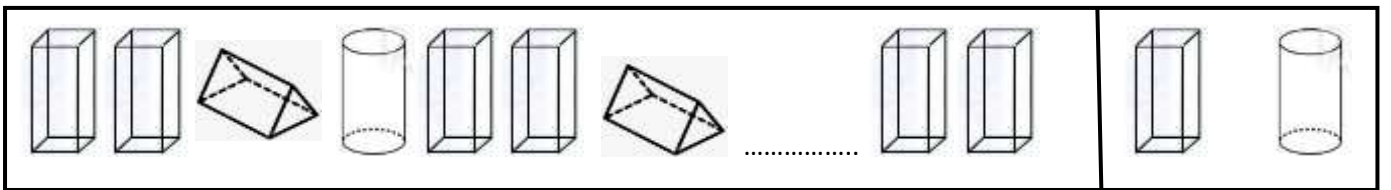
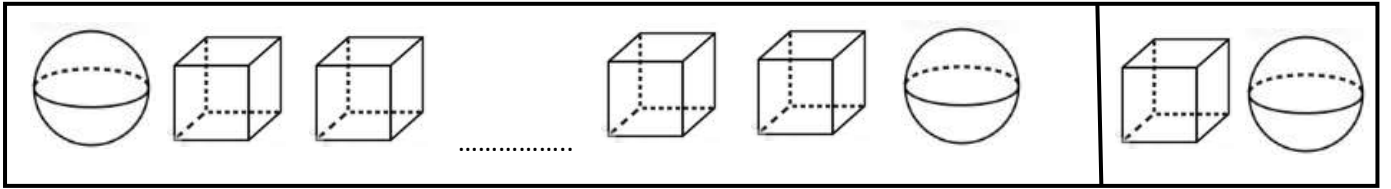
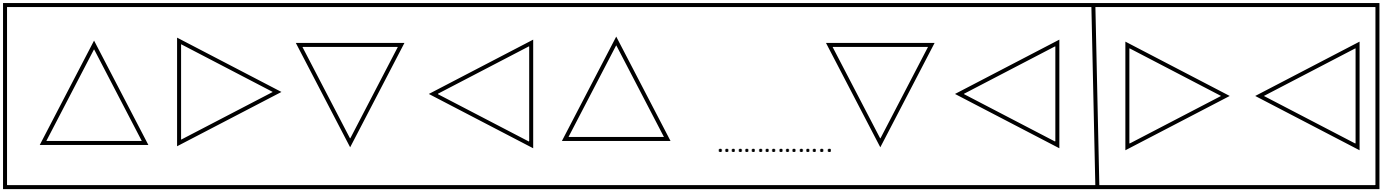
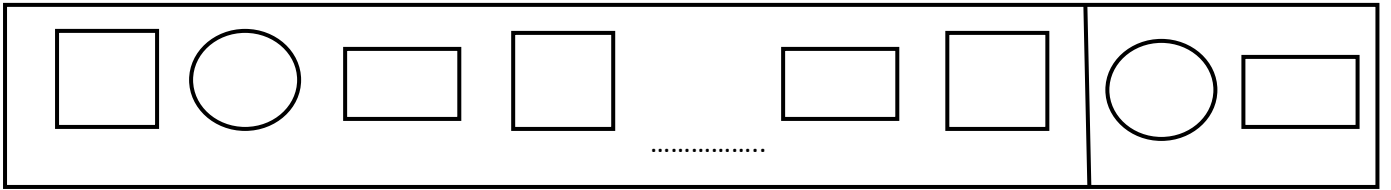
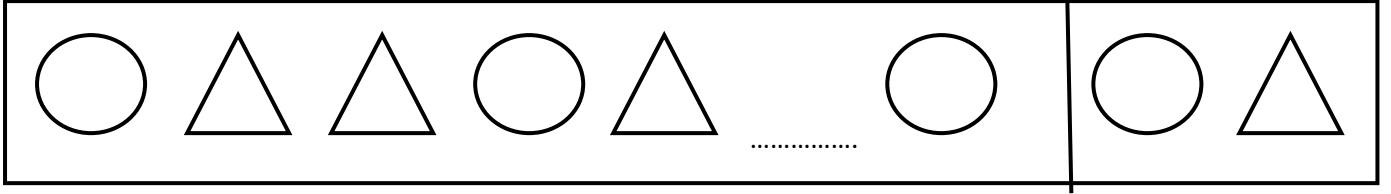


Kural : .....



# GEOMETRİK ÖRÜNTÜLER

1. Etkinlik: Aşağıdaki örüntülerde noktalı yere gelecek şekli boyyalım.



# GEOMETRİK ÖRÜNTÜLER

1. Etkinlik: Aşağıda verilen örüntülerle aynı kurala sahip, farklı varlıklarla örüntüler elde edelim.

