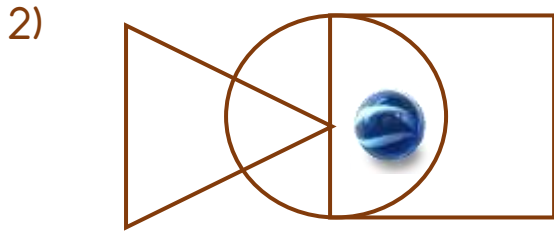
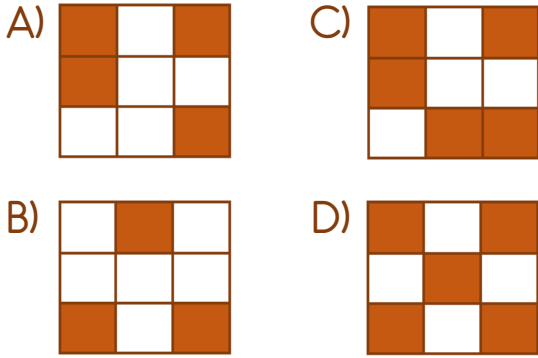


Soru işaretinin yerine hangisi gelmelidir?



Yukarıdaki görselde misketin bulunduğu yer ile ilgili hangi ifade doğrudur?

- A) Çemberin dışındadır.
 B) Üçgenin içindedir.
 C) Üçgenin ve karenin dışındadır.
 D) Karenin ve çemberin içindedir.

- 3) "A, B'nin oğludur. Ancak B, A'nın annesi değildir."

Buna göre B ile A arasındaki ilişki aşağıdakilerden hangisidir?

- A) B, A'nın annesidir.
 B) B, A'nın babasıdır.
 C) B, A'nın kuzenidir.
 D) B, A'nın teyzesidir.

4)



Yukarıdaki resfebede gizli sözcük ile ilgili hangi ifade doğrudur?

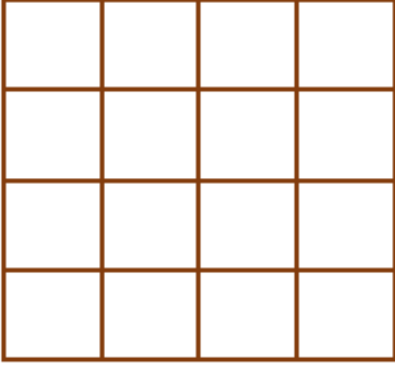
- A) Bir insan ismidir.
 B) Bir hayvan ismidir.
 C) Bir bitki ismidir.
 D) Bir ilimizin ismidir.



Yukarıdaki örüntüde boş bırakılan yere hangi çiçek gelmelidir?

- A) B) C) D)

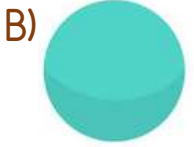
6)



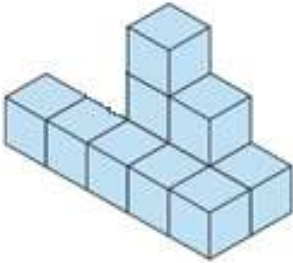
Yukarıdaki şekilde kaç tane kare vardır?

- A) 16 B) 17 C) 22 D) 30

7) Aşağıdaki cisimlerden hangisi kullanılarak düz bir çizgi çizilemez?



8)



Yukarıdaki yapıda kaç tane küp kullanılmıştır?

- A) 9 B) 10 C) 11 D) 12

9)



Hangi cümle yukarıdaki görsel ile ilgili değildir?

- A) Ağaç dikmek önemlidir.
B) Bitkileri seviyorum.
C) Bahçeden elma topladım.
D) Fidanımı suluyorum.


10) Bir kilogram demir mi daha ağırdır, yoksa bir kilogram pamuk mu?

- A) Demir daha ağırdır.
B) Pamuk daha ağırdır.
C) İkisinin de ağırlığı eşittir.
D) Demir ile pamuk kıyaslanamaz.

11) Yandaki resfebede gizlenmiş olan sözcük hangisidir?

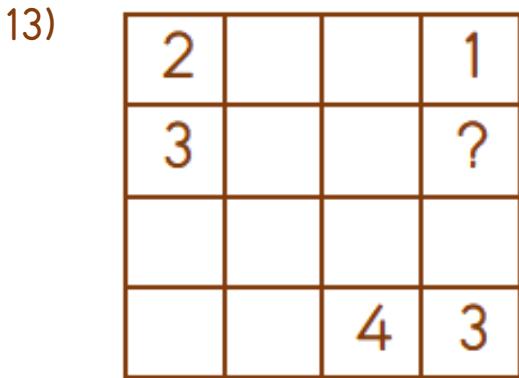


- A) Dikiz C) Kadersiz
B) Akdeniz D) Dokuz



Yukarıdaki kibrit çöplerinden iki tanesinin yeri değiştirilerek elde edilebilecek iki basamaklı en büyük sayı hangisidir?

- A) 66 C) 96
B) 69 D) 99



Yukarıdaki sudokuda soru işareti ile belirtilen yere hangi sayı yazılmalıdır?

- A) 1 B) 2 C) 3 D) 4

14) Yandaki küpün kaç yüzeyi vardır?



- A) 4 B) 5 C) 6 D) 7

15) A → Z B → Y C → ?

Yukarıdaki örüntüde soru işareti ile belirtilen yere hangi harf gelmelidir?

- A) V B) N C) K D) D

16) Dudular beş kardeştir. İlk dört kardeşin adları ise şu şekildedir: Aba, Baba, Caba, Çaba.

Buna göre beşinci kardeşin adı aşağıdakilerden hangisidir?


- A) Daba C) Eba
B) Dudu D) Duba

17) Yandaki görselde hangi varlık yoktur?



- A) Yuva C) Kuş
B) Kök D) Yaprak


18)



Hangisi yukarıdaki görselde bulunan geometrik şekillerden biri değildir?

- A) Kare C) Üçgen
B) Çember D) Dikdörtgen

19) Yandaki yapıda kaç tane birim küp kullanılmıştır?



- A) 27 B) 36 C) 45 D) 54

20)



Yukarıdaki dökdörtgen kâğıttan iki tane üçgen kâğıt elde etmek için kâğıt en az kaç defa kesilmelidir?

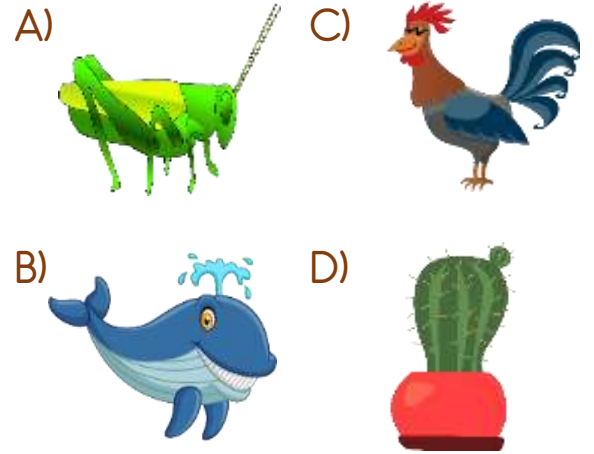
- A) 1 B) 2 C) 3 D) 4

21) 1=K 2=L 3=O 4=U

Yukarıdaki kodlamaya göre hangi şifre anlamlı bir sözcük değildir?

- A) 3142 C) 3241
B) 4312 D) 1324

22) Hangi varlık bir yönü ile diğerlerinden farklıdır?



23)

ALLDGKKGLDL
DKAGAKLLDDL
AGALDGDACC

Yukarıda en çok bulunan harf hangisidir?

- A) A B) G C) K D) L

24) Aşağıdaki resimlerden hangisi diğerlerinden farklıdır?

A)



B)



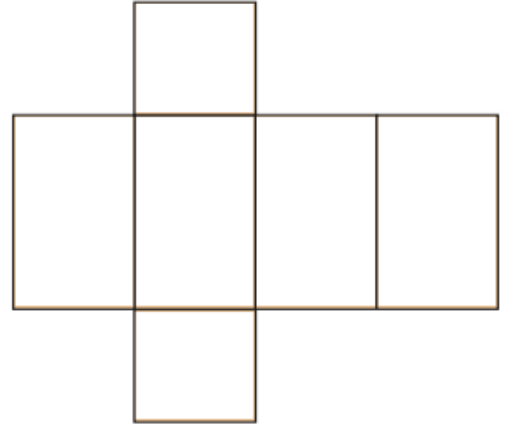
C)



D)



25)



Yukarıdaki görselde hangi cismin açılımı verilmiştir?

A)




C)



B)



D)



26)



Yukarıdaki görselde soru işaretinin yerine hangisi gelebilir?

A)



C)

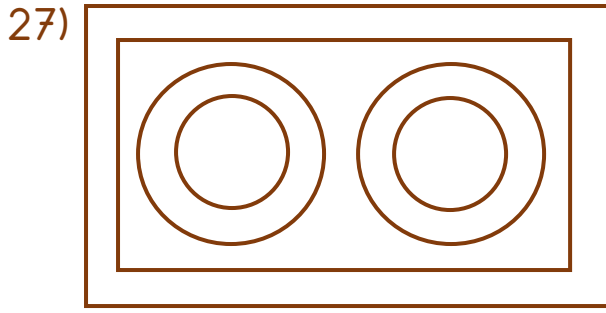


B)

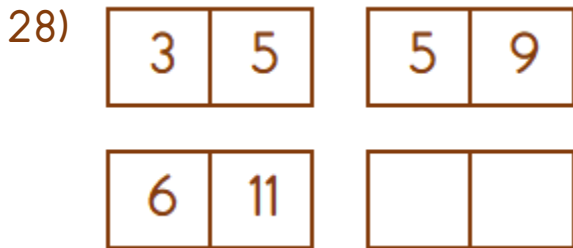
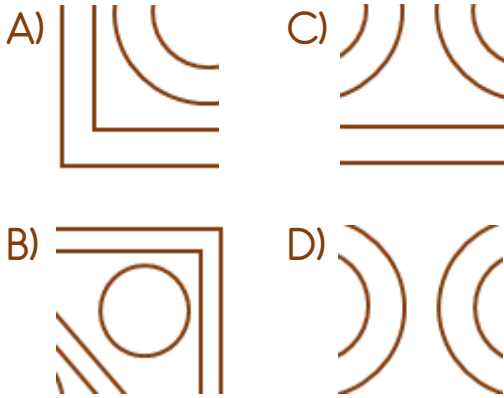


D)

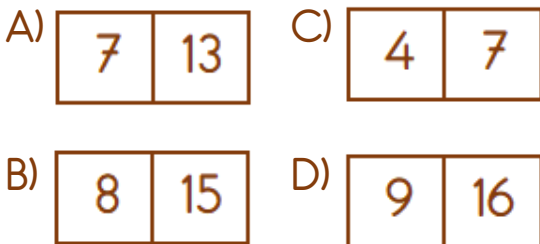




Hangisi yukarıdaki görselin bir parçası değildir?



Yukarıdaki kurala göre boş kutuların içine hangi sayı ikilisi yazılmaz?




29)

?

- * Evcil değilim.
- * Etle beslenmem.
- * Dört ayağım var.

Soru işaretinin yerine hangi hayvanın görseli gelmelidir?



30)



Yukarıdaki resfebede gizli sözcük ile ilgili hangi ifade doğrudur?

- A) Kuş türüdür.
B) Masal kahramanıdır.
C) Yemek adıdır.
D) Teknolojik alettir.

Cevap Anahtarı

1-C 2-D 3-B 4-C 5-C 6-D 7-B 8-C 9-C 10-C 11-B 12-D 13-D 14-C 15-A
16-B 17-B 18-A 19-A 20-A 21-B 22-D 23-D 24-C 25-A 26-B 27-B 28-D
29-D 30-A