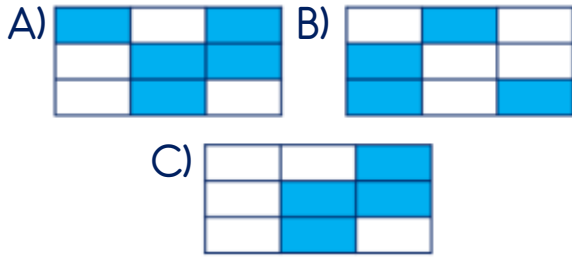


21)

İnsan	Uçak	Şimşek
Saat	Rüzgâr	Kuş
Gitar	Yağmur	Motor

Yukarıdaki tabloda doğal ses kaynakları boyandığında tablonun görüntüsü nasıl olur?



22) Aşağıdaki araçlardan hangisi sesin şiddetini artırarak daha uzağa gitmesini sağlar?



23) Yukarıdaki varlıklardan kaç tanesi canlı bir varlıktır?

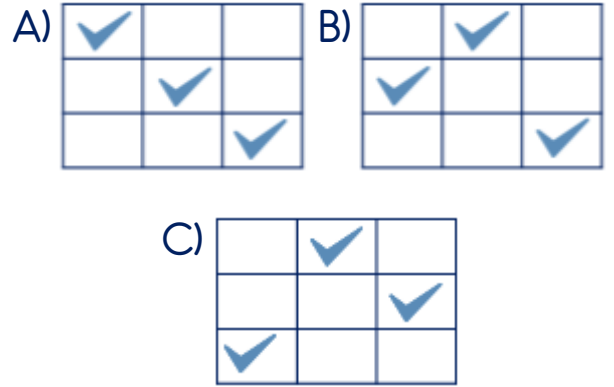


A) 3 B) 4 C) 5

24)

	Tohum	Yumurta	Doğum

Tablodaki canlıların üreme şekilleri hangi seçenekte doğru işaretlenmiştir?



25) Hafta sonu görevi olarak öğretmeni Kerem'den yakın çevresini gözlemlemesini istemiştir.



Buna göre aşağıdakilerden hangisi Kerem'in gözlemleyeceği unsurlardan biri olamaz?



- 26) () Oyun parkı
() Hayvanat bahçesi
() Orman
() Nehir

Yukarıdakilerden doğal unsurlara 'D', yapay unsurlara 'Y' nasıl yazılmalıdır?

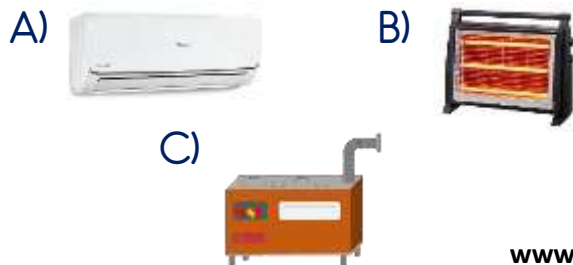
- A) (D) B) (Y) C) (Y)
(Y) (Y) (D)
(D) (D) (Y)
(Y) (D) (D)



Yukarıdaki atıklardan kaç tanesi herhangi bir geri dönüşüm kutusuna atılamaz?

- A) 3 B) 4 C) 5

28) Aşağıdakilerden hangisi ısıtma amacıyla kullanılan elektrikli bir alet değildir?



- 29) ▲ İşlerimizi kolaylaştırırlar.
■ Kazalara sebep olabilirler.
● Zaman tasarrufu sağlarlar.
◆ Harcadıkları elektrik ile aile bütçemizi olumsuz etkilerler.

Yukarıdaki ifadelerden hangisinde veya hangilerinde elektrikli aletlerin olumlu özellikleri verilmiştir?

- A) Yalnız ■
B) ▲ ve ●
C) ▲, ● ve ◆

30) Aşağıdaki tabloda elektrikli aletlerin kullanım amaçları işaretlenecektir.

	Aydınlatma	Isınma	Haberteşme	Temizlik
Ampul	1	2	3	4
Kombi	5	6	7	8
Radjo	9	10	11	12
Süpürge	13	14	15	16

Buna göre tablodaki hangi kutucuklar işaretlenmelidir?

- A) 1 - 6 - 11 - 16
B) 1 - 8 - 11 - 16
C) 4 - 6 - 9 - 15