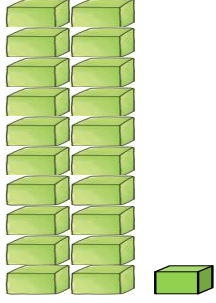





## 2.SINIF MATEMATİK ONLUK BİRLİK ÇALIŞMASI



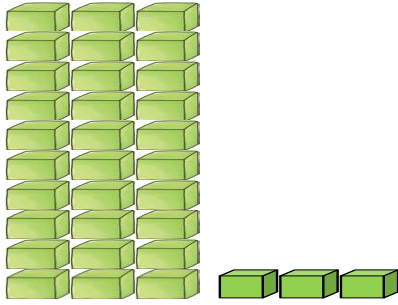
Aşağıda verilen onluk birlik modellerini tabloya uygun doldurunuz.




Onluk	Birlik
Sayı:	



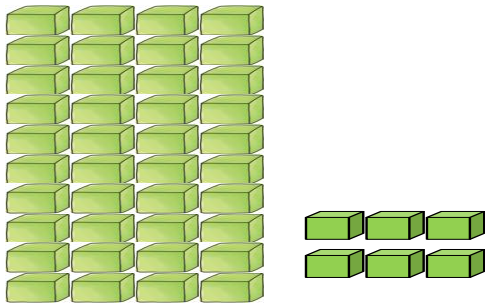
Onluk	Birlik
Sayı:	



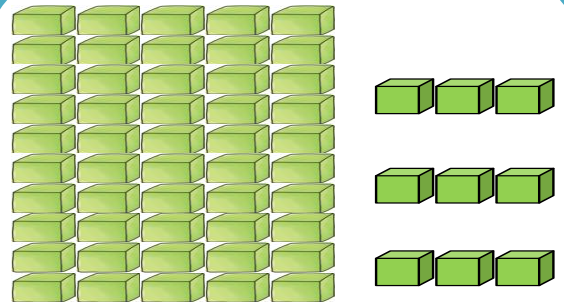
Onluk	Birlik
Sayı:	



Onluk	Birlik
Sayı:	



Onluk	Birlik
Sayı:	



Onluk	Birlik
Sayı:	



## 2.SINIF ONLUK BİRLİK ÇALIŞMALARI



1-) Aşağıda verilen sayıları uygun olan onluk birlikle eşleştiriniz.

34

68

27

83

2 onluk 7 birlik

8 onluk 3 birlik

6 onluk 8 birlik

3 onluk 4 birlik

2-) Aşağıda verilen onluk birlikleri uygun olan sayı ile eşleştiriniz.

9 onluk 4 birlik

2 onluk 5 birlik

7 onluk 2 birlik

1 onluk 6 birlik

72

16

94

25

3-) Aşağıda verilen sayıları uygun olan onluk birlikler ile eşleştiriniz.

80

37

89

61

6 onluk 1 birlik

8 onluk 9 birlik

3 onluk 7 birlik

8 onluk 0 birlik

4-) Aşağıda verilen onluk birlikleri uygun olan sayı ile eşleştiriniz.

5 onluk 0 birlik

7 onluk 3 birlik

4 onluk 4 birlik

8 onluk 6 birlik

73

50

86

44