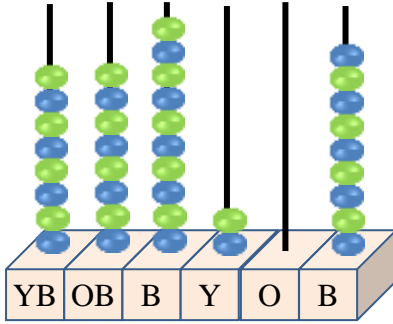


Adı :
Soyadı:

4. Sınıf
Matematik

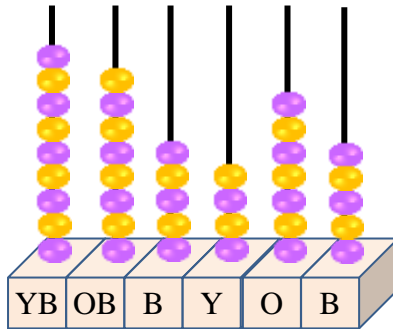
Doğal Sayılar
Bölükler-Basamaklar-9

Abaküste verilen sayıların basamak değerlerini ve sayı değerlerini yazınız.



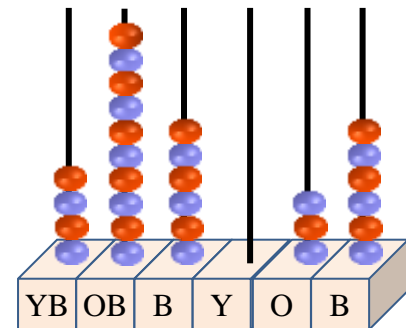
Sayı:

BASAMAK ADI	SAYI DEĞERİ	BASAMAK DEĞERİ
Yüz Binler B.		
On Binler B.		
Binler B.		
Yüzler B.		
Onlar B.		
Birler B.		



Sayı:

BASAMAK ADI	SAYI DEĞERİ	BASAMAK DEĞERİ
Yüz Binler B.		
On Binler B.		
Binler B.		
Yüzler B.		
Onlar B.		
Birler B.		



Sayı:

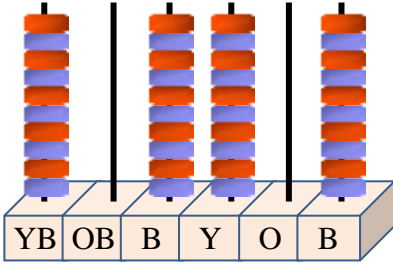
BASAMAK ADI	SAYI DEĞERİ	BASAMAK DEĞERİ
Yüz Binler B.		
On Binler B.		
Binler B.		
Yüzler B.		
Onlar B.		
Birler B.		



Adı :
Soyadı:

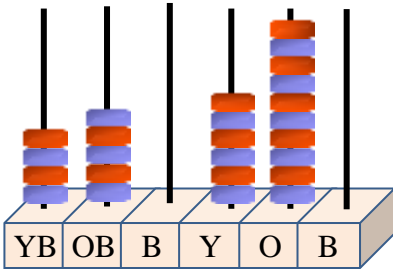
4. Sınıf Matematik

Doğal Sayılar Bölükler-Basamaklar-9



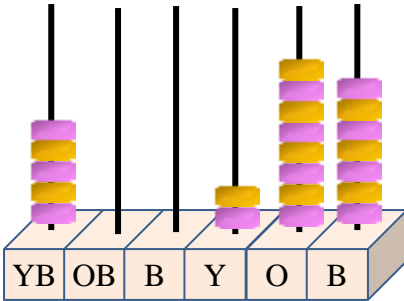
Sayı:

BASAMAK ADI	SAYI DEĞERİ	BASAMAK DEĞERİ
Binler B.		
On Binler B.		
Birler B.		
Yüzler B.		
Yüz Binler B.		
Onlar B.		



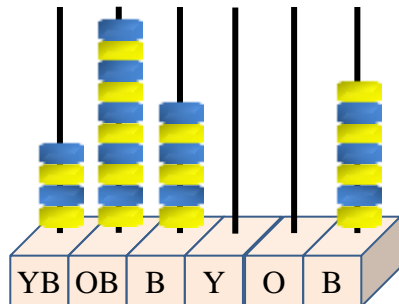
Sayı:

BASAMAK ADI	SAYI DEĞERİ	BASAMAK DEĞERİ
Binler B.		
On Binler B.		
Birler B.		
Yüzler B.		
Yüz Binler B.		
Onlar B.		



Sayı:

BASAMAK ADI	SAYI DEĞERİ	BASAMAK DEĞERİ
Binler B.		
On Binler B.		
Birler B.		
Yüzler B.		
Yüz Binler B.		
Onlar B.		



Sayı:

BASAMAK ADI	SAYI DEĞERİ	BASAMAK DEĞERİ
Binler B.		
On Binler B.		
Birler B.		
Yüzler B.		
Yüz Binler B.		
Onlar B.		

