

Adı :
Soyadı:

4. Sınıf
Matematik

Çıkarma İşlemi
Yaprak Test-2

$$4000 < \star < 6000$$

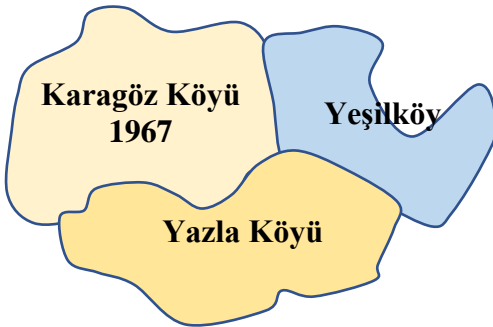
1) Yukarıda sıralamada yıldız işareti yerine yazılabilecek en büyük sayı ile en küçük sayının farkı kaçtır?

- A) 1998 B) 1999 C) 2000 D) 2001

8 0 9 0 5

2) Yukarıda verilen rakamlardan 4 tanesini kullanarak yazılabilecek en büyük sayı ile yine 4 tanesini kullanarak yazılabilecek en küçük sayının farkı kaçtır?

- A) 5852 B) 4842
C) 6254 D) 5842



3) Yukarıda haritası verilen 3 köyde toplam 5672 kişi yaşamaktadır. Yeşilköy'ün nüfusu Karagöz Köyü'nden 596 kişi azdır. Yazla Köyü'nün nüfusu kaç kişidir?

- A) 2354 B) 2344 C) 2234 D) 2334

$$5239 - 1074$$

1. işlem

$$4265 - 3368$$

2. işlem

$$9808 - 7061$$

3. işlem

4) Yukarıdaki işlemlere göre aşağıdaki ifadelerden hangisi doğrudur?

- A) 1. işlemin sonucu, 2. işlemin sonucundan küçüktür.
B) 2. işlemin sonucu, 3. işlemin sonucundan büyüktür.
C) 3. işlemin sonucu, 2. işlemin sonucundan büyüktür.
D) 1. işlemin sonucu, 3. işlemin sonucundan küçüktür.

$$\begin{array}{r} 4320 \\ 2890 \\ - \dots\dots\dots \\ \hline 8750 \end{array} \quad \begin{array}{r} \dots\dots\dots \\ \dots\dots\dots \\ - \quad A \\ \hline 6000 \end{array}$$

5) Yukarıda verilen çıkarma işleminde A sayısı hangisidir?

- A) 1800 B) 1400 C) 1600 D) 1500

6) Betül fiyatı 2400 TL olan tableti almak için her ay 250 TL para biriktiriyor. 9 ay sonunda kaç liraya ihtiyacı vardır?

- A) 50 B) 150 C) 300 D) 200

Adı :
Soyadı:

4. Sınıf
Matematik

Çıkarma İşlemi
Yaprak Test-2

$$\bullet + 1504 = 6658$$
$$\blacktriangle + 1605 = 4047$$

7) Yukarıda verilen toplama işlemlerinde verilmeyen şekillerin arasında ne kadar fark vardır?

- A) 2510 B) 2520 C) 2620 D) 2610

8) Semih ile kardeşi arasında 5 yaş fark vardır. Semih 1979 doğumlu olduğuna göre 2013 yılında kardeşi kaç yaşındadır?

- A) 24 B) 25 C) 27 D) 29




9) Bir çıkarma işleminde eksilen, çıkan ve farkın toplamı 888'dir. Buna göre eksilen sayı kaçtır?

- A) 404 B) 440 C) 444 D) 400

10) Aşağıdaki çıkarma işlemlerinden hangisinin sonucu diğerlerinden daha büyüktür?

- A) 6005 - 2009
B) 6004 - 2007
C) 6006 - 2005
D) 6007 - 2010

11) Yukarıda verilen kişilerin doğum ve ölüm yılları verilmiştir. Hangisi diğerlerinden daha fazla yaşamıştır?



-	2500	4000
1500	A	2500
2000	500	D

12) Yukarıda çıkarma işlemi tablosunda küçük sayı büyük sayıdan çıkarılacaktır. Bu tabloya göre D-A işleminin sonucu kaçtır?

- A) 1000 B) 1500 C) 2000 D) 2500

13) 1300 fazlası 4500 olan sayının 2000 eksiği kaçtır?

- A) 1300 B) 1200 C) 1400 D) 1500

Adı :
Soyadı:

4. Sınıf
Matematik

Çıkarma İşlemi
Yaprak Test-2

Doğru :.....

Yanlış:.....

- 1 A B C D
2 A B C D
3 A B C D
4 A B C D
5 A B C D

- 6 A B C D
7 A B C D
8 A B C D
9 A B C D
10 A B C D

- 11 A B C D
12 A B C D
13 A B C D
14 A B C D
15 A B C D

- 16 A B C D
17 A B C D
18 A B C D
19 A B C D
20 A B C D