

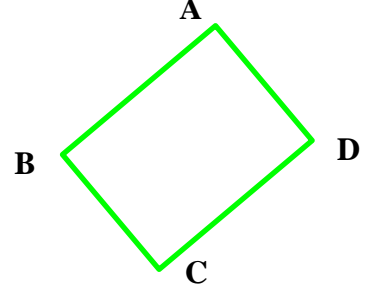
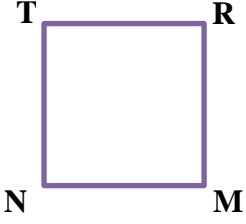
Adı :
Soyadı :

4. Sınıf
Matematik

Geometrik Şekiller-2
İsmlendirme-1

Aşağıda verilen geometrik şekillerin kenarlarını yazalım.

- * Geometrik şekillerin kenarları köşeli parantez [.....] arasına yazılır.
- * Kenar isimleri büyük harfle yazılır.



Kenarları

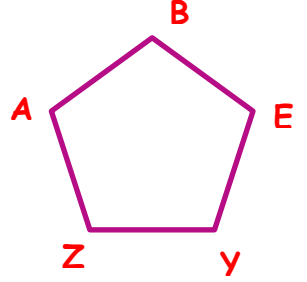
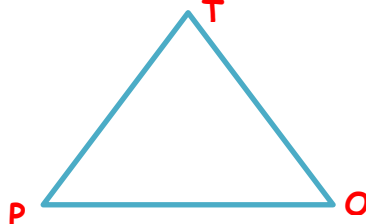
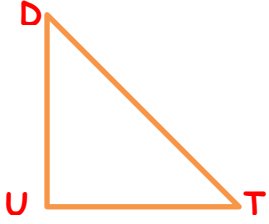
[TR] [RM]
[MN] [TN]

Kenarları

[.....] [.....]
[.....] [.....]

Kenarları

.....
.....



Kenarları

.....
.....

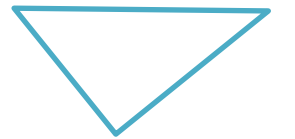



Kenarları

.....
.....

Kenarları

.....
.....

Aşağıda verilen geometrik şekilleri isimlendirip kenarlarını yazalım.



Kenarları

.....
.....

Kenarları

.....
.....

Kenarları

.....
.....

Kenarları

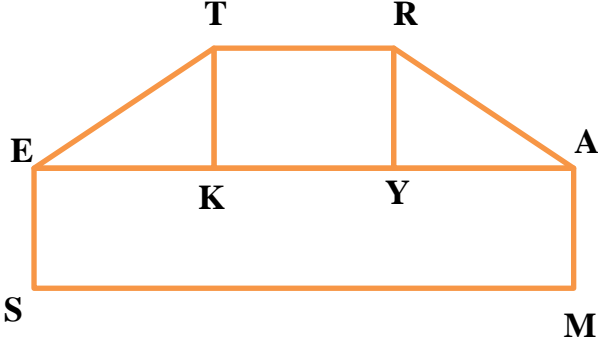
.....
.....

Adı :
Soyadı:

4. Sınıf
Matematik

Geometrik Şekiller-2
İsmlendirme-1

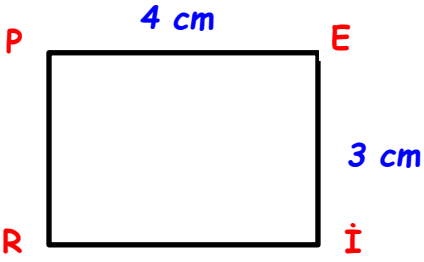
Aşağıda verilen şekilde hangi geometrik şekiller vardır? İsimleriyle yazalım.



Geometrik Şekil	ADI	KENARLARI
.....
.....
.....
.....

Aşağıda verilen dikdörtgenlerin kenarlarının uzunluklarını yazalım.

Not: Kenar isimleri yazılırken [.....] kullanılır. Kenar uzunlukları yazılırken |.....| şeklinde yazılır.



| PE | = 4 cm

..... =

..... =

..... =



..... =

..... =

..... =

..... =

..... =



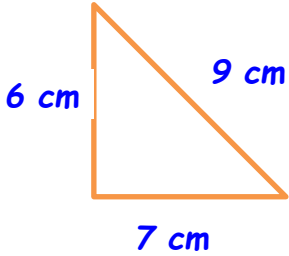
..... =

..... =

..... =

..... =

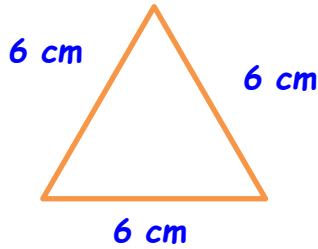
..... =



..... =

..... =

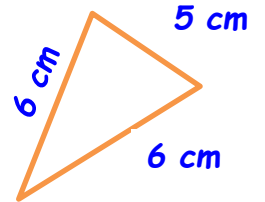
..... =



..... =

..... =

..... =



..... =

..... =

..... =