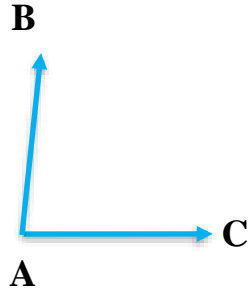
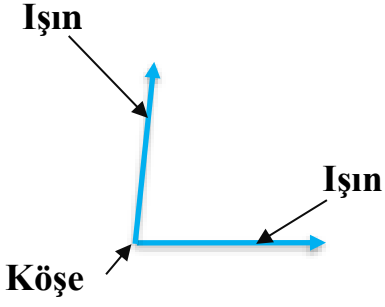


Adı :
Soyadı:

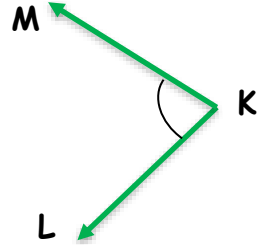
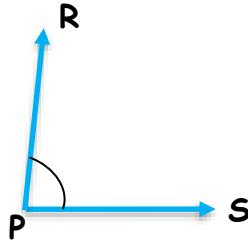
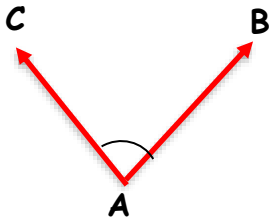
4. Sınıf
Matematik

Geometride Temel
Kavramlar-2



A açısı
BAC açısı ya da CAB açısı
[AB ışını ve [AC ışını

Aşağıdaki açıların isimlerini yazalım.

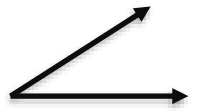
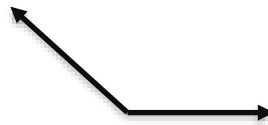
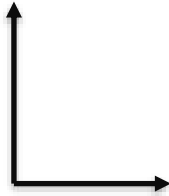
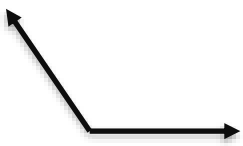


Adı: A açısı \hat{A}
Adı: BAC açısı \hat{BAC}
Adı: CAB açısı \hat{CAB}

Adı.....
Adı.....
Adı.....

Adı.....
Adı.....
Adı.....

Aşağıdaki açıların isimlendirelim. İsimlerini yazalım.



Adı:
Adı:
Adı:

Adı:
Adı:
Adı:

Adı:
Adı:
Adı:

Adı:
Adı:
Adı:

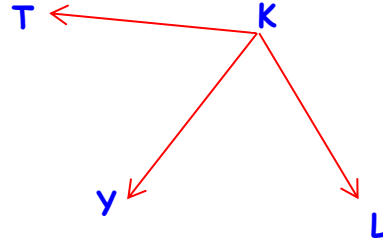
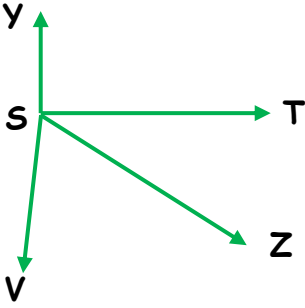
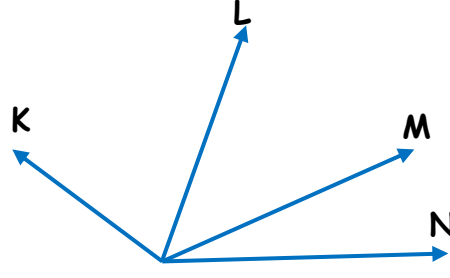
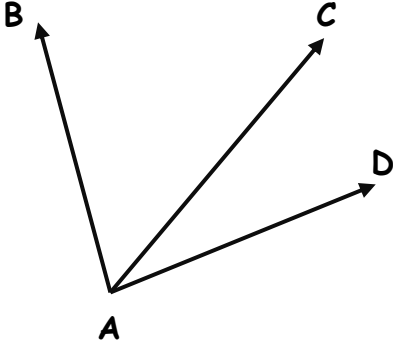
Adı :

Soyadı:

4. Sınıf
Matematik

Geometride Temel
Kavramlar-2

Aşağıdaki görsellerde bulunan bütün açıların isimlerini sembol kullanarak yazınız.



Aşağıdaki açılarda bulunan ışınların isimlerini sembol kullanarak yazınız.

