

Adı : .....  
Soyadı: .....

1. Sınıf  
Matematik

Geometrik Şekiller  
Yaprak Test-1

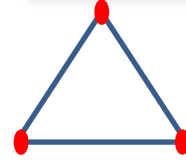
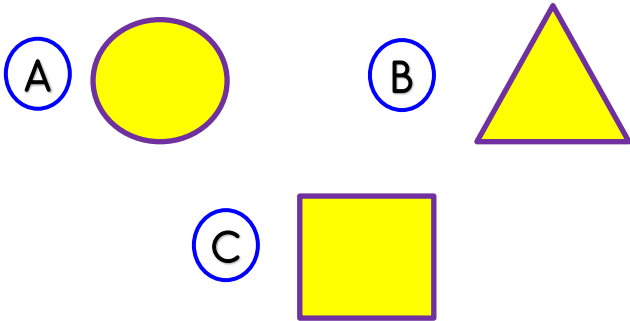
1 Aşağıdaki görsellerden hangisinin şekli diğerlerinden farklıdır?



2 Yukarıda verilen şekillerin isimleri hangisinde doğrudur?

- (A) 1-Dikdörtgen 2-Üçgen  
(B) 1-Kare 2-Dikdörtgen  
(C) 1-Üçgen 2-Kare

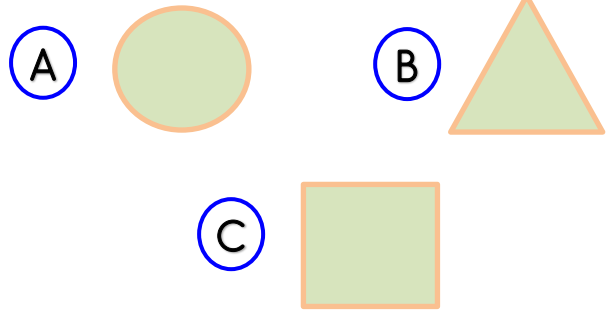
3 Aşağıdaki şekillerden hangisinin köşesi yoktur?



4 Yukarıdaki şekilde kırmızı nokta ile gösterilen yerlere ne denir?

- (A) Kenar  
(B) Köşe  
(C) Uç

5 Aşağıdaki şekillerden hangisinin kenarı en fazladır?



6 Aşağıdaki bilgilerden hangisi yanlıştır?

- (A) Çemberin köşesi yoktur.  
(B) Karenin dört köşesi vardır.  
(C) Üçgenin kenarı yoktur.

Adı : .....  
Soyadı: .....


1. Sınıf  
Matematik

Geometrik Şekiller  
Yaprak Test-1



7 Yukarıdaki geometrik şekil için hangi bilgi doğrudur?

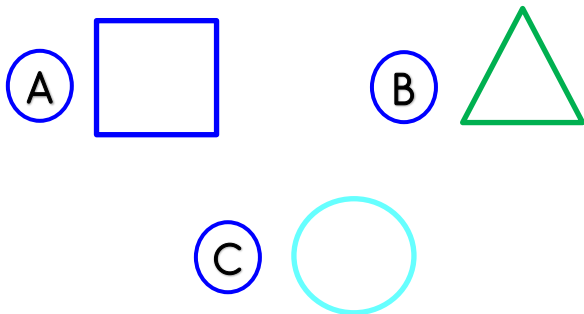
- (A) Köşesi ve kenarı yoktur.
- (B) 1 tane kenarı vardır.
- (C) 1 tane kenarı 1 tane köşesi vardır.



8 Yukarıdaki geometrik şekillerin isimleri sırası ile hangisinde doğru yazılmıştır?

- (A) Çember-Üçgen-Dikdörtgen
- (B) Daire-Kare-Dikdörtgen
- (C) Çember-Üçgen-Kare

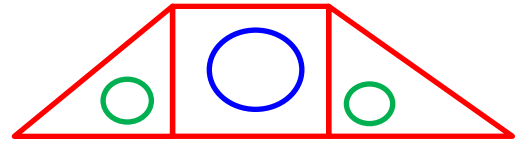
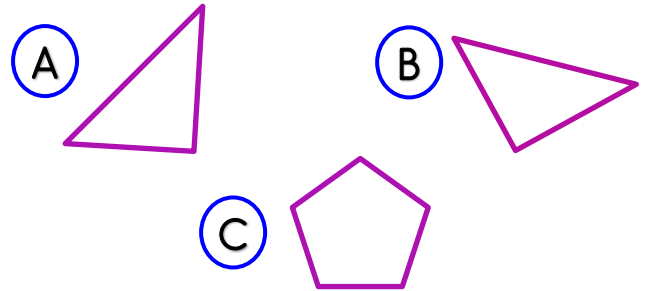
9 Aşağıdaki şekillerden hangisinin kenarı diğerlerinden fazladır?



10 Yukarıdaki dikdörtgen için hangi bilgi yanlıştır?

- (A) Köşesi ve kenarı yoktur.
- (B) 4 köşesi ve 4 kenarı vardır.
- (C) Karşılıklı kenarları birbirine eşittir.

11 Aşağıdaki şekillerden hangisi üçgen değildir?



12 Yukarıdaki görsel için hangi bilgi yanlıştır?

- (A) 2 tane çember vardır.
- (B) 2 tane üçgen vardır.
- (C) 1 tane kare vardır.