


Adı :
Soyadı:

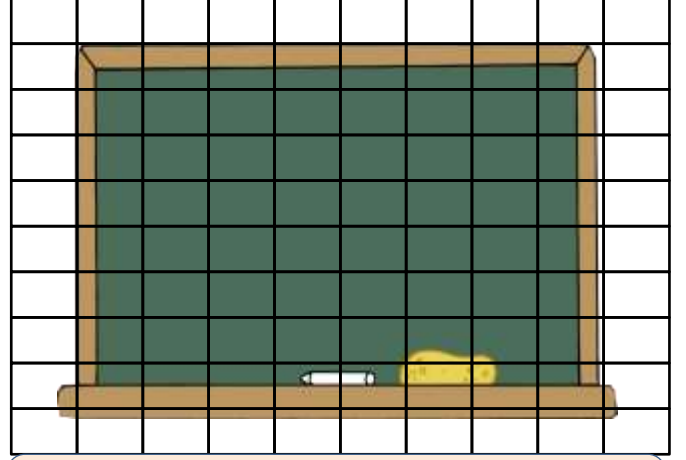
4. Sınıf
Matematik

Alan Ölçme-1


Aşağıdaki görsellerin kaç tane birimkare kapladığını örnekteki gibi bulunuz.



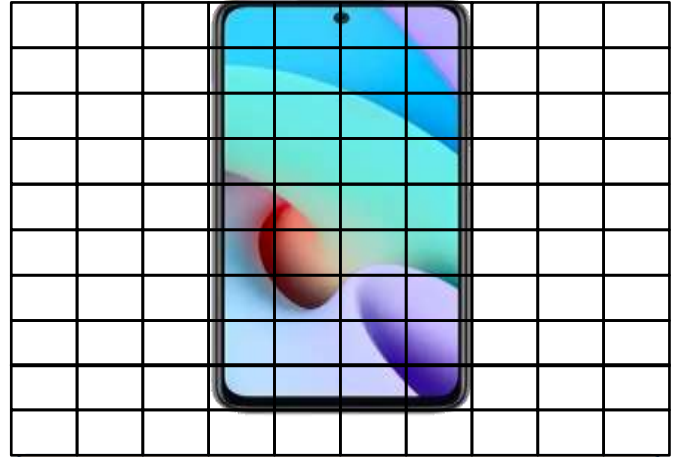
Satır Sayısı = 7 Sütun Sayısı= 6
Alanı= $7 \times 6 = 42$ birimkare




Satır Sayısı = Sütun Sayısı=
Alanı=.....



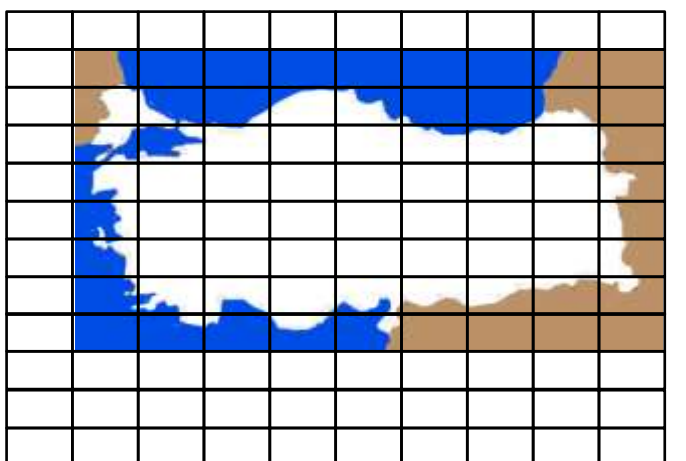
Satır Sayısı = Sütun Sayısı=
Alanı=.....



Satır Sayısı = Sütun Sayısı=
Alanı=.....



Satır Sayısı = Sütun Sayısı=
Alanı=.....



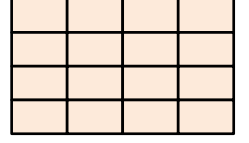
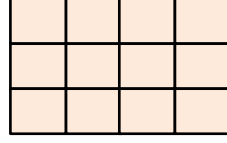


Satır Sayısı = Sütun Sayısı=
Alanı=.....

Adı :
Soyadı:

4. Sınıf
Matematik

Alan Ölçme-1

Aşağıdaki boyalı alanların satır ve sütun sayısını yazarak alanını hesaplayınız.

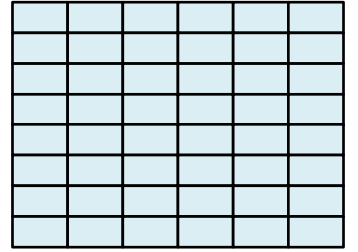
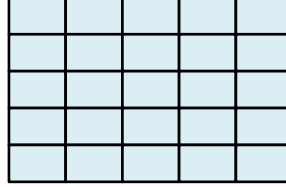
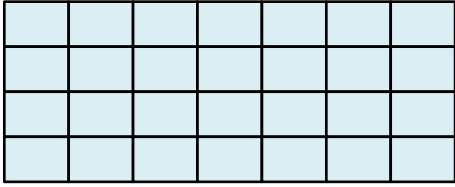


Satır Sayısı =.....
Sütun Sayısı=
Alanı=.....

Satır Sayısı =.....
Sütun Sayısı=
Alanı=.....

Satır Sayısı =.....
Sütun Sayısı=
Alanı=.....




Satır Sayısı
=.....
Sütun Sayısı=



.....
.....
.....

.....
.....
.....

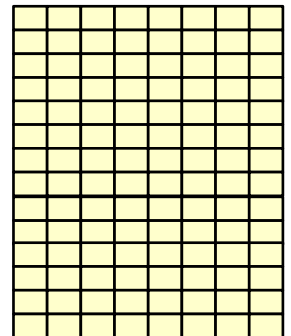


.....
.....
.....



.....
.....
.....

.....
.....
.....

.....
.....
.....



.....
.....
.....

.....
.....
.....

.....
.....
.....