


Adı :
Soyadı:

1. Sınıf Hayat Bilgisi

Doğada Hayat
Değerlendirme-1


1 Aşağıdakilerden hangisi **gerçekte** diğerlerinden **daha büyüktür**?




2 Aşağıdaki hayvanlardan hangisi **hem ot hem de et** yiyerek beslenir?

- A Tavuk
B Fil
C Aslan

3 Aşağıdaki hayvanlardan hangisi kış mevsiminde uyuyup bahar gelince uyanan hayvanlardan biri **değildir**?



4 Aşağıdaki görsellerden hangisi ilkbahar mevsimindedir?



5 Yukarıdaki resim için hangisini söyleyebiliriz?

- A Hava çok soğuktur.
B Sonbahar mevsimini anlatıyor.
C Çocuklar ince kıyafetler giymişlerdir.

6 Dünya'nın şeklini hangi meyveye benzetebiliriz?

- A İncir
B Portakal
C Armut

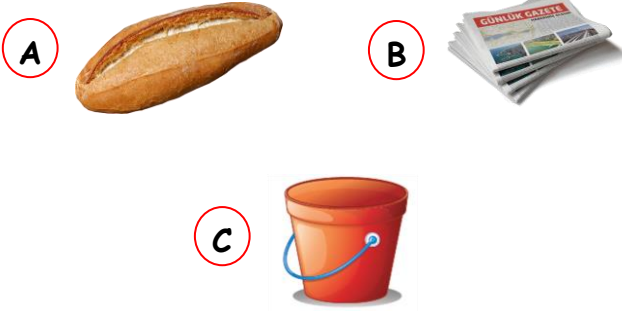
Adı :
Soyadı:

1. Sınıf Hayat Bilgisi

Doğada Hayat
Değerlendirme-1



7 Aşağıdakilerden hangisini yukarıdaki kutulardan birine atmamalıyız?



8 Aşağıdakilerden hangisi yaz mevsiminde yaşanan bir durum değildir?

- A Hava çok sıcaktır.
B Ağaçların yaprakları dökülür.
C İnsanlar ince kıyafet giyerler.

9 Aşağıdaki hayvanlardan hangisi diğerlerinden farklı yuvada yaşar?

- A Koyun
B Keçi
C Köpek

Güneş gerçekte Dünya'dan çok büyüktür. Ancak baktığımızda çok küçük görürüz.

10 Bunun nedeni hangisidir?

- A Güneş çok uzakta olduğu için
B Güneş çok sıcak olduğu için
C Güneş çok parlak olduğu için

11 Hangi çocuğun yaptığı davranış doğru değildir?



12 Aşağıdaki canlılardan hangisi diğerlerinden farklıdır?

