



Çocuktur benim adım,
Oyundur sanatım.
Uygun bir yer bulunca,
Hemen oyuna koşarım.

Oyun benim her şeyim,
Ekmeğim, aşım, suyum.
Eğer oyun yoksa,
O gün mutsuz olurum.

Hasan YILDIRIM

(İlk 4 soruyu metne göre cevaplayınız.)

1) Metne göre çocuğun sanatı aşağıdakilerden hangisiymiş?

A) Ders B) Oyun C) Yemek

2) Çocuk uygun bir yer bulunca ne yaparmış?

A) Hemen uykuya koşarmış.
B) Hemen oyuna koşarmış.
C) Hemen kitap okurmuş.


3) Oyunun olmadığı gün çocuğa ne olurmuş?

A) Mutsuz olurmuş.
B) Çok mutlu olurmuş.
C) İştahı kesilirmiş.

4) Metin ile ilgili verilen bilgilerden hangisi yanlıştır?

A) Metnin türü şiirdir.
B) Şairi Hasan Yıldırım'dır.
C) Başlığı "Okul" olabilir.

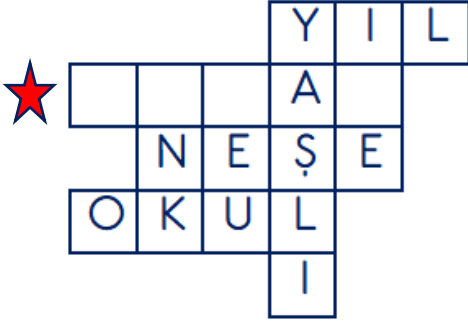
5)



Yukarıdaki papatyada eş anlamlı sözcüklerin bulunduğu yapraklar koparıldığında geriye sözcüğün bulunduğu yaprak kalır?

A) hatıra B) tören C) anı

6)



Yukarıdaki bulmacaya bazı sözcüklerin eş anlamlıları yerleştirilmiştir.

Buna göre ★ ile belirtilen yere aşağıdaki sözcüklerden hangisinin eş anlamlısı yazılamaz?




A) zaman B) yanıt C) kara

7)



$$\begin{array}{r} 185 \\ + 214 \\ \hline 399 \end{array} \quad \begin{array}{r} 347 \\ + 504 \\ \hline 851 \end{array} \quad \begin{array}{r} 479 \\ + 355 \\ \hline 734 \end{array}$$

Yukarıdaki çocuklardan hangisi toplama işleminin sonucunu yanlış bulmuştur?

A)  B) 
C) 

8) Aşağıdaki toplama işlemlerinden hangisinin sonucu diğerlerinden farklıdır?

A) $257 + 75 =$
B) $218 + 119 =$
C) $305 + 27 =$

9)

+	50	63	79
37	87	A	116
44	94	107	B
88	C	151	167

Yukarıdaki işlem tablosuna göre "A+B+C" işleminin sonucu kaçtır?

A) 297 B) 332 C) 361

10) Aşağıdaki toplama işlemlerinden hangisinin sonucu diğerlerinden daha büyük bir doğal sayıdır?

A) $356 + 234 =$
B) $482 + 178 =$
C) $527 + 123 =$

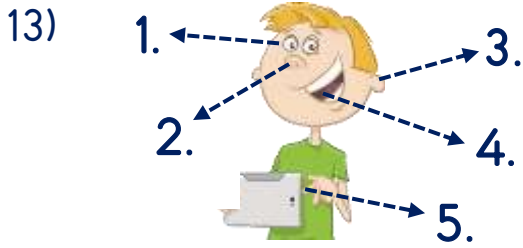
11) $(20 + 12) + 15 = 12 + (20 + \dots)$
Yukarıdaki eşitlikte boş bırakılan yere hangi sayı yazılmalıdır?

A) 12 B) 15 C) 20

12) $(35 + 23) + 48$

Yukarıdaki toplama işlemi hangisi ile aynı değildir?

- A) $35 + (18 + 23)$
- B) $(23 + 48) + 35$
- C) $48 + (23 + 35)$



Yukarıdaki görsele göre hangi eşleştirme yanlıştır?

- A) 1. - Görme
- B) 3. - Tat alma
- C) 5. - Dokunma

14) Aşağıdakilerden hangisini yaparken duyu organlarımızdan birini kullanmayız?

- A) Kitap okurken
- B) Yemek yerken
- C) Uyurken

15) Gökyüzünde bulut olup olmadığını hangi duyu organı ile anlarız?

- A) Göz
- B) Burun
- C) Kulak

16) Hangi çocuk tat alma duyu organını kullanacaktır?



17) Aşağıdakilerden hangisi başkasına yardımı ifade etmektedir?

- A) Ödevi zamanında yapmak.
- B) Arkadaşlarımızla oynamak.
- C) Okuldaki kermese katılmak.

18) Hangisi ihtiyaç sahibi birine vermek için uygun değildir?

- A) Okuduğumuz kitap
- B) Bize küçük gelen kıyafet
- C) Eskimiş ayakkabı

19) Hangi etkinlik sosyal yardımlaşma ve dayanışma amaçlı yapılmıştır?

- A) Ben Oynadım, Sen de Oyna
- B) Bilim Adamlarını Tanıyoruz
- C) Temiz Hava İçin Kır Gezisi

20) Hangisi yardımlaşma ve dayanışma ile ilgili bir duygu değildir?

- A) Huzur
- B) Mutluluk
- C) Kibir

Cevap Anahtarı

1-B 2-B 3-A 4-C 5-B 6-A 7-A 8-B 9-C 10-B 11-B 12-A 13-B 14-C 15-A 16-A
17-C 18-C 19-A 20-C

Sınava Ait Konu ve Kazanım Listesi

Ders	Konu	Kazanım
Türkçe	Eş Anlamlı Kelimeler	
Matematik	Toplama İşlemi Toplananların Yer Değiştirilmesi	M.3.1.2.1. En çok üç basamaklı sayılarla eldesiz ve eldeli toplama işlemini yapar. M.3.1.2.2. Üç doğal sayı ile yap topl işl sayıl birb topl sıras değış son değışt göst.
Fen Bilimleri	Duyu Organları ve Görevleri	F.3.2.1.2. Duyu organlarının temel görevlerini açıklar. F.3.2.1.3. Duyu organı sağlığını korumak için yapılm gerek açıklar.
Hayat Bilgisi	Hep Birlikte El Ele	HB.3.1.7. Okuldaki sosy yard ve dayanışm ilg çalışm kat ist olur.