



1. Aşağıdaki cümlelerden hangisinde zıt anlamlı kelimeler bir arada kullanılmıştır?

- A) Konuyu az çok anladım.
- B) Burası buram buram ekmek kokuyor.
- C) Şelaleden şarıl şarıl sular akıyordu.

2. Kutudaki sözcükler zıt anlamları ile eşleştirildiğinde hangi kelime boşta kalır?

• uzun	• geç
• erken	• yanlış
• doğru	

Kutudaki sözcükler zıt anlamları ile eşleştirildiğinde hangi kelime boşta kalır?

- A) yanlış
- B) uzun
- C) doğru

3. Aşağıdaki cümlelerin hangisinde yazım yanlış yapılmış bir sözcük vardır?

- A) Müzik dersinde flüt çaldık.
- B) Dinozor müzesini ziyaret ettik.
- C) Tribünde herkez yerini almıştı.

4. Tablodaki sözcüklerden kaç tanesi üç hecelidir?

• kitaplık	• bilgisayar
• ilkokul	• pantolon
• balıkçı	• özgüven

Tablodaki sözcüklerden kaç tanesi üç hecelidir?

- A) 4
- B) 5
- C) 6

5. Aşağıdaki cümlelerde altı çizili sözcüklerden hangisinin zıt anlamlısı yoktur?

- A) Nil, aynı annesine benliyordu.
- B) Karnı tok olduğu için bir şey yemedi.
- C) Okuldan gelince bahçede oyun oynadı.



6. Aşağıda görseli verilen Romen rakamının sayı olarak karşılığı hangi seçenekte verilmiştir?

- A) 10
- B) 20
- C) 22



7. Aşağıda Romen rakamları ile verilen toplama işlemlerinden hangisi hatalıdır?

- A) XI + III = XIV
- B) V + VII = XII
- C) IX + VI = XVI



8. $13 + 6 = \square$ işleminde sonucu Romen rakamı ile gösterecek olursak, doğru seçenek hangisi olur?

- A) XIX
- B) XVIII
- C) XIV

9. Rakamları farklı, üç basamaklı, en büyük çift doğal sayı hangi seçenekte doğru olarak verilmiştir?

- A) 988
- B) 987
- C) 986

10. Aşağıda verilen eşitliklerden hangisi yanlıştır?

- A) Tek Sayı + Tek Sayı = Tek
- B) Çift Sayı + Çift Sayı = Çift
- C) Tek Sayı + Çift Sayı = Tek

11. Verilen ifadelerden hangisi okulun bize kazandırdığı değerlerden biridir?

- A) bencillik
- B) kıskançlık
- C) hoşgörü



12. Yardımlaşma ile ilgili aşağıda verilen ifadelerden hangisi yanlıştır?

- A) Okullarımızda yapılan yardımlaşma ile ilgili etkinliklere katılmaya istekli olmalıyız.
B) Yardımlaşma sırasında arkadaşlarımıza ayrıcalık göstermeliyiz.
C) Kermesler okullardaki yardımlaşma ve dayanışma faaliyetlerine bir örnektir.

13. Çevrenizle duygu ve düşüncelerinizi paylaşırken olumlu ifadeler kullanmak size ne kazandırır?

- A) Arkadaşlık ilişkilerinizi kuvvetlendirir.
B) Okul başarınızı azaltır.
C) Yalnız kalmanıza, dışlanmanıza sebep olur.

14. "Kroki çizerken binalar ve yapılar ile gösterilebilir." cümlesinde boş bırakılan yere hangisi getirilebilir?

- A) ölçek
B) kare veya dikdörtgen
C) harita



15. Aşağıdakilerden hangisi, okuldaki yardım faaliyetlerinden birine örnek olabilir?

- A) İhtiyaç sahibi öğrenciler için yardım toplamak
B) Futbol maçı ayarlamak
C) Ödevlerimizi düzenli şekilde yapmak

16. Aşağıda verilenlerden hangisi duyu organlarımızdan biri değildir?

- A) dil B) göz C) ağız

17. Aşağıda verilen ifadelerden hangisi duyu organlarımızın sağlığı açısından zararlıdır?

- A) Güneşli havalarda güneş gözlüğü takmak.
B) Sıcak ve soğuk içeceklerden uzak durmak.
C) Kulağımızı sivri bir cisim ile karıştırmak.

18. "Görme olayının gerçekleşmesi için ortamda mutlaka olmalıdır." cümlesinde boş bırakılan yere aşağıdakilerden hangisi gelmelidir?

- A) renk
B) ışık
C) görsel




19.



1



2






3

Yukarıdaki duyu organlarının görevleri ile eşleştirilmesi hangi seçenekte doğru olarak verilmiştir?

- | | 1 | 2 | 3 |
|----|----------|----------|---------|
| A) | tat alma | hissetme | görme |
| B) | tat alma | görme | koklama |
| C) | hissetme | dokunma | görme |

20. Vücudumuzun dengede durmasını sağlayan duyu organımız aşağıdakilerden hangisidir?

- A)  B) 
C) 

CEVAPLAR

- 1 A B C
2 A B C
3 A B C
4 A B C
5 A B C
6 A B C
7 A B C
8 A B C
9 A B C
10 A B C

- 11 A B C
12 A B C
13 A B C
14 A B C
15 A B C
16 A B C
17 A B C
18 A B C
19 A B C
20 A B C