

Adı :
Soyadı:

4. Sınıf
Sosyal Bilgiler

İnsanlar, Yerler, Çevreler
Doğal ve Beşeri Unsurlar

Aşağıda verilen terimlerin tanımlarını yapalım.

Doğal Unsur

Beşeri Unsur

Aşağıda verilen görselleri doğal unsur veya beşeri unsur olarak belirleyiniz.



Doğal
unsur




.....
.....



.....
.....



.....
.....



.....
.....



.....
.....



.....
.....



.....
.....



.....
.....




.....
.....



.....
.....



.....
.....



.....
.....



.....
.....



.....
.....



.....
.....



.....
.....



.....
.....



.....
.....



.....
.....



.....
.....



.....
.....



.....
.....



.....
.....



.....
.....



.....
.....



.....
.....



.....
.....

Adı :
Soyadı:

4. Sınıf
Sosyal Bilgiler

İnsanlar, Yerler, Çevreler
Doğal ve Beşeri Unsurlar

Aşağıdaki görseldeki doğal ve beşeri unsurları yazalım.



Doğal Unsurlar

.....
.....
.....


Beşeri Unsurlar

.....
.....
.....

Doğal unsurların karşılığı olarak yapılan beşeri unsurları eşleştirelim.



1



2



3



4




5




6



4



5



6



4



5



6

Doğru mu? Yanlış mı? Doğru sayısı.....Yanlış sayısı.....

- (....) Lunapark ve çocuk parkları doğal unsurdur.
- (....) Toprak, hava ve su insanlar tarafından yapılmadığı için doğal unsurdur.
- (....) İnsanlar daha iyi yaşamak için doğal çevrenin doğal unsurlarını değiştirmektedir.
- (....) Hayvanlar ve bitkiler doğal unsurdur.
- (....) İnsanların yaptığı birçok beşeri unsur doğal çevreyi bozmaktadır.
- (....) Deniz doğal unsurdur, havuz beşeri unsurdur.
- (....) İnsanların doğal çevrede değişiklik yapmaya gücü yoktur.
- (....) Doğal çevrede bulunan tüm unsurlar doğal unsurdur.
- (....) Doğal unsurları yanlış kullanmak çevre felaketlerine neden olabilir.
- (....) İnsanların yaptıkları unsurlara beşeri unsur deriz.