



Adı Soyadı : .....

Numarası : .....

## Konu: Çarpma İşlemi Değerlendirme Etkinliği

1) 13 sayısının 5 katının 10 fazlasını ifade eden işlem hangi seçenekte verilmiştir?

- A)  $(13 + 5) \times 10$   
 B)  $(13 \times 5) + 10$   
 C)  $(13 + 10) \times 5$

2) Aşağıdaki çarpma işlemlerinden hangisinin sonucu diğerlerinden farklıdır?

- A)  $\begin{array}{r} 30 \\ \times 24 \\ \hline \end{array}$  B)  $\begin{array}{r} 27 \\ \times 32 \\ \hline \end{array}$  C)  $\begin{array}{r} 45 \\ \times 16 \\ \hline \end{array}$

3)  $A \times 6 = 54$

Yukarıdaki çarpma işleminde A rakamı 1 azaltıldığında sonuç ne olur?

- A) 48 B) 42 C) 36

4) Yandaki çarpma işlemine göre  $\triangle + \blacksquare + \star$  işleminin sonucu kaçtır?

- A) 17  
 B) 18  
 C) 19

$$\begin{array}{r} 37 \\ \times 2\triangle \\ \hline 148 \\ \times \blacksquare 4 \\ \hline \star 88 \end{array}$$

5)  $34 > \dots > 28$

Yukarıdaki sıralamada noktalı yerlere yazılabilecek en büyük ve en küçük sayıların çarpımı kaçtır?

- A) 985 B) 957 C) 952

6) Yandaki tabloya göre  $\star + \blacksquare$  kaçtır?

- A) 114  
 B) 112  
 C) 110

x	7	8
6	$\blacksquare$	
9		$\star$

7) Aşağıdaki toplama işlemlerinden hangisinin sonucu yandaki işlemin sonucu ile aynıdır.

- A)  $\begin{array}{r} 508 \\ + 493 \\ \hline \end{array}$  B)  $\begin{array}{r} 652 \\ + 257 \\ \hline \end{array}$  C)  $\begin{array}{r} 409 \\ + 539 \\ \hline \end{array}$

$$\begin{array}{r} 158 \\ \times 6 \\ \hline \end{array}$$

8) Yandaki verilenlere göre  $\star - \blacksquare$  işleminin sonucu kaçtır?

- A) 300  
 B) 350  
 C) 400

$$\begin{array}{l} \star = 6 \times 100 \\ \blacksquare = 25 \times 100 \end{array}$$

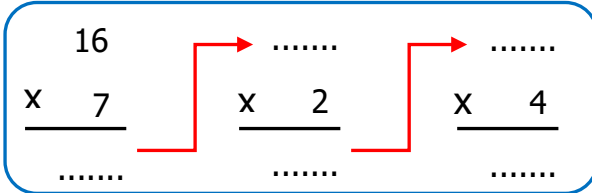
9) Aşağıdaki çarpma işlemlerinden hangisi yanlıştır?

- A)  $23 \times 24 = 554$
- B)  $25 \times 15 = 375$
- C)  $36 \times 26 = 936$

10) Her birinde 19 kilogram bulunan 15 kasa eriğin, 196 kilogramı satıldı. Geriye kaç kilogram erik kaldı?

- A) 68
- B) 76
- C) 89

11)



Yukarıdaki çarpma işlemlerinin sonucu kaçtır?

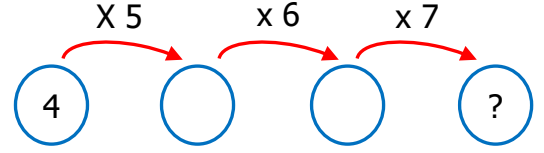
- A) 896
- B) 876
- C) 856

12) Yandaki çarpma işleminin sonucuna göre  $A \times B \times C$  işleminin sonucu kaçtır?

- A) 95
- B) 90
- C) 85

$$\begin{array}{r} 136 \\ \times 7 \\ \hline ABC \end{array}$$

13)



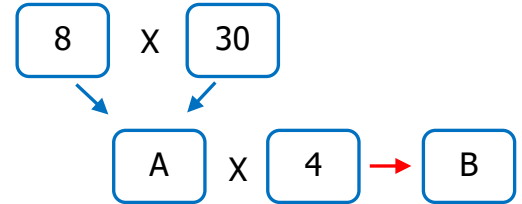
Yukarıda verilen çarpma işlemlerine göre "?" ile gösterilen yere hangi sayı yazılmalıdır?

- A) 820
- B) 840
- C) 860

14) Rakamları farklı iki basamaklı en büyük tek sayının 10 katı aşağıdakilerden hangisidir?

- A) 970
- B) 953
- C) 930

15)



Yukarıdaki çarpma işlemine göre "A" ve "B" yerine sırasıyla hangi sayılar yazılabilir?

- A) 800
- B) 940
- C) 960

16) Bir ceket 145 TL, bir gömlek 55 TL'dir. 2 ceket ve 5 gömlek alan müşteri kaç TL öder?

- A) 565
- B) 575
- C) 585