

Adı : .....

Soyadı: .....

### 3. Sınıf Matematik

Zaman Ölçme-8

Aradaki süreyi hesaplamak için bitiş saatinden başlama saatini çıkarırız.

Önce dakikayı çıkarırız.  
Sonra saati çıkarmalıyız.

11 70

~~12.10~~

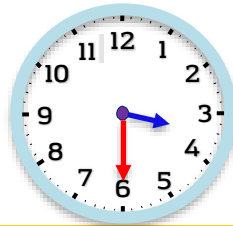
10.40

—  
01.30

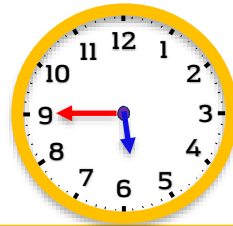
Aşağıdaki faaliyetler için geçen süreyi hesaplayınız.

Yapılan Faaliyet	Başlama Saati	Bitiş Saati	Süre
Kahvaltı	09.50	10.20	
Alışveriş	11.40	13.20	
Gezi	14.50	15.30	
Oyun	15.50	16.40	
Ders Çalışma	17.00	18.10	
Film İzleme	18.40	20.10	

Aşağıdaki faaliyetler için geçen süreyi hesaplayınız.

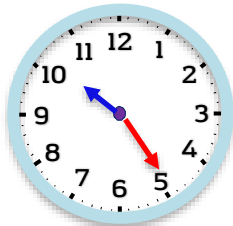


Başlama Saati

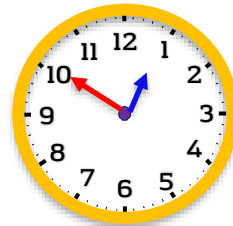


Bitiş Saati

Piknik ne kadar sürmüştür?



Başlama Saati



Bitiş Saati

Temizlik ne kadar sürmüştür?

Adı : .....

Soyadı: .....

3. Sınıf  
Matematik

Zaman Ölçme-8

Aşağıdaki sürelerde boşlukları tamamlayınız.

1 yıl	2 yıl
.....gün	.....gün

1 yıl	2 yıl	3 yıl	4 yıl
.....mevsim	.....mevsim	.....mevsim	.....mevsim

1 yıl	2 yıl	3 yıl	4 yıl
.....ay	.....ay	.....ay	.....ay

1 yıl	2 yıl	3 yıl	4 yıl
.....hafta	.....hafta	.....hafta	.....hafta

1 ay	2 ay	3 ay	4 ay	5 ay	6 ay	8 ay	10 ay
.....gün	.....gün	.....gün	.....gün	.....gün	.....gün	.....gün	.....gün

1 hafta	2 hafta	5 hafta	7 hafta
.....gün	.....gün	.....gün	.....gün

1 ay	2 ay	3 ay	5 ay
.....hafta	.....hafta	.....hafta	.....hafta

1 gün	2 gün	3 gün	4 gün	5 gün	7 gün	10 gün	15 gün
.....saat	.....saat	.....saat	.....saat	.....saat	.....saat	.....saat	.....saat

1 saat	2 saat	3 saat	4 saat	5 saat	7 saat	10 saat
.....dakika	.....dakika	.....dakika	.....dakika	.....dakika	.....dakika	.....dakika

1 dakika	2 dakika	3 dakika	5 dakika	8 dakika	10 dakika	15 dakika
.....saniye	.....saniye	.....saniye	.....saniye	.....saniye	.....saniye	.....saniye