

Adı :
Soyadı:

3. Sınıf Matematik

Dörtgen, Beşgen,
Altıgen ve Sekizgen

Geometrik şekillerin **köşelerini** işaretleyiniz.




Köşe Sayısı

.....




Köşe Sayısı

.....



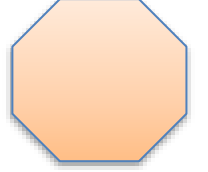
Köşe Sayısı

.....



Köşe Sayısı


.....



Köşe Sayısı

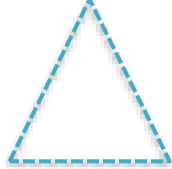
.....

Geometrik şekillerin köşelerini işaretleyip **kenarlarını** çiziniz.



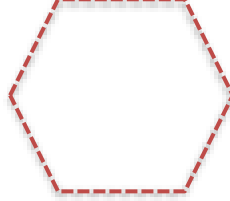
Kenar Sayısı

.....



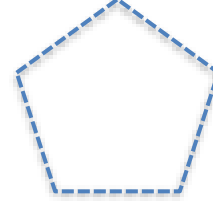
Kenar Sayısı

.....




Kenar Sayısı

.....



Kenar Sayısı

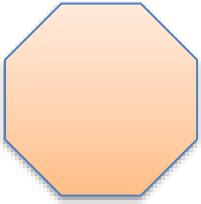
.....



Kenar Sayısı

.....


Geometrik şekillerin isimlerini yazınız.



Köşe Sayısı:.....

Kenar Sayısı:.....

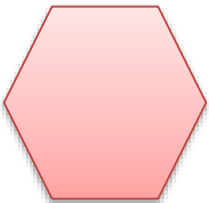
Adı:.....



Köşe Sayısı:.....

Kenar Sayısı:.....

Adı:.....



Köşe Sayısı:.....

Kenar Sayısı:.....

Adı:.....



Köşe Sayısı:.....

Kenar Sayısı:.....

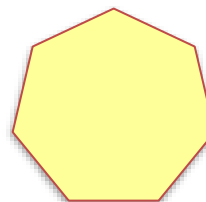
Adı:.....



Köşe Sayısı:.....

Kenar Sayısı:.....

Adı:.....



Köşe Sayısı:.....

Kenar Sayısı:.....

Adı:.....

Adı :


Soyadı:

3. Sınıf Matematik

Dörtgen, Beşgen,
Altıgen ve Sekizgen

Geometrik şekillerin **köşegenlerini** çiziniz.

Köşegen: Komşu olmayan köşeleri birleştiren çizgi



Karenin 2 tane
köşegeni vardır.

