

eczane

Blank writing area with a red vertical line and four blue horizontal lines.

GÜNLÜK 4 İŞLEM ALIŞTIRMALARI

$$\begin{array}{r} 292 \\ + 283 \\ \hline \end{array}$$

$$\begin{array}{r} 307 \\ + 247 \\ \hline \end{array}$$

$$\begin{array}{r} 505 \\ - 209 \\ \hline \end{array}$$

$$\begin{array}{r} 928 \\ - 234 \\ \hline \end{array}$$

$$\begin{array}{r} 22 \\ \times 5 \\ \hline \end{array}$$

$$\begin{array}{r} 18 \\ \times 11 \\ \hline \end{array}$$

$$\begin{array}{r} 80 \\ \times 10 \\ \hline \end{array}$$

$$\begin{array}{r} 50 \\ \times 9 \\ \hline \end{array}$$

PROBLEM, PROBLEM DEĞİL!

1

Her birinde **48** adet kek olan kutulardan **6** kutu aldım. Keklerden **159** tanesini yedim. Geriye kaç kek kaldı?

LİRA – KURUŞ İLİŞKİSİ

285 kr → ...lirakr

3 lira 60 kr → kr

459 kr → ...lirakr

5 lira 75 kr → kr

704 kr → ...lirakr

8 lira 5 kr → kr


ŞİİR ZAMANI

TEMİZLİK

KİTAP

Blank writing area for poetry with four blue horizontal lines under each heading.

RESFEBE



İSİM - ŞEHİR

K →
Z →
İ →
B →
G →

İSİM	ŞEHİR	BİTKİ	HAYVAN	EŞYA	ÜLKE

PROBLEM, PROBLEM DEĞİL!

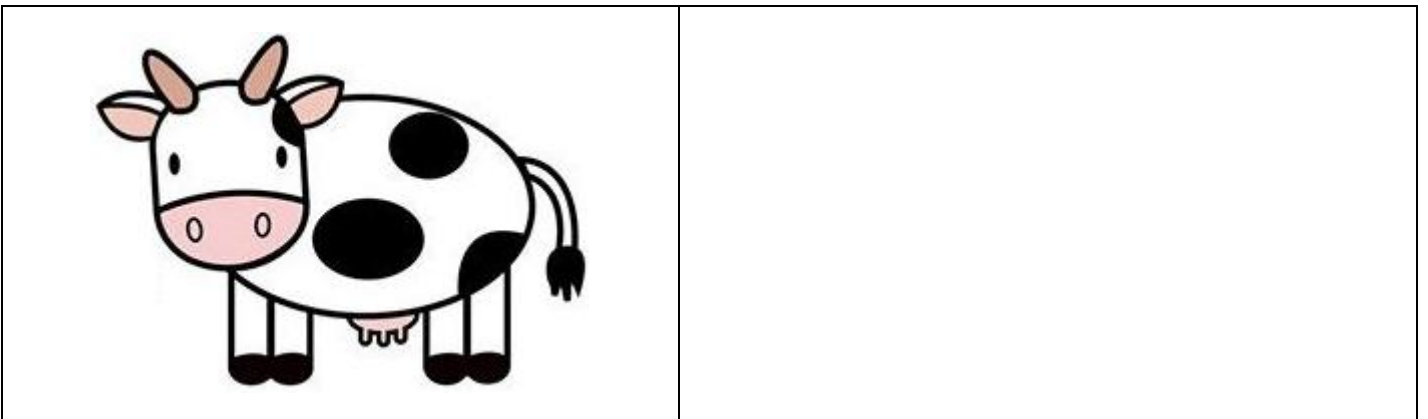
2

Bir çiftlikte **38** koyun ve **47** ördek vardır.
 Çiftlikteki hayvanların ayak sayıları **toplamı**
 kaçtır?

AKREP VE YELKOVANI ÇİZ

20.15	14.50	15.25	19.05

AYNISINI ÇİZ



SERHATES



pil

GÜNLÜK 4 İŞLEM ALIŞTIRMALARI

$$\begin{array}{r} 650 \\ + 193 \\ \hline \end{array}$$

$$\begin{array}{r} 487 \\ + 204 \\ \hline \end{array}$$

$$\begin{array}{r} 300 \\ - 145 \\ \hline \end{array}$$

$$\begin{array}{r} 721 \\ - 426 \\ \hline \end{array}$$

$$\begin{array}{r} 62 \\ \times 7 \\ \hline \end{array}$$

$$\begin{array}{r} 43 \\ \times 13 \\ \hline \end{array}$$

$$\begin{array}{r} 96 \\ \times 5 \\ \hline \end{array}$$

$$\begin{array}{r} 45 \\ \times 3 \\ \hline \end{array}$$

PROBLEM, PROBLEM DEĞİL!

1

48 sayfalık kitabın 8'de 1'ini okudum. Geriye okunacak kaç sayfa kaldı?

CANLILARIN ORTAK ÖZELLİKLERİ

1	
2	
3	
4	

5	
6	
7	

ŞİİR ZAMANI

ÖĞRETMEN

BAYRAM

ROMEN RAKAMLARI





XVIII	
XIV	
III	
V	

I	
XIX	
IX	
XVII	

XII	
IV	
XIII	
II	

X	
XV	
XX	
XVI	

ÖĞLEDEN SONRA SAAT KAÇ?

			
→	→	→	→

PARALARIN ARKASINDA KİMLER VAR?



HER HARFTEN 1 ÜLKE YAZ

A		F		K		P		Ü	
B		G		L		R		V	
C		H		M		S		Y	
Ç		I		N		Ş		Z	
D		İ		O		T			
E		J		Ö		U			



hasta

GÜNLÜK 4 İŞLEM ALIŞTIRMALARI

$$\begin{array}{r} 423 \\ +248 \\ \hline \end{array}$$

$$\begin{array}{r} 592 \\ -374 \\ \hline \end{array}$$

$$\begin{array}{r} 26 \\ \times 3 \\ \hline \end{array}$$

$$\begin{array}{r} 35 \\ \times 12 \\ \hline \end{array}$$

$$\begin{array}{r} 96 \overline{) 3} \\ \hline \end{array}$$

$$\begin{array}{r} 148 \overline{) 4} \\ \hline \end{array}$$

PROBLEM, PROBLEM DEĞİL!

1

Bir okulda **7** sınıf ve her sınıfta **23** öğrenci vardır. **67** tane **kız** öğrenci olduğuna göre, bu okuldaki **erkek** öğrenci sayısı kaçtır?

TRAFİK LEVHALARI



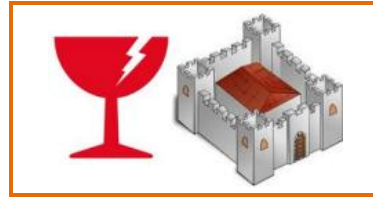


ŞİİR ZAMANI

ANNE

İLKBAHAR

RESFEBE



AYLARI – MEVSİMLERİ YAZ

1. Ay	2. Ay	3. Ay	4. Ay	5. Ay	6. Ay

7. Ay	8. Ay	9. Ay	10. Ay	11. Ay	12. Ay

Kış mevsiminin ayları

--	--	--

İlkbahar mevsiminin ayları

--	--	--

Yaz mevsiminin ayları

--	--	--

Sonbahar mevsiminin ayları

--	--	--

BÜYÜKTEN – KÜÇÜĞE GEZEĞENLER

1. sırada



2. sırada



3. sırada



4. sırada



5. sırada



6. sırada



7. sırada



8. sırada



J

S

U

N


D

V

M

M

AYNISINI ÇİZ



SERHATES



deniz

GÜNLÜK 4 İŞLEM ALIŞTIRMALARI

$$\begin{array}{r} 246 \\ + 235 \\ \hline \end{array}$$

$$\begin{array}{r} 501 \\ - 284 \\ \hline \end{array}$$

$$\begin{array}{r} 47 \\ \times 2 \\ \hline \end{array}$$

$$\begin{array}{r} 10 \\ \times 5 \\ \hline \end{array}$$

$$\begin{array}{r} 291 \overline{) 3} \\ \hline \end{array}$$

$$\begin{array}{r} 90 \overline{) 10} \\ \hline \end{array}$$

PROBLEM, PROBLEM DEĞİL!

1

Yüzler basamağı **6** olan üç basamaklı en küçük **tek** sayının **246** eksiği kaçtır?

SON İKİ HARFTEN KELİME ÜRET

para	→ radyo	→ yorgan	→ anten	→ enkaz
sevgi				
çiçek				
bardak				
sehpa				

ÖĞLEDEN SONRA SAAT KAÇ?

→	→	→	→

YAZ

2 tane çiçek adı yaz.		Siyah olan 2 şey yaz.		2 meslek ismi yaz.	
1.	2.	1.	2.	1.	2.
Güzel kokan 2 şey yaz.		2 tane okul eşyası yaz.		Vitamin içeren 2 gıda yaz.	
1.	2.	1.	2.	1.	2.

İNSAN İSMİ
D
İ
B
Ü
Ö

HAYVAN İSMİ
M
K
Y
S
Z

MEYVE İSMİ
P
E
K
A
Ç

SEBZE İSMİ
K
F
T
H
B

EŞYA İSMİ
A
E
Ş
K
S

KİM – KİMDİR YAZ


Babamızın kız kardeşi	→	
Annemizin erkek kardeşi	→	
Babamızın annesi	→	
Halamızın oğlu	→	

Annemizin kız kardeşi	→	
Babamızın erkek kardeşi	→	
Annemizin annesi	→	
Teyzemizin kocası	→	

RESFEBE



AYNISINI ÇİZ



SERHATES



pişmanlık

GÜNLÜK 4 İŞLEM ALIŞTIRMALARI

$$\begin{array}{r} 394 \\ + 168 \\ \hline \end{array}$$

$$\begin{array}{r} 472 \\ + 288 \\ \hline \end{array}$$

$$\begin{array}{r} 610 \\ - 334 \\ \hline \end{array}$$

$$\begin{array}{r} 575 \\ - 353 \\ \hline \end{array}$$

$$\begin{array}{r} 94 \\ \times 10 \\ \hline \end{array}$$

$$\begin{array}{r} 56 \\ \times 3 \\ \hline \end{array}$$

$$\begin{array}{r} 86 \\ \underline{2} \\ \hline \end{array}$$

$$\begin{array}{r} 59 \\ \underline{5} \\ \hline \end{array}$$

PROBLEM, PROBLEM DEĞİL!

1

Gitar kursum saat **13.45**'te başladı. Kurs saat **15.15**'te bitti. Kurs kaç **dakika** sürdü?

EŞ SESLİ (SESTEŞ) SÖZCÜKLER – CÜMLE YAZ

1. ANLAMI	sözcük	2. ANLAMI
→	kat	→
→	gül	→
→	ocak	→
→	kan	→
→	yaş	→

KESİR ETKİNLİĞİ

Kesrin Yazılışı	Kesrin Okunuşu
$\frac{5}{6}$	
$\frac{1}{8}$	
$\frac{2}{5}$	

Kesrin Yazılışı	Kesrin Okunuşu
	dokuzda beş
	altıda üç
	yedide iki

DİNİ – MİLLİ BAYRAMLARI YAZ

DİNİ BAYRAMLAR
1-
2-


MİLLİ BAYRAMLAR	
1-	4-
2-	5-
3-	

PROBLEM, PROBLEM DEĞİL!

1	Her gün 9 lira biriktiriyorum. 2 haftada biriktirdiğim paranın yarısını harcadım. Geriye kaç liram kaldı?	
2	Saat 12.30 'da başlayan film 130 dakika sonra bitmiştir. Film saat kaçta bitmiştir?	

ŞİİR ZAMANI

<u>AİLE</u>	<u>TELEVİZYON</u>
<hr/> <hr/> <hr/> <hr/>	<hr/> <hr/> <hr/> <hr/>

AYNISINI ÇİZ**SERHATES**