

1) Aşağıdakilerden hangisinde "ki" **yanlış** yazılmıştır?

- A) Ondaki bu hırs başkalarında yok.
- B) Suna'daki kalemi sen mi aldın?
- C) Anladımki boş yere konuşmuşum.
- D) Saat dokuzdaki filmi birlikte izleyelim.

2) ■ Zil çaldı mı ki dışarı çıktınız?

- Sizinki daha güzel olmuş.
- ▲ Sen yardım etki işimiz çabuk bitsin.
- ◆ Mayıs ayında ki toplantı nerede olacak.

Yukarıdaki cümlelerin hangilerinde "ki" doğru yazılmıştır?

- A) ■ ●
- B) ■ ▲
- C) ● ◆
- D) ● ▲

3) " Türk Dil Kurumu" nun kısaltmasının doğru yazılışı aşağıdakilerden hangisidir?

- A) tdk
- B) T.D.K.
- C) TDK
- D) t.d.k.

4)

sa. – tel. – s. – haz.

Aşağıdaki kelimelerden hangisinin yukarıda kısaltması **yoktur**?

- A) hazılayan
- B) telefon
- C) sayfa
- D) saniye

5) Aşağıdaki cümlelerin hangisinde "de veya da"nın yazılışı **yanlıştır**?

- A) Arda yarınki törende şiir okuyacak.
- B) Okçuluk yarışması Antalya da yapılacak.
- C) Dün Samsun'a da kar yağmış.
- D) Rana merdivende oturmuş ağlıyordu.

6)

Bir atlet önce 8 km 575 m , sonra 7 km 655 m koşmuş.

Yukarıdaki ifadeye göre atlet kaç metre koşmuştur?

- A) 16220
- B) 16230
- C) 15230
- D) 15220

7)

Bir terzi 10 metre kumaşın önce yarısını kullanmış. Sonra kalan kumaşın  $\frac{3}{10}$ 'ünü kullanmış.

Yukarıdaki ifadeye göre kaç santimetre kumaş kalmıştır?

- A) 150
- B) 350
- C) 250
- D) 450

- 8) 9 metre ipin önce 2 m 38 cm'si sonra 3 m 7 cm'si kesilmiştir.

Yukarıdaki ifadeye göre kaç cm ip kalmıştır?

- A) 455                      B) 365  
C) 465                      D) 355

- 9) Her birinin kalınlığı 35 mm olan 18 kitap üst üste konuluyor.

Kitapların yüksekliği kaç cm olur?

- A) 63                      B) 60  
C) 53                      D) 50

- 10) Sinem'in boyu 139 cm'dir. Melih ise Sinem'den 130 mm uzundur.

Sinem ve Melih'in boyları toplam kaç cm'dir?

- A) 152                      B) 181  
C) 291                      D) 301

- 11) I- Okul , çocuklara hayata hazırlayıcı beceriler de kazandırır.  
II- Okul, çocukların sosyalleşmesinde rol almaz.  
III- Okul, çocuklara iletişim kurma becerisi kazandırır.

Yukarıdaki ifadelerle ilgili aşağıdakilerden hangisi doğrudur?

- A) I ve II doğru , III yanlış  
B) Üçü de doğru  
C) I doğru , II ve III yanlış  
D) I ve III doğru , II yanlış

12)



Doğada yürüyüşler yapmak hoşuma gidiyor.

Yukarıdaki çocuğun ilgi alanına göre aşağıdaki sosyal kulüplerden hangisine üye olabilir?

- A) Satranç Kulübü  
B) Sağlık ve Temizlik Kulübü  
C) İzcilik Kulübü  
D) Sivil Savunma Kulübü

- 13) Sosyal kulüplerle ilgili aşağıdakilerden hangisi **yanlıştır**?

- A) Sorumluluklar paylaşılır.  
B) İş birliğine gerek yoktur.  
C) Karar alınırken herkes fikrini söyler.  
D) Çalışmalar sırasında eleştirilere açık olmayız.

- 14) Seçtiğimiz kulüp .....▲..... ve .....●..... uygun olmalıdır.

Yukarıdaki cümlede noktalı yerlere aşağıdakilerden hangileri yazılırsa daha doğru olur?



- A) ilgi alanımıza boyumuza  
B) çalışkanlığımıza yeteneğimize  
C) arkadaşlarımıza ilgi alanımıza  
D) ilgi alanımıza yeteneğimize
- 15) Aşağıdakilerden hangisi öğrenci kulüpleri-faydalarından biri değildir?
- A) Boş zamanımız çoğalır.  
B) Kendimize güven duygusu artar.  
C) Yeni arkadaşlıklar kurarız.  
D) Sorumlulukları yerine getirme bilinci artar.

16) I- Su

II- Elektrik

III- Petrol

Yukarıdaki kaynaklardan hangisi veya hangileri **sınırsız değildir** ?

- A) II B) II-III  
C) I-II-III D) III

- 17)  Kaynakları korumak belediyelerin görevidir.  
 Kaynakları korumak herkesin görevidir.  
 İsraftan kaçınmak kaynakları korumanın bir yoludur.

Yukarıdaki ifadelerden doğru olanlara "D", yanlış olanlara "Y" yazarsak hangi sonuç ortaya çıkar?

- A) 

Y
D
D

 B) 

D
D
Y

 C) 

Y
D
Y

 D) 

D
D
D





- 18) ..... yapıldığında kaynaklar gelecek nesillere aktarılabilir.

Yukarıdaki cümlede noktalı yere aşağıdakilerden hangisi gelmelidir?


- A) Tasarruf B) İsrar  
C) Tüketim D) Üretim

- 19) Aşağıdakilerden hangisi bilinçli tüketicinin özelliklerinden **değildir**?

- A) Çevresine zarar vermez.  
B) Kendisine zarar vermez.  
C) Tükettiği kaynakların gelecek nesillere etkisini düşünür.  
D) Tüketim sırasında tasarrufu düşünmez.

- 20)  Ekmeđi uygun kořullarda saklamalıyız.  
 İhtiyacımız kadar ekmek almalıyız.  
 Kalan ekmekleri çöpe atmalıyız.  
 Ekmek üretimi talebe göre yapılmalı.

Ekmeđ israfını önlemek için yukarıdakilerden hangisini yapmak **yanlıřtır**?

- A)  B)  C)  D) 

## CEVAP ANAHTARI

TÜRKÇE	MATEMATİK	SOSYAL BİL.	FEN BİLİM.
1) C	6) B	11) D	16) C
2) A	7) B	12) C	17) A
3) C	8) D	13) B	18) A
4) D	9) A	14) D	19) D
5) B	10) C	15) A	20) B