



Adı Soyadı : .....

Numarası : .....

Konu: Bölme İşlemini Öğrenelim

## Bölme İşlemini Öğrenelim

12 balonu çocuklara eşit şekilde eşleştirme yaparak paylaşınız. Her bir çocuğa kaç balon düştüğünü boş kutulara yazınız.




10 tane fındığı ikiye ayırınız. Grupları yuvarlak içine alınız. Toplam kaç grup oluştuğunu yazınız.



Fındıklar ikiye ..... grup oluşturur.

15 tane yumurtayı üçerli gruplara ayırınız. Grupları yuvarlak içine alınız. Toplam kaç grup oluştuğunu yazınız.



Yumurtalar üçerli ..... grup oluşturur.

14 tane kuşu 2 kafese eşit şekilde paylaşalım. Her bir kafese kaç tane kuş düşer?

Art arda çıkarma işlemi yaparak bulunuz.

$$\dots - \dots = \dots$$

$$\dots - \dots = \dots$$

$$\dots - \dots = \dots$$


$$\dots - \dots = \dots$$

$$\dots - \dots = \dots$$

$$\dots - \dots = \dots$$

$$\dots - \dots = \dots$$

..... paylaşım yapıldı.



$$\dots - \dots = \dots$$


$$\dots - \dots = \dots$$

$$\dots - \dots = \dots$$

$$\dots - \dots = \dots$$

$$\dots - \dots = \dots$$

..... paylaşım yapıldı.



12 tane misketi 4 arkadaşına eşit olarak paylaştığımızda her çocuğa kaç misket düşer?

Art arda çıkarma işlemi yaparak bulunuz.

$$\dots - \dots = \dots$$

$$\dots - \dots = \dots$$

$$\dots - \dots = \dots$$

..... paylaşım yapıldı.

