






















Adı :
Soyadı:

2. Sınıf Matematik

Veri Toplama ve Değerlendirme-5

2/D ve 2/F sınıfındaki öğrencilerin hangi takımı desteklediklerini gösteren **şekil grafiği** verilmiştir. Soruları cevaplayınız.

| | | | | |
|---|---|---|---|---|
| | | |  | |
| | |  |  | |
| |  |  |  | |
|  |  |  |  |  |
|  |  |  |  |  |
|  |  |  |  |  |
| Antalyaspor | Beşiktaş | Fenerbahçe | Galatasaray | Trabzonspor |

Antalyaspor'u destekleyen öğrenci sayısı

.....

Beşiktaş'ı destekleyen öğrenci sayısı

.....

Fenerbahçe'yi destekleyen öğrenci sayısı

.....

Galatasaray'ı destekleyen öğrenci sayısı
























.....

Trabzonspor'u destekleyen öğrenci sayısı

.....

Her şekil 3 öğrencidir.

Aşağıdaki **şekil grafiği** öğrencilerin kaç gün denize gittiklerini göstermektedir. Çetele ve sıklık tablosunu dolduralım.

| | | | | |
|---|---|---|---|---|
| | |  | | |
| |  |  |  | |
| |  |  |  |  |
|  |  |  |  |  |
|  |  |  |  |  |
|  |  |  |  |  |
| Ali | Efe | Mina | Ahsen | Cemil |

Her şekil 3 gündür.

| Öğrenciler | Çetele | Sıklık |
|------------|--------|--------|
| Ali | | |
| Efe | | |
| Mina | | |
| Ahsen | | |
| Cemil | | |

