





1)   $6 \text{ g} = 6000 \text{ mg}$

  $2 \text{ t } 300 \text{ kg} = 2300 \text{ kg}$

  $4030 \text{ mg} = 4 \text{ g } 300 \text{ g}$

  $5 \text{ t } 100 \text{ kg} = 5010 \text{ kg}$


Yukarıdaki eşitliklerden hangileri yanlıştır?

A)  

B)  

C)  

D)  

2)  250 g fındık 15 lira

Oya'nın verdiği bilgiye göre 2 kg fındık alırsa satıcıya kaç lira öder ?

A) 60

B) 110

C) 130

D) 120


3)



87 kg



65 kg



274 kg



?

Yukarıdaki hayvanların toplam ağırlığı 603 kg'dır. Buna göre eşeğin ağırlığı kaç kg'dır ?

A) 177

B) 187

C) 175

D) 179

4) Bir bakkal 3 kg kimyonu 150 g'lık poşetlere koymuş. Sonra poşetlerin tanesini 14 liraya satmış.

Yukarıda verilen bilgiye göre bakkal bu satıştan kaç lira elde eder ?

A) 180

B) 280

C) 260

D) 290

5) 6 ton 5000 gram kaç kilogramdır?



6050 kg

Aysu



6005 kg

Kayra



650 kg

Çetin



6500 kg

Başak

Öğretmenin sorduğu soruya hangi çocuk doğru cevap vermiştir?

A) Başak

B) Aysu

C) Kayra

D) Çetin

6) Bir fırında her biri 50 kg olan 36 torba un vardı. Her gün 236 kg undan ekmek yapılmaktadır.

4 gün sonunda fırında kaç kg un kalmıştır?

A) 866

B) 846

C) 756

D) 856

7) 8 kg ... g = 8126 g  
 5 g ... mg = 5034 mg  
 ● + ■ = ? mg

Yukarıdaki işlemin sonucu aşağıdakilerden hangisidir?

- A) 12634                      B) 126034  
 C) 160                        D) 1294

8) I -  $\frac{20}{100} t = \dots \text{ kg}$

II -  $\frac{3}{10} g = \dots \text{ mg}$

III-  $\frac{40}{100} \text{ kg} = \dots \text{ g}$

Yukarıdaki noktalı yerlere sırayla aşağıdakilerden hangisi gelmelidir ?

	I	II	III
A)	20	300	400
B)	200	300	40
C)	200	300	400
D)	20	30	400

- 9) 4 kg 200 g ağırlığında bir yoğurt aldım. Yoğurdun boş kabı 350 g ağırlığındadır.



Buna göre Sude'nin aldığı yoğurdun ağırlığı ne kadardır?


- A) 3850 g                      B) 3950 g  
 C) 3750 g                      D) 4050 g

- 10) 5 t 400 kg patatesin  $\frac{3}{8}$ ' ü satılmış.

Geriye kaç kg patates kalmıştır?

- A) 2025                      B) 3385  
 C) 3375                      D) 3275

11)



Yukarıdaki terazi dengededir. Bir tane armut 180 g olduğuna göre 1 tane elma kaç g'dır ?

- A) 540 g                      B) 145 g  
 C) 125 g                      D) 135 g

12)

7 kg peynir aldık. 322 lira ödedik.



Aynı peynirden satıcı 38 kg sattığına göre satıcı bu satıcıdan kaç lira elde etmiştir?

- A) 1748                      B) 1738  
 C) 1648                      D) 1758

## CEVAP ANAHTARI

- 1) B
- 2) D
- 3) A
- 4) B
- 5) C
- 6) D
- 7) B
- 8) C
- 9) A
- 10) C
- 11) D
- 12) A