

Adı :
Soyadı:

2. Sınıf Matematik

Tartma-3

Annem pazardan kaç kg ürün satın almıştır?

			
2 kg	6 kg	2 kg	3 kg

			
3 kg	5 kg	4 kg	2 kg



Çocukların ağırlıklarını bulunuz.



25 kg



23 kg



30 kg



36 kg



.....kg



.....kg



.....kg



.....kg



56 kg







53 kg





Adı :
Soyadı:

2. Sınıf Matematik

Tartma-3

Ürünlerin 1 kg fiyatları yazılıdır.
Aşağıda istenenleri bulunuz.

			
4 TL	3 TL	4 TL	5 TL

			
5 TL	4 TL	5 TL	3 TL

2 kg salatalık = TL eder.

4 kg salatalık = TL eder.

5 kg karpuz = TL eder.

8 kg karpuz = TL eder.

3 kg domates = TL eder.

5 kg domates = TL eder.

2 kg üzüm = TL eder.

4 kg üzüm = TL eder.

2 kg muz = TL eder.

5 kg muz = TL eder.

3 kg çilek = TL eder.

7 kg çilek = TL eder.

4 kg kiraz = TL eder.

6 kg kiraz = TL eder.

2 kg elma = TL eder.

5 kg elma = TL eder.

Terazileri dengeleyelim.

