



## ÇIKARMA İŞLEMİNİ ÖĞRENİYORUM

B Aşağıdaki varlıklardan belirtilen sayı kadarını ayıralım. Kalan varlığı noktalı yere yazalım.

4

A A A A A A A A A A A

...6... top kaldı.

2

A A A A A A A A

..... top kaldı.

3

A A A A A A

..... top kaldı.

5

A A A A A A A A A A A

..... top kaldı.

7

A A A A A A A A A  


..... top kaldı.




## ÇIKARMA İŞLEMİNİ ÖĞRENİYORUM




6

..... çiçek kaldı.




4

..... çiçek kaldı.




9

..... top kaldı.



7

..... çiçek kaldı.



8

..... çiçek kaldı.