



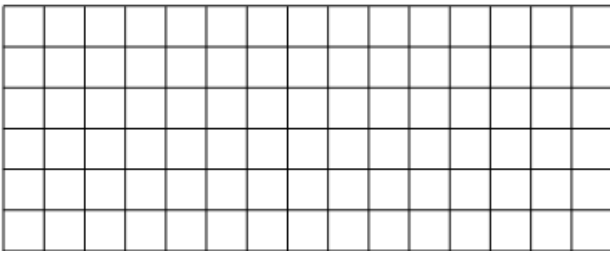
9) Caner'in kaleminin boyu 18 cm'dir. Caner kalemini kalemırař ile her açtıęında 4 mm kısalıyor. Caner kalemini 10 kez açtıęında kalemin boyu kaç cm olur?




10) Bahęeye 73 cm metre boyunda fidan diktik. Fidanı her yıl 6 cm büyümektedir. 5 yıl sonra fidanın boyu kaç cm olur?




11) Annem 7 metrelik ęamařır ipinin önce 324 cm'sini sonra da 347 cm'sini kullanmıřtır. Geriye kaç cm ip kalmıřtır?




12) Rize – Samsun arası 408 km'dir. Rize'den yola ęıkan bir otobüs, yolun $\frac{1}{6}$ 'ini gittikten sonra mola veriyor. Otobüsün Samsun'a ulaşabilmesi için moladan sonra kaç km daha gitmesi gerekir?



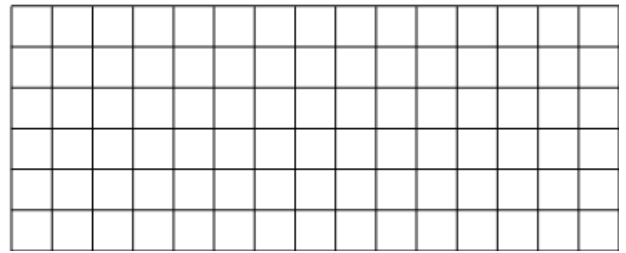
13) Bir terzi 50 metrelik bir top kumařtan 17 gömlek dikmiřtir. Bir gömlek için 150 cm kumař kullandığına göre geriye kaç cm kumař kalmıřtır?



14) Her biri 40 mm'lik 30 ip, uç uca eklenirse kaç santimetrelilik bir uzunluk oluşur?



15) Bir atlet haftada 8 km kořuyor. 1.gün 3148 m, 2.gün 2456 m kořtuğına göre 3.gün kaç metre kořmuřtur?



16) Ali'nin boyu, Berke'den 40 mm daha kısadır. Berke'nin boyu ise Emre'nin boyundan 60 mm daha kısadır. Emre'nin boyu 178 cm olduğuna göre Ali'nin boyu kaç cm'dir?

