

Adı : .....  
Soyadı: .....

4. Sınıf  
Sosyal Bilgiler

Küresel Bağlantılar  
Farklı Kùltürler-1

Aşağıdaki yemeklerin hangi ülkenin kùltürlerine ait olduklarını işaretleyelim.



Meksika

Brezilya

Fransa

Çin

Rusya

İtalya

Arjantin

Türkiye

Japonya

İngiltere

ABD

Japonya

Yunanistan

Almanya

ABD

Aşağıdaki kıyafetlerin hangi ülkenin kùltürlerine ait olduklarını işaretleyelim.



Mısır

Japonya

Nijerya

Fransa

Portekiz

Meksika

Kanada

Peru

Kazakistan

İskoçya

İtalya

Moğolistan

Rusya

Hindistan

Romanya

Aşağıdaki sporların hangi ülkenin kùltürlerine ait olduklarını işaretleyelim.



İtalya

Portekiz

Kırgızistan

Hindistan

Macaristan

Türkiye

Norveç

Japonya

Panama

İskoçya

Danimarka

İspanya

Kore

Cezayir

Kenya

Adı : .....  
Soyadı: .....

4. Sınıf  
Sosyal Bilgiler



Küresel Bağlantılar  
Farklı Kùltürler-1

Aşağıdaki mimari yapıların hangi ÷lkede bulunduğunu işaretleyelim.




- |                               |                                |                                  |                                    |                                 |
|-------------------------------|--------------------------------|----------------------------------|------------------------------------|---------------------------------|
| <input type="radio"/> İtalya  | <input type="radio"/> Arjantin | <input type="radio"/> Avustralya | <input type="radio"/> S. Arabistan | <input type="radio"/> Fransa    |
| <input type="radio"/> Türkiye | <input type="radio"/> Fransa   | <input type="radio"/> Türkiye    | <input type="radio"/> Ermenistan   | <input type="radio"/> İngiltere |
| <input type="radio"/> İsveç   | <input type="radio"/> İrlanda  | <input type="radio"/> İran       | <input type="radio"/> Türkiye      | <input type="radio"/> ABD       |

Aşağıdaki insanların hangi ÷lkenin vatandaşlarına benzediğini işaretleyelim.



- |                               |                              |                               |                               |                                  |
|-------------------------------|------------------------------|-------------------------------|-------------------------------|----------------------------------|
| <input type="radio"/> ABD     | <input type="radio"/> Çad    | <input type="radio"/> Ürdün   | <input type="radio"/> Mısır   | <input type="radio"/> Danimarka  |
| <input type="radio"/> Ekvator | <input type="radio"/> Kanada | <input type="radio"/> İsrail  | <input type="radio"/> Japonya | <input type="radio"/> Brezilya   |
| <input type="radio"/> Çin     | <input type="radio"/> KKTC   | <input type="radio"/> İsviçre | <input type="radio"/> İsveç   | <input type="radio"/> Azerbaycan |

Aşağıdaki önemli günler hangi ÷lkede kutlanmaktadır? (Birden fazla işaretleyebilirsiniz)



- |                                 |                                    |                                |                               |                                  |
|---------------------------------|------------------------------------|--------------------------------|-------------------------------|----------------------------------|
| <input type="radio"/> ABD       | <input type="radio"/> Türkiye      | <input type="radio"/> Peru     | <input type="radio"/> Irak    | <input type="radio"/> Kazakistan |
| <input type="radio"/> İngiltere | <input type="radio"/> S. Arabistan | <input type="radio"/> Kenya    | <input type="radio"/> KKTC    | <input type="radio"/> Özbekistan |
| <input type="radio"/> İran      | <input type="radio"/> Fransa       | <input type="radio"/> Portekiz | <input type="radio"/> Meksika | <input type="radio"/> Kore       |