


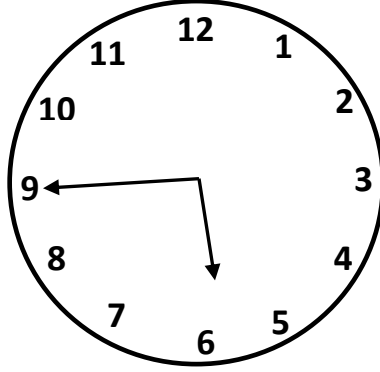
3. SINIF ZAMANI ÖLÇME

1) Aşağıdaki saatlerin kaçı gösterdiğini altlarında istenilen zaman dilimlerine göre yazınız.



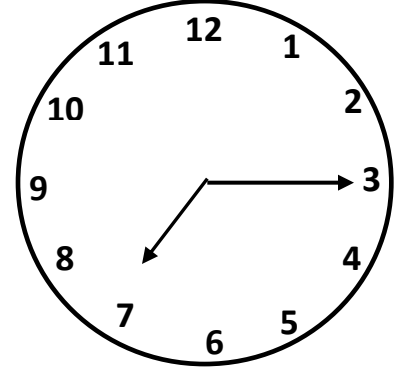
Öğleden önce:

Öğleden sonra:




Öğleden önce:

Öğleden sonra:



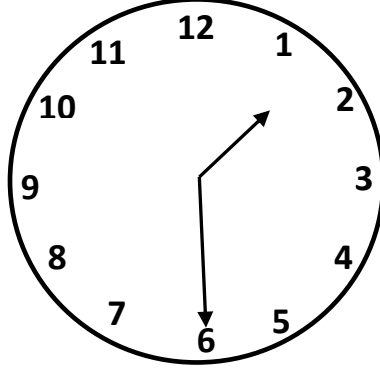
Öğleden önce:

Öğleden sonra:



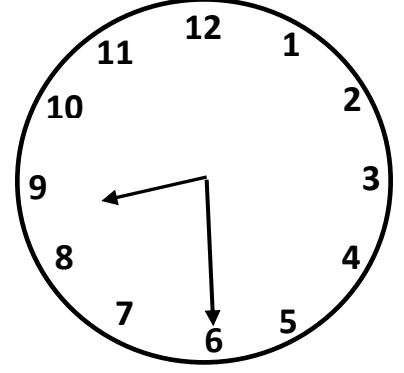
Öğleden önce:

Öğleden sonra:




Öğleden önce:

Öğleden sonra:




Öğleden önce:

Öğleden sonra:




Öğleden önce:

Öğleden sonra:



Öğleden önce:

Öğleden sonra:



Öğleden önce:

Öğleden sonra:

- 2) Elif, her akşam 20 dakika kitap okumaktadır. Buna göre, bir haftada kaç dakika kitap okumaktadır?
- 3) Her sabah 09.30'da işe giden Haluk, saat 18.30'da eve dönmektedir. Buna göre, Haluk kaç saat kaç dakika çalışmaktadır?
- 4) Bir araç sabah 11.30'da yola çıkmıştır. 3 saat yol gittikten sonra yarım saat mola vermiştir. Araç tekrar hareket ettiğinde saat kaçtır?
- 5) Beren akşam saat 22.00'de uyumuştur. Sabah saat 07.00'de uyandığına göre, Beren kaç saat uyumuştur?
- 6) Elif, sabah 08.15'te uyanmıştır. Yarım saat kahvaltı yapmış ve okul servisine binmek için aşağı inmiştir. Servis çeyrek saat sonra geldiğine göre, Elif, saat kaçta servise binmiştir?

- 7) Bir çizgi film saat 19.45'te başlamış ve yarım saat sonra bitmiştir. Çizgi film saat kaçta bitmiştir?
- 8) Bir okulda günde 6 ders yapılmaktadır. Her ders 40 dakikadır. Teneffüsler ise 10 dakikadır. Bu okulda ilk ders 08.30'da başladığına göre, dersler bittiğinde saat kaçtır?
- 9) Esin Hanım, her sabah yarım saat yürüyüş yapmaktadır. Bir ayda kaç dakika yürüyüş yapmıştır? (Bir ay 30 gündür.)
- 10) Erdem, okuldan geldikten sonra yarım saat yemek için, 1 saat bahçede arkadaşları ile oynamak için, 1 saat de ödev yapmak için vakit harcamıştır. Saat 15.00'te eve geldiğine göre, ödevleri bittiğinde saat kaçtır?
- 11) Kenan, sabah saat 08.30'da uyanmıştır. Kenan 10 saat uyduğuna göre, akşam saat kaçta uyumuştur?