



ÇIKARMA İŞLEMİ PROBLEMLER


1. Parkta 8 çocuk oyun oynuyordu. Çocuklardan 3 tanesi eve gitti. Oyun oynayan kaç tane çocuk kalmıştır ?



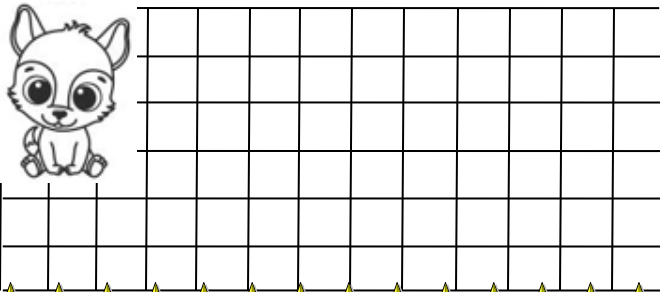
2. Fatma 12 tane problemin 5 tanesini çözdü. Fatma'nın geriye çözülecek kaç tane problemi kaldı ?




3. Dedemde 10 tane şeker vardı. Dedem şekerlerin tamamını çocuklara dağıttı. Dedemde kaç tane şeker kaldı ?




4. Ağaçtaki 19 kuşun bir kısmı uçmuş. Geriye 12 kuş kaldığına göre, kaç tane kuş uçmuştur ?




5. Bekir 20 sayfa hikayenin bir kısmını okumuş. Geriye okunacak 11 sayfa kaldığına göre, Bekir kaç sayfa okumuş ?



6. Özgür ve arkadaşları tabaktaki 12 dilim kekin 8 dilimini yemişler. Geriye kaç dilim kalmış ?



7. Resim kursuna sınıfımızdan 17 tane öğrenci gitmektedir. Giden öğrencilerin 9 tanesi kız olduğuna göre, kaç tanesi erkek öğrencidir ?



16. Tabaktaki 13 tane çileğin bir kısmı çürümüş. Geriye 10 tane sağlam çilek kalmış. Kaç tane çilek çürümüş ?

