



ÖZEL İSİMLER

🐞 Aşağıda yanlış yazılmış olan özel isimlerin doğru şeklini yazalım.

fatmanın

Mersinden

gevezeye

ayşeler

suriyede

sonere

Haydutun

ankara'ya

aksu köyü

menekşe sokak

cumhuriyet bayramı

istiklal marşını

fevzi çakmak ilkokulu'nda

rüzgara

fatih mahallesinde

acıbadem Hastanesi'nde

kurban bayramı

almanyadan

Mavişe

izmir'in

yüksel caddesi

kül kedisi

ingilizceyi

alanya'ya

toros dağları




TÜRKÇE

1. Etkinlik: Verilen kelimedeki hece sayısı kadar elmayı boyyalım .

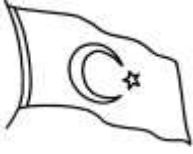
merhaba D D D D	bilgisayar D D D D	ördek D D D D	mart D D D D	tiyatro D D D D	ameliyat D D D D
saray D D D D	bank D D D D	pijama D D D D	otobüs D D D D	kütüphane D D D D	turp D D D D
kapalı D D D D	ırmak D D D D	kalabalık D D D D	yastık D D D D	deve D D D D	karınca D D D D
salatalık D D D D	kral D D D D	pazar D D D D	inek D D D D	prens D D D D	yarasa D D D D
uslanmaz D D D D	becerikli D D D D	yurt D D D D	timsah D D D D	balon D D D D	odun D D D D
plaj D D D D	elektrik D D D D	otomatik D D D D	yardımcı D D D D	bayan D D D D	mont D D D D

2. Etkinlik: Aşağıdaki kelimelerin eş anlamlılarını bulmacadan bulunuz.

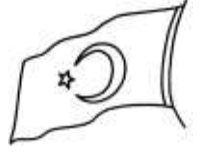


R	T	E	S	B	K	N	M	Y
I	E	K	E	L	İ	M	E	A
P	C	T	N	H	R	İ	L	E
F	E	H	E	Ş	L	S	B	L
İ	V	İ	A	İ	İ	A	U	B
K	A	F	A	K	L	F	O	İ
Ü	P	R	Ü	Y	A	İ	C	S
T	U	F	A	K	İ	R	A	E
F	C	K	R	Ç	T	M	K	L
E	K	U	V	V	E	T	L	İ





23 NİSAN



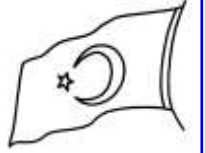
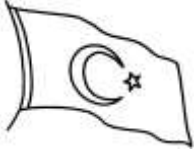
23 Nisan günü,
Yüce meclis açıldı.
Barış, sevgi, hürriyet.
Dört bir yana saçıldı.

Ulu Önder Atatürk,
Seslendi ulusuna.
Ulusunu cevap verdi
Yüce Türk Ordusuna.

Hürriyet için millet,
Bugün meclise geldi.
Dünyadaki çocuklar
Bugünü bayram bildi.

Bu bayram hepimizin.
Sakin unutmayalım.
Bu güzelim bayramı
Birlikte kutlayalım.

Sinan TAŞ



Aşağıdaki soruları şiire uygun bir şekilde cevaplayınız.

1. Yüce Meclis ne zaman açılmış?

.....

2. Meclisin açıldığı gün dört bir yana ne saçılmış?

.....

3. Millet niçin meclise gelmiş?

.....

4. Bugünü kimler bayram bilmiş?

.....

5. Ulusa kim seslenmiş?

.....

6. Şair neyi unutmamamızı istiyor?

.....



FARKLI KÜLTÜRLER

1. Etkinlik: Aşağıdaki ifadelerden doğru olanlara "D.", yanlış olanlara "Y." yazalım.

- 1.) (....) Ülkemizde farklı kültürlerden insanlar bir arada yaşarlar.
- 2.) (....) İnsanların yaşadıkları yerleri bırakarak başka yerlere gitmelerine göç denir.
- 3.) (....) İstenildiği zaman , istenilen bir ülkeye göç edilebilir.
- 4.) (....) İnsanlar dil öğrenmek ve eğitim için başka bir ülkeye göç edebilirler .
- 5.) (....) Ülkemizde yaşayan farklı kültürlerdeki insanlar kültürlerini değiştirmek zorundadırlar.
- 6.) (....) Ülkemize zorunlu göç eden insanlar hiçbir zorlukla karşılaşmazlar
- 7.) (....) Savaş , doğal afetler ve açlık gibi nedenler isteğe bağlı göç nedenleridir.
- 8.) (....) Bir arada yaşamak için farklılıklara saygı göstermeliyiz.
- 9.) (....) Ülkemize göç eden insanlara yardım etmeliyiz.

2. Etkinlik: Aşağıdaki resimdeki insanların göç etme nedenleri nelerdir? Göç eden bu insanların ülkemizde karşılaştıkları sıkıntılar nelerdir?



.....

.....

.....

.....

.....

.....

.....

ZAMANI ÖLÇME

1.Etkinlik : Aşağıdaki soruları örnekteki gibi işlem yaparak cevaplayalım.



3 saat öncesinde saat kaç olur ?

$$\begin{array}{r} 08.30 \\ - 3.00 \\ \hline 05.30 \end{array}$$



2 saat sonrasında saat kaç olur ?



2 saat öncesi saat kaç olur ?



4 saat öncesi saat kaç olur ?



5 saat öncesi saat kaç olur ?



6 saat sonrası saat kaç olur ?

15:30

2 saat öncesi saat kaç olur ?

17:30

3 saat sonrası saat kaç olur ?

04:30

7 saat sonrası saat kaç olur ?

06:30

5 saat sonrası saat kaç olur ?

18:30


4 saat öncesi saat kaç olur ?

20:30

2 saat sonrası saat kaç olur ?

ZAMANI ÖLÇME

1.Etkinlik : Aşağıdaki soruları örnekteki gibi işlem yaparak cevaplayalım.



3 saat sonrasında saat kaç olur ?

$$\begin{array}{r} 02.15 \\ + 3.00 \\ \hline 05.15 \end{array}$$



2 saat sonrasında saat kaç olur ?



2 saat öncesi saat kaç olur ?



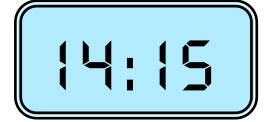
4 saat öncesi saat kaç olur ?



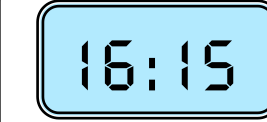
5 saat öncesi saat kaç olur ?



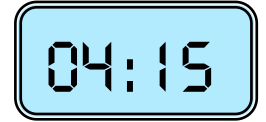
6 saat sonrası saat kaç olur ?



2 saat öncesi saat kaç olur ?



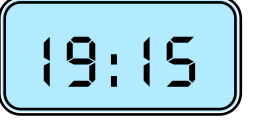
3 saat sonrası saat kaç olur ?



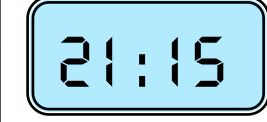
7 saat sonrası saat kaç olur ?



5 saat sonrası saat kaç olur ?



4 saat öncesi saat kaç olur ?



2 saat sonrası saat kaç olur ?

ZAMANI ÖLÇME

1.Etkinlik : Aşağıdaki soruları örnekteki gibi işlem yaparak cevaplayalım.



3 saat öncesinde saat kaç olur ?

$$\begin{array}{r} 08.45 \\ - 3.00 \\ \hline 05.45 \end{array}$$



2 saat sonrasında saat kaç olur ?



2 saat öncesi saat kaç olur ?



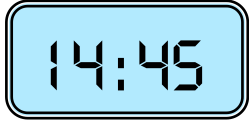
4 saat öncesi saat kaç olur ?



5 saat öncesi saat kaç olur ?



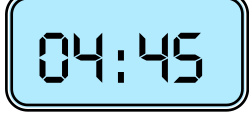
6 saat sonrası saat kaç olur ?



2 saat öncesi saat kaç olur ?



3 saat sonrası saat kaç olur ?



7 saat sonrası saat kaç olur ?



5 saat sonrası saat kaç olur ?



4 saat öncesi saat kaç olur ?



2 saat sonrası saat kaç olur ?

ZAMANI ÖLÇME

1.Etkinlik : Aşağıdaki soruları örnekteki gibi işlem yaparak cevaplayalım.



2 saat 15 dakika son-
rasında saat kaç olur?

$$\begin{array}{r} 04.00 \\ + 2.15 \\ \hline 06.15 \end{array}$$



1 saat 25 dakika son-
rasında saat kaç olur?



3 saat 30 dakika son-
rasında saat kaç olur?



1 saat 15 dakika ön-
cesinde saat kaç olur?



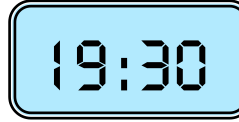
2 saat 25 dakika ön-
cesi saat kaç olur?



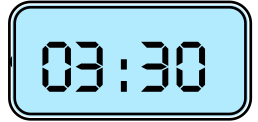
3 saat 10 dakika ön-
cesinde saat kaç olur?



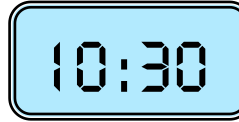
2 saat 15 dakika son-
rasında saat kaç olur?



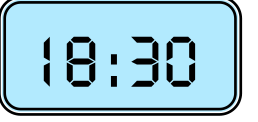
1 saat 15 dakika ön-
cesinde saat kaç olur?



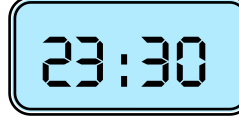
4 saat 25 dakika son-
rasında saat kaç olur?



2 saat 5 dakika ön-
cesinde saat kaç olur?



3 saat 20 dakika son-
rasında saat kaç olur?



4 saat 15 dakika ön-
cesinde saat kaç olur?

ZAMANI ÖLÇME

1.Etkinlik : Aşağıdaki soruları örnekteki gibi işlem yaparak cevaplayalım.



2 saat 10 dakika ön-
cesinde saat kaç olur?
06.15
- 2.10

04.05



1 saat 25 dakika son-
rasında saat kaç olur?



3 saat 30 dakika son-
rasında saat kaç olur?



2 saat 15 dakika ön-
cesinde saat kaç olur?



1 saat 35 dakika son-
rasında saat kaç olur?



3 saat 25 dakika ön-
cesinde saat kaç olur?

14:45

2 saat 35 dakika ön-
cesinde saat kaç olur?

19:15

1 saat 30 dakika son-
rasında saat kaç olur?

03:15

4 saat 25 dakika son-
rasında saat kaç olur?

10:45

2 saat 5 dakika ön-
cesinde saat kaç olur?

18:15

3 saat 20 dakika son-
rasında saat kaç olur?

21:45

4 saat 15 dakika ön-
cesinde saat kaç olur?

ZAMAN PROBLEMLERİ

1. Ayın 5'i çarşamba olduğuna göre 3 gün sonra ayın kaçı ve hangi gündür ?

Çözüm:



2. Arda her gün 5 sayfa kitap okumuş. Arda 1 haftada kaç sayfa kitap okumuştur?

Çözüm:



3. Suna 1 saatlik zamanın 25 dakikasında oyun oynamış. Kalan zamanda ise ders çalışmış. Suna kaç dakika ders çalışmıştır ?

Çözüm:



4. Ozan ve ailesi 2 hafta , 4 gün ve 48 saat sürecek bir tatile gitmişler. Ozan ve ailesi kaç günlüğüne tatile gitmişler ?

Çözüm:



5. Ali 3 aylık zamanın 34 günü futbol kursuna gitmiş. Ali bu süre için de kaç gün kursa gitmemiştir ?

Çözüm:



6. Eda'nın annesi sabah saat 08.00'de kalkmış. 2 saat sonra işe gitmiş. Annesi işe saat kaçta gitmiş ?

Çözüm:



7. Fatih 2 hafta boyunca hasta olduğu için evden çıkmamış. Fatih kaç gün evden çıkmamış ?

Çözüm:



8. Saat 14.00'de başlayan film saat 16.00'da bitmiş. Film kaç saat sürmüştür ?

Çözüm:



ZAMAN PROBLEMLERİ

1. Dedemler 1 yılın 4 ayında yanımızda kalıyorlar. Geri kalan aylarda ise köyde kalıyorlar. Dedemler kaç ay köyde kalıyorlar?

Çözüm:



2. Babam 1 ayın 8 günü tatil yaparken, kalan günlerinde çalışıyor. Babam bir ayda kaç gün çalışmıştır?

Çözüm:



3. Ayın 14'ü cuma günü olduğuna göre 4 gün sonra ayın kaçı ve hangi gündür?

Çözüm:



4. Hasan köye gitmiş ve 4 hafta 6 gün orada kalmış. Hasan köyde kaç gün kalmış?

Çözüm:



5. Dayım 3 yıl Rusya'da çalışmış. Dayım Rusya'da kaç ay çalışmıştır?

Çözüm:



6. Babam işten saat 17.15'de çıkmış. Babam 35 dakika sonra eve geldi. Babam eve saat kaçta geldi?

Çözüm:



7. Selim 1 yılın içinde 8 ay yüzme kursuna gitmiş. Selim 2 yılda kaç ay yüzmeye gitmemiştir?

Çözüm:



8. Fatma kütüphanede 3 saat kaldıktan sonra 12.00'de çıkmış. Fatma kütüphaneye saat kaçta gelmiş?

Çözüm:



ZAMAN PROBLEMLERİ

1. Deniz saat 10.00'da parka gitmiş ve saat 12.00'de eve dönmüş. Deniz parkta kaç saat kalmıştır ?

Çözüm:



2. Babam 3 günde toplam 12 saat bahçe-
de çalıştı. Babam 3 günde kaç saat
çalışmamıştır ?

Çözüm:



3. Amcam saat 12.15'de arabayla hareket
etmiş ve saat 16.45'de Kayseri'ye gelmiş.
Amcamın yolculuğu ne kadar sürmüştür ?

Çözüm:



4. Ayın 23'ü perşembe olduğuna göre
3 gün öncesi ayın kaçı ve hangi
gündür?

Çözüm:




5. Sıla ve arkadaşları 2 saat kütüphanede
kaldıktan sonra kütüphaneden saat
12.00'den çıkmışlar. Sıla ve arkadaşları
kütüphaneye saat kaçta girmişler?

Çözüm:



6. Uğur bir ayın 16 günü yüzmeye
gitmiş. Uğur kaç gün yüzmeye
gitmemiştir ?

Çözüm:




7. Selim 2 yılın içinde 8 ay yüzme kursuna
gitmiş. Selim 2yılıda kaç ay yüzmeye
gitmemiştir ?

Çözüm:



8. Ozan saat 08.00'de uyanmış. 30
dakika sonra okula gitmek için evden
çıkış. Evden saat kaçta çıkmış?

Çözüm:



ZAMAN PROBLEMLERİ

1. Osman bir günde 6 saat okulda kalıyor. Okul dışında kalan süre kaç saattir ?

Çözüm:



2. Demet'in izlediği film saat 14.30 da başlamış saat 15.55'de bitmiş. Film ne kadar sürmüştür ?

Çözüm:



3. Her gün 3 test çözen Arda bir haftada kaç test çözer ?

Çözüm:



4. Kemal saat 09.00'da kitap okumaya başlamış. Saat 11.00'de kitap okumayı bırakmış. Kemal kaç saat kitap okumuş ?

Çözüm:



5. Meral'in doğduğu ay şubat ayından 5 ay sonraki aydır. Meral hangi ayda doğmuştur?

Çözüm:



6. Hasan saat 14.00'te Sivas'a gitmek için yola çıkmış. Yolculuk 2 saat 30 dakika sürmüştür. Hasan Sivas'a vardığında saat kaçtır ?

Çözüm:



7. Kübra Adana'ya gittiğinde 3 hafta kalmış. Kübra kaç gün Adana'da kalmış ?

Çözüm:



8. İzlediğimiz film saat 22.30'da bitti. Film 1 saat 30 dakika sürdüğüne göre film saat kaçta başlamıştır ?

Çözüm:



ZAMAN PROBLEMLER

1. Bugün günlerden çarşamba. 5 gün sonra köye gideceğiz. Hangi gün köye gideceğiz ?

Çözüm:



2. Saat 08.00'de dışarı çıkan ablam 4 saat sonra döndü. Ablam saat kaçta eve gelmiştir ?

Çözüm:



3. Annem 1 saatin 26 dakikasında kek, kalan sürede börek yapmıştır. Annem böreği kaç dakikada yapmıştır ?

Çözüm:



4. Babam sabah saat 07.00'de kalkıyor ve 30 dakika sonra işe gidiyor. Babam saat kaçta işe gidiyor ?

Çözüm:



5. Babam 1 haftada 3 gün dinleniyor. Kalan günler işe gidiyor. Babam 4 haftada kaç gün işe gidiyor ?

Çözüm:



6. Ömer saat 09.30'da tarlada çalışmaya başladı. 2 saat çalıştıktan sonra mola verdi. Ömer saat kaçta mola verdi ?

Çözüm:



7. Ümit her ay 16 gün spor yapmış. Ümit 2 ayda kaç gün spor yapmamıştır ?

Çözüm:



8. Sinem saat 11.15'de kitap okumaya başlamış. 1 saat 25 dakika kitap okumuş. Sinem kitap okumayı saat kaçta bitirmiş ?

Çözüm:



ZAMAN PROBLEMLERİ

1. Dayım 3 yıl Ankara'da kalmış. Dayım kaç ay Ankara'da kalmıştır ?

Çözüm:



2. Ergün saat 09.30'da İngilizce dersine girdi. 1 saat 10 dakika derste kalan Ergün saat kaçta dersten çıkmıştır?

Çözüm:



3. Yavuz her gün 3 saat ders çalışmaktadır. Yavuz 2 haftada kaç saat ders çalışır ?

Çözüm:



4. Ablam 3 saat önce eve geldi. Şimdi saat 18.00 olduğuna göre ablam saat kaçta geldi ?

Çözüm:



5. Eda bir saat içinde 40 dakika ders çalışıp kalan sürede dinlenmiş. Eda 3 saat içinde kaç dakika dinlenmiştir ?

Çözüm:



6. Aykut resim kursuna saat 10.00'da girmiş saat 11.40'da çıkmış. Aykut kurs-
ta ne kadar kalmıştır ?

Çözüm:



7. 2 ay 18 gün köyde kalan İsmet , köyde toplam kaç gün kalmıştır ?

Çözüm:



8. Dayım saat 12.30'ta Kayseri'den yola çıkıyor. 1 saat 20 dakika sonra Niğde'ye varıyor. Dayım Niğde'ye saat kaçta varmıştır?

Çözüm:



ZAMAN PROBLEMLERİ

1. Kardeşim Oya günde 2 biberon süt içmektedir. Oya 2 haftada kaç biberon süt içer?

Çözüm:



2. Sabah 08:40'da dersimiz başlıyor. 14:50'de okuldan çıktığımızı göre günümüzün ne kadarı okulda geçer?

Çözüm:



3. Ayça ayda 18 gün kursa gitmektedir. Ayça bir ayda kaç gün kursa gitmemektedir?

Çözüm:



4. Kağan saat 13:20'de hikaye kitabını okumaya başladı. 1 saat 30 dakika kitap okumuş. Kağan kitap okumayı saat kaçta bırakmıştır?

Çözüm:



5. Hale şurubunu 3 günde bir içiyormuş. İlk şurubunu pazartesi içtiğine göre ikinci şurubunu hangi gün içer ?

Çözüm:



6. Kayseri'den saat 11:20'de hareket eden otobüs 15:50'de Ankara'ya varmıştır. Yolculuk ne kadar sürmüştür?

Çözüm:



7. Dedemler şubat ayında bize geldiler. 4 ay sonra köye döndüler. Dedemler hangi ay döndüler ?

Çözüm:



8. Saat 14.00'de uyuyan Melisa saat 19.00'da uyanmış. Melisa kaç saat uyumuştur ?

Çözüm:



ZAMAN PROBLEMLERİ

1. 4 gün sonra cumartesi ise bugün hangi gündür ?

Çözüm:



2. Deniz saat 8.30'da içtiği ilaçtan 6 saat sonra bir daha içecektir. Deniz ilacı saat kaçta içecek ?

Çözüm:



3. Fatma 3 yıl 5 ay önce doğmuş. Fatma doğalı kaç ay olmuştur ?

Çözüm:



4. Babam saat 10.30'da bahçede çalışmaya başladı ve saat 12.50'de işi bitti. Babam ne kadar süre çalışmıştır ?

Çözüm:



5. Nisan ve mayıs ayları toplamı kaç gündür ?

Çözüm:



6. Kübra evden çıkıp parka gitmiş. Parkta 2 buçuk saat oynamış. Eve saat 13.30'da dönmüş. Kübra evden saat kaçta çıkmış ?

Çözüm:



7. Günde 1 saat yürüyen dedem 2 haftada toplam kaç saat yürür ?

Çözüm:



8. Annem misafirlere hazırlık için saat 13.15'de mutfakta çalışmaya başladı. Saat 16.40'da mutfaktaki işlerini bitirdi. Annem mutfakta ne kadar çalıştı ?

Çözüm:

