



# PARALAR ETKİNLİK




Aşağıda verilen soruları görsellere göre cevaplayalım.

	+		=	
---	---	---	---	--




	+		+		=	
---	---	---	---	--	---	--

	+		+		=	
--	---	--	---	---	---	--

	+		+		=	
---	---	---	---	--	---	--

	+		+		=	
---	---	---	---	--	---	--


	+		=	
---	---	---	---	--


	+		+		=	
---	---	---	---	--	---	--

# PARALAR ETKİNLİK




Aşağıda verilen soruları görsellere göre cevaplayalım.

	+		=	
---	---	---	---	--



	+		+		=	
---	---	---	---	--	---	--

	+		+		=	
--	---	--	---	---	---	--

	+		+		=	
---	---	---	---	--	---	--

	+		+		=	
---	---	---	---	--	---	--

	+		+		=	
---	---	---	---	--	---	--

	+		+		=	
---	---	---	---	--	---	--



# PARALAR ETKİNLİK

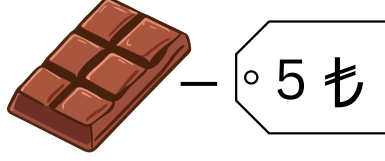
Aşağıda verilen soruları görsellere göre cevaplayalım. Etiket fiyatı tek görsel içindir.

1.

..... liram var.



..... TL 'ye çikolata aldım.



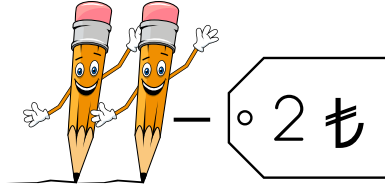
Kaç liram kaldı?

2.

..... liram var.



2 kalem .....TL



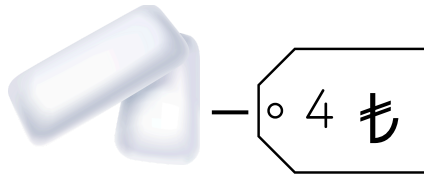
Kaç liram kaldı?

3.

..... liram var.



2 sakız.....TL



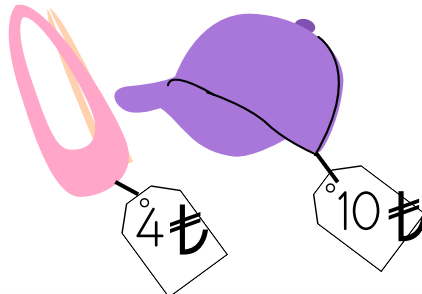
Kaç liram kaldı?

4

..... liram var.



1 toka 1 şapka.....TL'dir.



Kaç liram kaldı?



# PARALAR ETKİNLİK



Aşağıda verilen soruları görsellere göre cevaplayalım.

1. .... liram var.



Annem bu kadar para verdi.



Kaç liram oldu?

2. .... liram var.



Kaç liram oldu?

3. .... liram var.



Kumbaramdan çıktı.



Kaç liram oldu?

4. Aşağıda verilen paraları sayalım. En çok paranın olduğu kutucuğu işaretleyin.

