




# TAHMİN ETKİNLİĞİ

Adı Soyadı:.....

Veli İmzası:.....

Aşağıdaki resimleri inceleyelim. Varlıkların sayısını tahmin edelim.

Varlıkları sayarak gerçek sonucu bulalım, yazalım.



Tahmini ördek sayısı:.....


Tahmini elma sayısı:.....

Tahmini civciv sayısı:.....

Gerçek ördek sayısı:.....

Gerçek elma sayısı:.....

Gerçek civciv sayısı:.....



Tahmini yumurta sayısı:.....


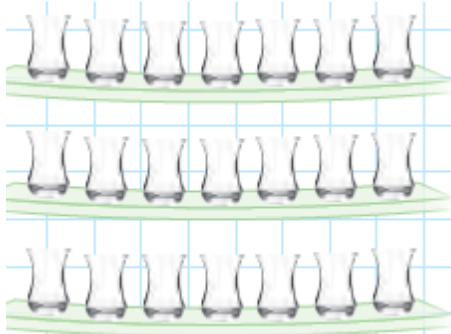
Tahmini arı sayısı:.....

Tahmini elma sayısı:.....

Gerçek yumurta sayısı:.....

Gerçek arı sayısı:.....

Gerçek elma sayısı:.....



Tahmini bardak sayısı:.....

Tahmini ördek sayısı:.....Tahmini şemsiye sayısı:.....

Gerçek bardak sayısı:.....

Gerçek ördek sayısı:.....Gerçek şemsiye sayısı:.....




Tahmini saat sayısı:.....

Gerçek saat sayısı:.....



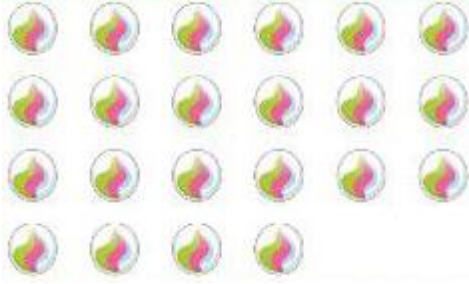
Tahmini çanta sayısı:.....

Gerçek çanta sayısı:.....



Tahmini balon sayısı:.....

Gerçek balon sayısı:.....



Tahmini bilye sayısı:.....

Gerçek bilye sayısı:.....




Tahmini bayrak sayısı:.....

Gerçek bayrak sayısı:.....




Tahmini vazo sayısı:.....

Gerçek vazo sayısı:.....




Tahmini erik sayısı:.....

Gerçek erik sayısı:.....



Tahmini keman sayısı:.....

Gerçek keman sayısı:.....



Tahmini çilek sayısı:.....

Gerçek çilek sayısı:.....