

TAHMİN ETKİNLİĞİ

Adı Soyadı:.....

Veli İmzası:.....

Aşağıdaki resimleri inceleyelim. Varlıkların sayısını tahmin edelim.

Varlıkları sayarak gerçek sonucu bulalım, yazalım.




Tahmini penguen sayısı:.....

Gerçek penguen sayısı:.....



Tahmini balık sayısı:.....

Gerçek balık sayısı:.....




Tahmini biber sayısı:.....

Gerçek biber sayısı:.....




Tahmini salyangoz sayısı:.....

Gerçek salyangoz sayısı:.....



Tahmini portakal sayısı:.....

Gerçek portakal sayısı:.....



Tahmini uçurtma sayısı:.....

Gerçek uçurtma sayısı:.....



Tahmini pasta sayısı:.....

Gerçek pasta sayısı:.....




Tahmini şapka sayısı:.....

Gerçek şapka sayısı:.....



Tahmini kalem sayısı:.....

Gerçek kalem sayısı:.....



Tahmini kurbağa sayısı:.....

Gerçek kurbağa sayısı:.....



Tahmini çilek sayısı:.....

Gerçek çilek sayısı:.....



Tahmini kupa sayısı:.....

Gerçek kupa sayısı:.....




Tahmini çiçek sayısı:.....

Gerçek çiçek sayısı:.....




Tahmini kedi sayısı:.....

Gerçek kedi sayısı:.....




Tahmini top sayısı:.....

Gerçek top sayısı:.....



Tahmini civciv sayısı:.....

Gerçek civciv sayısı:.....



Tahmini balon sayısı:.....

Gerçek balon sayısı:.....



Tahmini kuş sayısı:.....

Gerçek kuş sayısı:.....