



























ÇARPMAYA GİRİŞ ETKİNLİĞİ

Adı Soyadı.....

İmza:.....

Nesnelerin sayısını örnekteki gibi sayarak ve yazarak bulalım.

								→ <input type="text" value="8"/>
1	2	3	4	5	6	7	8	
								→ <input type="text" value="..."/>
2	4	6						
								→ <input type="text" value="..."/>
...					
								→ <input type="text" value="..."/>
...			
								→ <input type="text" value="..."/>
...						
								→ <input type="text" value="..."/>
...			
								→ <input type="text" value="..."/>
...				
								→ <input type="text" value="..."/>
...		
								→ <input type="text" value="..."/>
...				

