

Adı : .....  
Soyadı: .....

## 2. Sınıf Matematik

## Tartma-1



Nesnelerin  
ağırlıklarını (kütle)  
*eşit kollu terazi* ile  
tartarak ölçeriz.

Nesnelerin ağırlıklarını  
*kilogram* olarak belirtiriz.  
Kilogram kısaca "*kg*" diye  
yazılabilir.

*Eşit kollu terazi*  
genelde pazarlarda  
kullanılır.

Bakkal ve marketlerde  
*elektronik terazi*  
kullanılır. Baskülle de  
kendi ağırlığımızı  
ölçebiliriz.



Kütle (ağırlık) ölçmeye yarayan aletlerin isimlerini eşleştiriniz.




*Elektronik  
terazi*

*Kantar*

*Eşit kollu  
terazi*

*Baskül*

Hangi ürünleri tartarak satın alırsınız?




Adı : .....  
Soyadı: .....


## 2. Sınıf Matematik

### Tartma-1


Ürünlerin ağırlıklarını (kütlesini) yazınız.




Çileğin ağırlığı .....kg




Domatesin ağırlığı .....kg



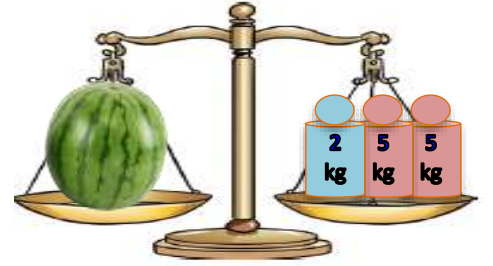
Muzun ağırlığı .....kg



Kavunun ağırlığı .....




Kabağın ağırlığı .....




Karpuzun ağırlığı .....




Deterjanın ağırlığı .....



Etin ağırlığı .....




Balıkların ağırlığı .....



Karpuzun ağırlığı .....



Muzun ağırlığı .....



Lahanaların ağırlığı .....