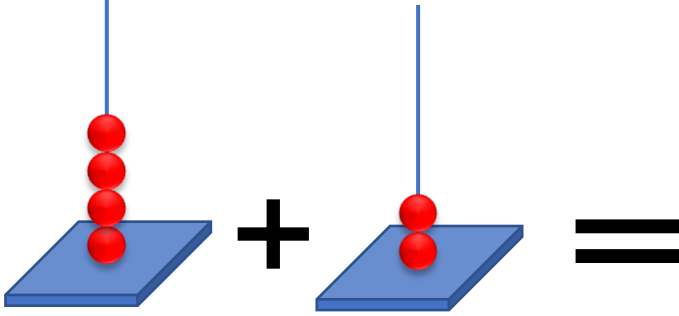
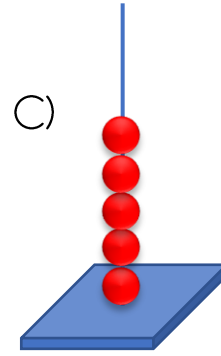
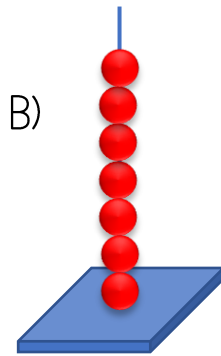
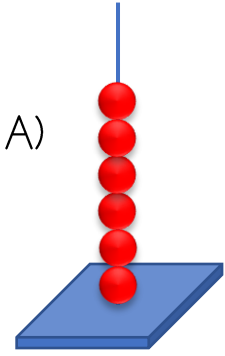


Aşağıdaki soruları dikkatlice okuyup doğru seçeneği işaretleyiniz.


1.



Yukarıda abaküsle yapılan toplama işleminin sonucu hangi abaküsteki gibi olur?



2.



Bahçemizdeki ağaçlardan birine 5, diğerine 4 kuş konmuştur. Bahçemizdeki ağaçlarda toplam kaç kuş vardır?

A) 8

B) 9

C) 10

3. Sınıfımızda 18 kız öğrenci vardı. Ara tatilden sonra 2 kız öğrenci daha geldi. Sınıfımızdaki kız öğrenci sayısı kaç olmuştur?

A) 20

B) 21

C) 22

4. Beslenme için annem çantama 1 portakal, 1 elma ve 1 adet de incir koymuştur. Beslenme çantamda toplam kaç adet meyve vardır?

A) 2

B) 3

C) 4

5. $7 + 2 = \triangle$

Yukarıdaki işlemde \triangle yerine yazılması gereken sayı aşağıdakilerden hangisidir?

A) 9

B) 10

C) 11

6. $11 + 5 = \heartsuit$

Yukarıdaki toplama işleminde \heartsuit yerine yazılması gereken sayı aşağıdakilerden hangisidir?

A) 14

B) 15

C) 16

7.

Sağ elimde 5 parmak
Sol elimde 5 parmak
Say bak, say bak, say bak
Hepsi eder \square parmak
Sen de istersen say bak
Say bak, say bak, say bak



Aysel

Aysel'in şarkısında \square yerine gelmesi gereken sayı aşağıdakilerden hangisidir?



A) 5

B) 10

C) 15

8.
$$\begin{array}{r} 2 \\ +2 \\ \hline \end{array}$$

$$\begin{array}{r} 3 \\ +3 \\ \hline \end{array}$$

Yukarıdaki toplama işlemlerinde  +  işleminin sonucu kaçtır?

A) 9

B) 10

C) 11

9.



Kâmil



Hayri



Akin

Mert'in doğum gününde annesi kalpli kurabiye yapmıştır. Kutlama sonrası çocukların tabaklarında kalan kurabiyeler yukarıda gösterilmiştir. Buna göre tabaklarda toplam kaç kurabiye kalmıştır?

A) 5

B) 6

C) 7

10.

$$\begin{array}{r} 12 \\ +4 \\ \hline \end{array}$$

Yukarıdaki işlemin sonucuna 4 eklersek hangi sayıya ulaşırız?

A) 16

B) 18

C) 20

1 A

2 B

3 A

4 B

5 A

6 C

7 B

8 B

9 C

10 C