


1.SINIF YAŞ PROBLEMLERİ



Bizler için dışarıya bir kap mama ve su koyar mısın?

Soru

Ali 6 yaşında, abisi ise 11 yaşındadır.
İkisinin yaşları toplamı nedir?

Cevap

Soru

Ayşe 5 yaşında, ablası ise 7 yaşındadır. Ablası Ayşe'den kaç yaş büyüktür?

Cevap

Soru

Ali 5 yaşındadır. 3 yıl sonra Ali kaç yaşında olacaktır?

Cevap

Soru

Ayşe'nin yaşı 7'dir. Ayşe 2 yıl önce kaç yaşındaydı?

Cevap





Bizler de sizler gibi canlıyız. Bizde korkuyoruz, üzüyoruz, hastalanıyoruz, canımız yanıyor. Tek farkımız bunu anlatamıyoruz. Lütfen bize iyi davranın.

Soru

Mehmet 6 yaşındadır. Zeynep ,
Mehmet'ten 4 yaş büyüktür.
Zeynep kaç yaşındadır?

Cevap

Soru

Ahmet 8 yaşında, Eda 7 yaşındadır.
2 yıl sonra ikisinin yaşlarının
toplamı kaç olur?

Cevap

Soru

Gül 11 yaşında, 4 yıl önce kaç
yaşındaydı?


Cevap

Soru

Ali 9 yaşındadır.. Kardeşi ise 5
yaşındadır. 3 yıl önce ikisinin
yaşları toplamı kaçtı?

Cevap





Bizi sevin ve merhamet edin.

Soru

Ayşe, 3 yaşındayken kardeşi doğdu. Ayşe şimdi 8 yaşında olduğuna göre, kardeşi kaç yaşındadır?

Cevap

Soru

Sude, 2 yıl sonra 9 yaşında olacak. Sude şimdi kaç yaşında?

Cevap

Soru

Barış'ın yaşı, 1 onluk 5 birlikten oluşan sayıdan 5 fazladır. Barış kaç yaşındadır?

Cevap

Soru

Ahmet 15 yaşındadır. Kardeşi ondan 6 yaş küçüktür. Ahmet'in kardeşi kardeşi kaç yaşındadır?

Cevap





Hayvanların da yavruları vardır. Hiçbir yavruyu annesiz bırakmayın.

Soru

Buse şimdi 9 yaşındadır. Abisi ondan 4 yaş büyüktür.. 3 yıl sonra abisi kaç yaşında olacak?

Cevap

Soru

Ceyda 3 yıl önce 8 yaşındaydı. Şimdi Ceyda kaç yaşında?

Cevap

Soru

Defne 2 yaşındayken, abisi 8 yaşındaydı. Şimdi Defne 7 yaşında olduğuna göre abisi kaç yaşında?


Cevap

Soru


Eda 4 yıl önce 5 yaşındaydı. Eda , 6 yıl sonra kaç yaşında olur?

Cevap





1.SINIF YAŞ PROBLEMLERİ



Bizler için dışarıya bir kap mama ve su koyar mısın?

Soru

Ali 6 yaşında, abisi ise 11 yaşındadır.
İkisinin yaşları toplamı nedir?

Cevap

Ali 11 yaşında
Abi 6 yaşında
 $11+6=17$ ikisinin yaşları toplamı

Soru

Ayşe 5 yaşında, ablası ise
Ayşe'den 7 yaş büyüktür. Ablası
kaç yaşındadır ?

Cevap

Ayşe 5 yaşında
Abla ?
 $5+7=12$ Ablanın yaşı

Soru

Ali 5 yaşındadır. 3 yıl sonra Ali
kaç yaşında olacaktır?

Cevap

Ali 5 yaşında
3 yıl sonra
 $5+3=8$ yaşında olur.

Soru

Ayşe'nin yaşı 7'dir. Ayşe 2 yıl önce
kaç yaşındaydı?

Cevap

Ayşe 7 yaşında
2 yıl önce
 $7-2=5$ yaşındaydı.





Bizler de sizler gibi canlıyız. Bizde korkuyoruz, üzüyoruz, hastalanıyoruz, canımız yanıyor. Tek farkımız bunu anlatamıyoruz. Lütfen bize iyi davranın.

Soru

Mehmet 6 yaşındadır. Zeynep ,
Mehmet'ten 4 yaş büyüktür.
Zeynep kaç yaşındadır?

Cevap

Mehmet 6 yaşında
 $6 + 4 = 10$ Zeynep'in yaşı.

Soru

Ahmet 8 yaşında, Eda 7 yaşındadır.
2 yıl sonra ikisinin yaşlarının
toplamı kaç olur?

Cevap

Ahmet $8 + 2 = 10$ yaşında
Eda $7 + 2 = 9$ yaşında
 $10 + 9 = 19$ İkisinin yaşları toplamı

Soru

Gül 11 yaşında, 4 yıl önce kaç
yaşındaydı?

Cevap

Gül 11 yaşında
 $11 - 4 = 7$ Gül'ün yaşı.


Soru

Ali 9 yaşındadır.. Kardeşi ise 5
yaşındadır. 3 yıl önce ikisinin
yaşları toplamı kaçtı?

Cevap

Ali $9 - 3 = 6$ yaşında
Eda $5 - 3 = 2$ yaşında
 $6 + 2 = 8$ İkisinin yaşları toplamı





Bizi sevin ve merhamet edin.

Soru

Ayşe, 3 yaşındayken kardeşi doğdu. Ayşe şimdi 8 yaşında olduğuna göre, kardeşi kaç yaşındadır?

Cevap

$9-2=7$ Sude'nin şimdiki yaşı

Soru

Sude, 2 yıl sonra 9 yaşında olacak. Sude şimdi kaç yaşında?

Cevap

$9-2=7$ Sude'nin şimdiki yaşı

Soru

Barış'ın yaşı, 1 onluk 5 birlikten oluşan sayıdan 5 fazladır. Barış kaç yaşındadır?

Cevap

$15 +5=20$ Barış'ın yaşı

Soru

Ahmet 15 yaşındadır. Kardeşi ondan 6 yaş küçüktür. Ahmet'in kardeşi olan kardeşi kaç yaşındadır?

Cevap

$15-6=9$ Kardeşinin yaşı.





Hayvanların da yavruları vardır. Hiçbir yavruyu annesiz bırakmayın.

Soru

Buse şimdi 9 yaşındadır. Abisi ondan 4 yaş büyüktür.. 3 yıl sonra abisi kaç yaşında olacak?

Cevap

$9+4=13$ Abinin yaşı
 $13+3=16$ yaşında olur.

Soru

Ceyda 3 yıl önce 8 yaşındaydı. Şimdi Ceyda kaç yaşında?

Cevap

$3+8=11$ yaşındadır.

Soru

Defne 2 yaşındayken, abisi 8 yaşındaydı. Şimdi Defne 7 yaşında olduğuna göre abisi kaç yaşında?

Cevap

Defne $7-2=5$ yaş büyüdü.
 $8+5=13$ abinin yaşı. (Abide 5 yaş büyür.)

Soru

Eda 4 yıl önce 5 yaşındaydı. Eda , 6 yıl sonra kaç yaşında olur?

Cevap

$4+5=9$ yaşındadır.
 $9+6=15$ yaşında olur.

