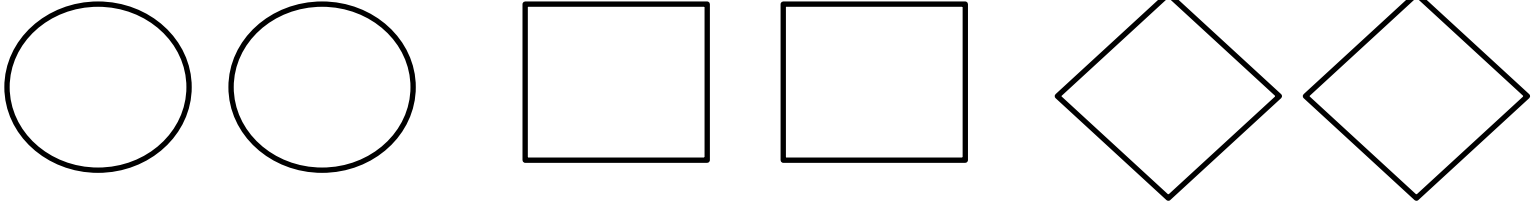


Adı:.....
Soyadı:.....

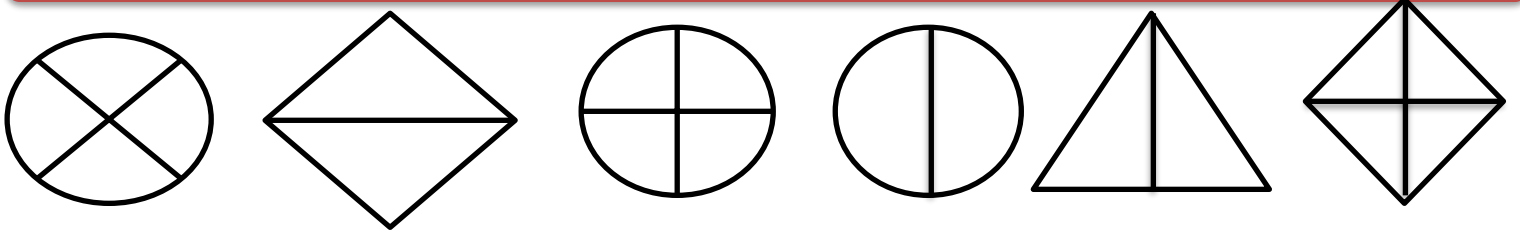
BÜTÜN YARIM ÇEYREK ETKİNLİĞİ

Veli imzası

Verilen şekilleri 2 ve 4 parçaya eşit olarak ayırınız ve boyayınız.



Verilen şekillerden yarıma ayrılmış olanları kırmızıya, çeyreğe ayrılmış olanları maviye boyayın.



Aşağıdaki yarımları birleştirerek bütün haline getirin. Toplam kaç bütün yaptığınızı yazın.



1 bütün = yarım

2 bütün = yarım

3 bütün = yarım

4 bütün = yarım

5 bütün = yarım

2 yarım=....bütün

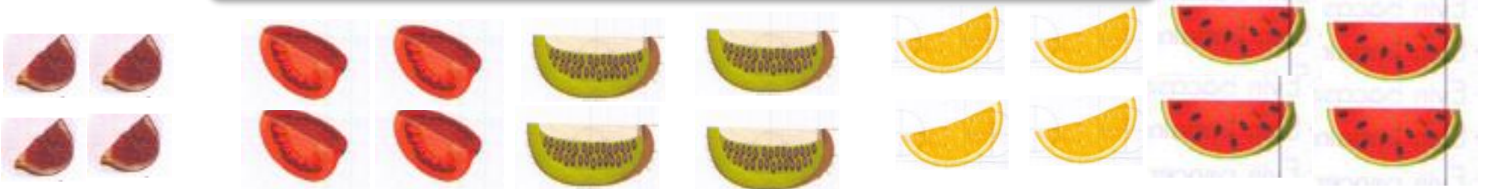
4 yarım=....bütün

6 yarım=....bütün

8 yarım=....bütün

10 yarım=....bütün

Aşağıdaki çeyreklerden kaç bütün olduğunu hesaplayın.



1 bütün =çeyrek

2 bütün =çeyrek

3 bütün =çeyrek

4 bütün =çeyrek

5 bütün =çeyrek

4 çeyrek:....bütün

8 çeyrek:....bütün

12 çeyrek:....bütün

16 çeyrek:....bütün

20 çeyrek:....bütün