

Adı:.....  
Soyadı:.....

MATEMATİK  
ÇARPMA ve BÖLME TESTİ

D:.....Y:.....  
Not:.....

1. 
$$\begin{array}{r} 3 \\ \times 3 \\ \hline \end{array}$$
 → 
$$\begin{array}{r} \square \\ \times 2 \\ \hline \end{array}$$

Yandaki işlemlere göre  $\triangle$  kaç olur?

- A. 18 B. 12 C. 15

2.  $8 \times 3 = \dots \times \dots$

Yukarıdaki işlemlere göre boş yere hangi işlem gelemez?

- A.  $6 \times 4$  B.  $9 \times 3$  C.  $24 \times 1$

3.  $24 \div 3$   $40 \div 5$

$36 \div 4$

Ailede hangilerinin işlemlerinin sonucu aynıdır?

- A. anne – kız B. anne – baba C. baba – kız

4.  $4 + 4 + 4 + 4 + 4$

Yukarıdaki tekrarlı toplama işleminin çarpma şeklinde yazılışı hangisidir?

- A.  $5 \times 4$  B.  $4 \times 4$  C.  $4 \times 5$

5.  $21 \div 3 = 7$   $18 \div 2 = 9$

$32 \div 4 = 7$   $35 \div 5 = 8$

Verilen işlemlerden doğru olanları boyarsak nasıl bir şekil ortaya çıkar?

- A. 


 B. 


 C. 


6. 
$$\begin{array}{c} 2 \\ 6 \quad A \end{array}$$

Yandaki sayıların çarpımının A'ya bölümü 4'tür. Buna göre A kaçtır?

- A. 3 B. 4 C. 5

7. 
$$\begin{array}{c} 16 \div 2 \\ 4 \times A \quad 8 + B \end{array}$$

Yanda bütün işlemlerin sonuçları birbirine eşit olduğuna göre

$A \times B = ?$

- A. 2 B. 0 C. 1

8.  $6 \times 3$   $9 \times 2$

$5 \times 4$



Ailede hangisinin söylediği işlemin sonucu diğerlerinden daha fazladır?

- A. anne B. baba C. kız

9. 
$$\begin{array}{r} A \overline{) 4} \\ \underline{\phantom{0}} \\ 6 \\ \phantom{0} \end{array}$$

Yandaki işleme göre  $(A \div 3)$  kaç olur?

- A. 24 B. 8 C. 7

10.  : 6 TL  : 9 TL

Oyuncaklardan iki tane alan Eymen, kaç TL öder?

- A. 15 B. 20 C. 30

0, ile çarpımın sonucu her zaman 0 olur.

11. 1, ile çarpımın sonucu her zaman 1 olur.

Toplama, çarpmanın kısa yoldan yapımıdır.


Doğru olanları boyarsak nasıl bir şekil ortaya çıkar?



12. 1.  $7 \times 0 = 0$   
2.  $8 \times 1 = 9$   
3.  $10 \times 2 = 5 \times 4$   
4.  $9 \times 1 = 9$

Yandaki işlemlerden kaç tanesi doğrudur?

- A. 4 B. 3 C. 2

13.  Bir sayının 0 ile çarpımı ne olur?

Bir sayının 0 ile çarpımı ne olur?

- A. Sonuç değişmez B. Çarpım 0 olur.  
C. Çarpım 1 olur.

14. 
$$\begin{array}{r} 8 \\ \times A \\ \hline 8 \end{array}$$
 
$$\begin{array}{r} 9 \\ \times B \\ \hline 0 \end{array}$$
 
$$\begin{array}{r} C \\ \times 1 \\ \hline 2 \end{array}$$

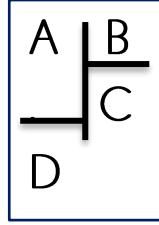
Yanda verilen işlemlere göre hangisi doğrudur?

- A. A=1 B=0 C=2 B. A=0 B=1 C=2  
C. A=1 B=2 C=0

15.  $12 - 3 = 9$   
 $9 - 3 = 6$   
 $6 - 3 = 3$   
 $3 - 3 = 0$



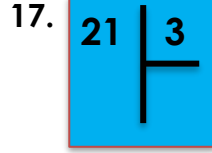
Yanda verilen çıkarma işleminin bölme şeklinde yapımı hangisidir?

- A.  $12 \div 4$  B.  $12 \div 3$  C.  $12 \div 2$



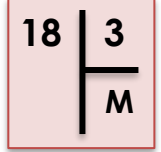
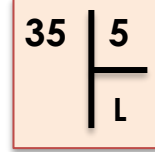
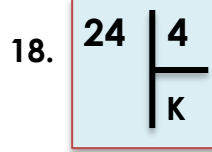
Yanda verilenlere göre hangisi doğrudur?

- A. B; bölümdür. B. C; bölenidir  
C. A; bölünendir.



Hangi renk işlemlerin sonucu aynıdır?

- A. Mavi – Sarı B. Kırmızı – Mavi  
C. Kırmızı – Sarı



Yukarıda verilenlere göre hangisi yanlıştır?

- A. K = 6 B. M = 6 C. L = 6

x	6	7
5	A	B
4	C	D

Yanda verilenlere göre 19. ve 20. Soruları yapınız.

19. Yukarıda verilenlere göre hangisi yanlıştır?

- A. A + B = 65 B. C + D = 42 C. A + D = 58

20. Yukarıda verilenlere göre, hangisi yanlıştır?

- A. C ÷ 3 = 8 B. A ÷ 5 = 6 C. D ÷ 4 = 8