



Adı:.....
Soyadı:.....

BÜTÜN YARIM ÇEYREK TESTİ

D:.....Y:.....
Not:.....

1.  Yanda verilen şekil hangisini göstermektedir?

A. bütün B. çeyrek C. yarım

2.  5 elmayı çeyreklere ayırıp her dilimini bir öğrenciye verdim.


Buna göre sınıfta kaç öğrenci vardır?

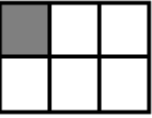


A. 20 B. 15 C. 10

3. 

Yukarıda kaç çeyrek ekmek vardır?

A. 12 B. 6 C. 8


4.  Aşağıdakilerden hangisi bir çeyreği göstermektedir?

A.  B.  C. 

5. 8 çeyrek ile 4 bütün birbirine eşittir.
12 yarım ile 6 bütün birbirine eşittir.
6 yarım ile 12 çeyrek birbirine eşittir.

Verilenlerden kaç tanesi doğrudur?

A.3 B. 2 C. 1

6.  Yandaki çeyrek ekmekler kaç yarım ekmek eder?

A. 4 B. 6 C. 8


7. 12 çeyrek = 4 bütün

3 yarım = 12 çeyrek

4 bütün = 8 yarım

Hangi renkte verilen ifade doğrudur?

A. Kırmızı B. mavi C. sarı

8.  Yandaki elmalar için hangisi yanlıştır?

A. 24 çeyrek vardır. B. 6 yarım vardır.
C. 3 bütün vardır.

9.  8 çeyrek 2 bütün 4 yarım

Çocukların söylediği toplam kaç bütün eder?

A. 6 B. 14 C. 8

10.  Dört çocuk, üç elmayı çeyreklere ayırıp paylaşacaklar. Her birine kaç dilim düşer?

A. 4 B. 3 C. 2

11.

12 eyrek
elma

Yukarıdaki ocukların hangilerinde eşit miktarda elma vardır?

- A. Cem – Ece B. Cem – Can
C. Ece – Can

12.



Yukarıda kaç eyrek elma vardır?

- A. 8 B. 12 C. 6

13.



Yandaki boyalı kesim hangisini göstermektedir?

- A. bütn B. yarım C. eyrek

14.

12 eyrek	4 bütn
8 yarım	3 bütn

Yukarıda birbirine eşit olanları boyarsak hangi şekil ortaya çıkar?

- A. B. C.

15.

6 yarım ve 4 eyrek bütn eder.

Yukarıda boş yere kaç gelmelidir?

- A. 10 B. 4 C. 5

16.



Yukarıdaki görsel için hangisi yanlıştır?

- A. 4 yarım vardır. B. 3 bütn vardır.
C. 8 eyrek vardır

17.

5 bütn



16 eyrek

10 yarım

Ailede hangisinin söylediđi diđerlerinden daha azdır?

- A. anne B. baba C. kız

18.



8 eyrek, 6 yarım ve 2 bütn ekmek yiyen adam hastaneye kaldırıldı sayın seyirciler.

Buna göre adam, kaç bütn ekmek yemiştir?

- A. 7 B. 6 C. 16

19.

1 yarım =eyrek

Yukarıda boş yere hangisi gelmelidir?

- A. 2 B. 4 C. 1

20.



Verilenlerden hangisi yanlıştır?

- A. 8 eyrek, 4 yarımından fazladır.
B. 3 bütn, 6 yarımına eşittir.
C. 10 yarım, 6 bütnden azdır.