

PARALARIMIZ ETKİNLİĞİ

Adı Soyadı.....

Veli İmzası.....

Çocukların verilen ürünleri almak için kaç TL'ye ihtiyaçları olduğunu hesaplayın.

 Zeynep
..... TL'ye ihtiyacı var. **₺75**

 Filiz
..... TL'ye ihtiyacı var. **₺47**


 Ömer
..... TL'ye ihtiyacı var. **₺95**

 Emel
..... TL'ye ihtiyacı var. **₺14**









 Berk
..... TL'ye ihtiyacı var. **₺85**

 Selim
..... TL'ye ihtiyacı var. **₺83**

 Rüya
..... TL'ye ihtiyacı var. **₺98**

 Ali
..... TL'ye ihtiyacı var. **₺77**

Yapılan harcamaları hesaplayalım.

ÖRÖNLER	FİYAT	SATILAN ADET	TOPLAM FİYAT (işlem)
	7 TL	Öğleden önce: 3 Öğleden sonra: 2	
	6 TL	Öğleden önce: 5 Öğleden sonra: 4	
	5 TL	Öğleden önce: 7 Öğleden sonra: 9	
	4 TL	Öğleden önce: 8 Öğleden sonra: 7	
	10 TL	Öğleden önce: 2 Öğleden sonra: 4	
	8 TL	Öğleden önce: 5 Öğleden sonra: 4	
	15 TL	Öğleden önce: 1 Öğleden sonra: 1	
	10 TL	Öğleden önce: 5 Öğleden sonra: 4	