




Aşağıdaki soruları yandaki şekilleri inceleyerek cevaplandırınız.

Yandaki şekilde kaç tane üçgen görüyorsunuz?




.....

Yandaki şekilde kaç tane kare görüyorsunuz?



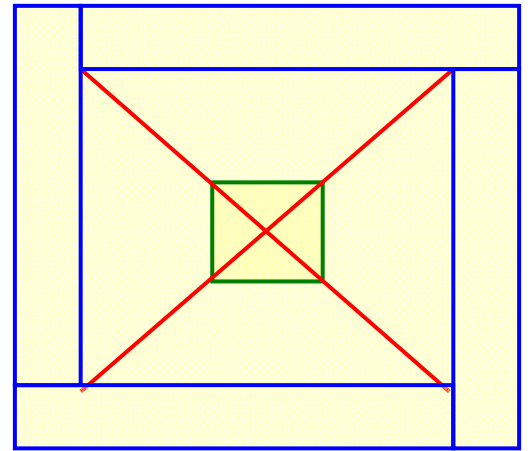
.....

Yandaki şekilde kaç tane dikdörtgen görüyorsunuz?



.....

Yandaki şekilde kaç tane üçgen, kaç tane kare, kaç tane dikdörtgen



Kare sayısı : .....

Üçgen sayısı : .....

Dikdörtgen sayısı : .....